



# ADİYAMAN İL MİLLÎ EĞİTİM MÜDÜRLÜĞÜ

## KAZANIM PEKİŞTİRME ÇALIŞMASI

LIFE FITS INTO HOME

HAYAT EVE SIĞAR



4. SINIF  
11-16 MAYIS

4.  
SAYI

## **BU KİTAPÇIKTA**

TÜRKÇE	15 SORU
MATEMATİK	15 SORU
FEN BİLİMLERİ	15 SORU
SOSYAL BİLGİLER	15 SORU
İNGİLİZCE	10 SORU
DİN KÜLTÜRÜ	10 SORU

Yer almaktadır.

Not: Cevap anahtarı soruların yayımlandığı günden sonraki pazartesi günü <http://adiyaman.meb.gov.tr/> duyurular sekmesinde açıklanacaktır.

Bu çalışmada yer alan Borsa İstanbul ilkokulu, Cumhuriyet İlkokulu, Mehmetçik İlkokulu, Menderes İlkokulu idareci ve öğretmenlerine teşekkürler...

ADİYAMAN MEM

2020

## 4. SINIF KAZANIM PEKİŞTİRME TESTİ

### TÜRKÇE DERSİ

1. Aşağıdaki cümlelerin hangisinde belirtilen eylem şu anda yapılıyor?

- A) Müzik dinliyorum.
- B) Ödevimi yapmadım.
- C) Akşam film izleyeceğim.
- D) Kalemimi unutmuş.

2. Aşağıdakilerden hangisi kişiden kişiye değişir?

- A) İstiklal Marşı milli marşımızdır.
- B) En sıcak mevsim yazdır.
- C) Atatürk Selanik'te doğdu.
- D) En güzel renk kırmızıdır

3. "Yürütmek" sözcüğü, hangi cümlede farklı anlamda kullanılmıştır?

- A) Kardeşimi elinden tutup yürüttüm.
- B) Babam, bizim evin işlerini yürütür.
- C) Arkadaşlarımı, saatlerce suda yürüttüm.
- D) Hep birlikte, tören alanına doğru yürüdük.

4. Aşağıdaki atasözlerinden hangisi anlamı bakımından farklıdır?

- A) Üzüm üzüme baka baka kararır.
- B) Körle yatan şaşı kalkar.
- C) Kır atın yanında duran, ya huyundan ya suyundan.
- D) Davul bile dengi dengine çalar.

5. Aşağıdakilerden hangisi sözlükte önce gelir?

- A) kalem
- B) portakal
- C) kağıt
- D) ülke

6. Atatürk:( ) Hayatta en hakiki mürşit ilimdir ( ) ( ) demiştir.

Bu cümlede parantezle belirtilen yerlere hangi noktalama işaretleri gelmelidir?

- A) ( : ) ( . ) ( " )
- B) ( " ) ( . ) ( " )
- C) ( " ) ( ! ) ( " )
- D) ( " ) ( , ) ( " )

7. Aşağıdaki altı çizili sözcüklerin hangisi terim anlamıyla kullanılmıştır?

- A) Köşkün parlayan camları dikkatini çekti.
- B) Parmağıyla yoldan geçen bir adamı gösterdi.
- C) Şarkının notaları sazın tellerinde yankılanıyordu.
- D) Halı döşeli merdiveni, kucağında kedisıyla çıktı.

8. Hangi cümledeki virgülün kaldırılması cümlenin anlamını değiştirmez?

- A) İhtiyar, satıcıya dikkatle baktı
- B) Ağaç, doğanın süsüdür.
- C) Küçük, kaptana bir şeyler söylemek istedi.
- D) Şişman, kediği görünce şaşırdı.

9. "( 1 ) Aile, toplumun en küçük birimidir. ( 2 ) Anne , baba ve çocuklardan oluşur. ( 3 ) Babam bana bisiklet aldı. ( 4 ) Bazen ailede dede ve büyükanne de bulunabilir. ( 5 ) Biz bu tür ailelere geniş aile deriz."

Yukarıdaki paragrafta numaralandırılmış cümlelerden hangisi konunun akışını bozmaktadır?

- A) 1
- B) 2
- C) 3
- D) 4

10. Aşağıdaki cümlelerin hangisinde mecaz anlamlı sözcük yoktur?

- A) İstanbul'u dinliyorum gözlerim kapalı.
- B) Tatlı dilli bir öğretmendi.
- C) Sen bu yemekle doymazsın
- D) Onun halini görünce içim ezildi.

11. "Önceleri okumaya hikaye kitaplarıyla başladım. Zamanla zevklerim değişti. Artık farklı türlerde kitaplar da okuyorum. Özellikle roman okumaya bayılıyorum."

**Yukarıdaki sözleri söyleyen bir kişi için aşağıdakilerden hangisi söylenemez?**

- A) Kitap okuma alışkanlığı edinmiştir.
- B) Okumaya hikaye kitapları ile başlamıştır.
- C) Roman okumayı çok sevmektedir.
- D) Zamanla okuduğu kitap türlerinde hiçbir değişiklik olmamıştır.

12. Aşağıdaki kelimelerin hangisine ünlü ile başlayan bir ek geldiğinde yumuşama olmaz?

- A) kiraz                      B) tavuk
- C) ağaç                      D) kitap

13. Aşağıdaki cümlelerin hangisinde sebep-sonuç ilişkisi vardır?

- A) Kutunun içinde ne vardı acaba?
- B) Gözlerinin içine bakıp konuştu.
- C) Boyu kısa olduğundan musluğa yetişemiyor.
- D) Seninle oyun oynamaktan hoşlanıyorum.

14. Aşağıdaki cümlelerin hangisinde "da, de"nin yazımı yanlıştır?

- A) Bugün okulda yaşananlar onu çok üzmüştü.
- B) Hesabını iyi yaparsa ev de alabilir.
- C) Evde iki tane kedi besliyordu.
- D) Sevsende sevmesende katlanacaksın.

15. Okul servisi okula "yakın" bir yerde bizi indiriyor.

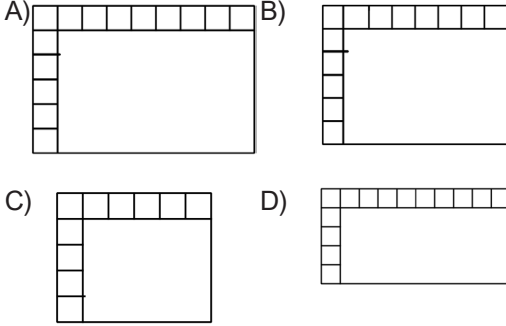
**Cümlesindeki tırnak işareti ile belirtilen sözcüğün karşıt anlamlısı hangi cümlede kullanılmıştır?**

- A) Davulun sesi uzaktan hoş gelir.
- B) Pek uzun bir süre sayılmaz.
- C) Bizim evin manzarası çok güzeldir.
- D) Kimseye kötülük etmezdi.

## 4. SINIF KAZANIM PEKİŞTİRME TESTİ

### MATEMATİK DERSİ

1. Aşağıdaki dikdörtgensel bölgelerden hangisinin alanı 54 birimkaredir?



2. Çevresi 92 birim olan karenin alanı kaç birimkaredir?

- A) 629 B) 144  
C) 529 D) 288

3. Çevresi 104 cm ve kısa kenarı aynı rakamlardan oluşan iki basamaklı en küçük çift sayıdır.

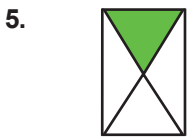
Buna göre bu dikdörtgensel bölgenin alanı kaç santimetrekaredir?

- A) 960 B) 900  
C) 660 D) 252

4. Uzun kenarı 36 cm, kısa kenarı 24 cm olan bir dikdörtgenin çevresi karenin çevresine eşittir.

Buna göre karenin alanı kaç santimetrekaredir?

- A) 120 B) 480  
C) 900 D) 240




Yukarıdaki şekilde boyalı kısmın alanı 12 birimkaredir.

Buna göre şeklin tamamının alanı kaç birimkaredir?

- A) 36 B) 48  
C) 144 D) 24

6. 48 birim



Yukarıdaki dikdörtgen şeklindeki zemine 4 birimkarelik fayanslardan döşeme yapılacaktır.

Buna göre kaç fayans döşenir?

- A) 144 B) 120  
C) 30 D) 12

7. 

Kenar uzunlukları 9 birim olan kare şeklindeki 3 karton yan yana diziliyor.

Oluşan yeni şeklin alanı kaç birimkaredir?

- A) 81 B) 162  
C) 243 D) 72

8. 13 birim



Dikdörtgen şeklindeki kartondan kenar uzunluğu 5 birim olan kare şeklinde bir parça kesiliyor. Geriye kalan kartonun alanı kaç birimkaredir?

- A) 25 B) 60  
C) 79 D) 114

9. Çevresi 70 cm olan bir dikdörtgenin kısa kenarı 15 cm'dir. Bu dikdörtgenin alanı kaç santimetrekaredir?

- A) 85 B) 170  
C) 300 D) 150

**10.**




Yukarıdaki dikdörtgenin ve karenin birim kenar uzunlukları verilmiştir.

**Buna göre aşağıdaki ifadelerden hangisi yanlıştır?**

- A) Karenin çevresi 28 birimdir.
- B) Dikdörtgenin çevresi karenin çevresinden büyüktür.
- C) Dikdörtgenin alanı karenin alanından büyüktür.
- D) Dikdörtgenin alanı 19 birim karedir.

11.

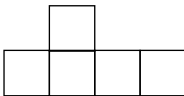


Yukarıdaki şekil iki kare kullanılarak oluşturulmuştur. Büyük karenin çevresi 36 birim, küçük karenin çevresi 24 birimdir.

**Buna göre boyalı alan kaç birimkaredir?**

- A) 45                  B) 12  
C) 55                  D) 60

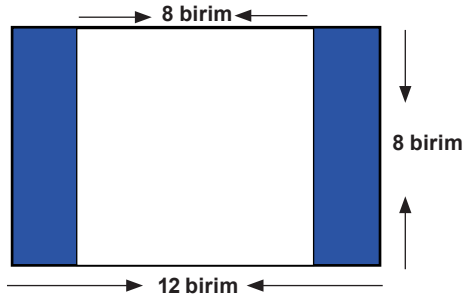
12.



Eş kareler kullanılarak oluşturulan yukarıdaki şeklin çevresi 72 birim olduğuna göre şeklin alanı kaç birimkaredir?

- A) 360                  B) 180  
C) 144                 D) 96

13.

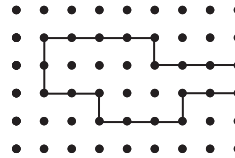


Yukarıdaki şekil kare ve dikdörtgen kullanılarak oluşturulmuştur.

**Buna göre boyalı bölgenin alanı kaç birimkaredir?**

- A) 24                  B) 32  
C) 36                  D) 64

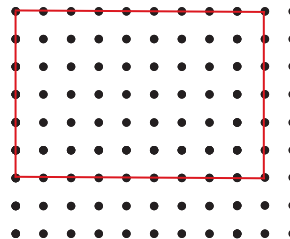
14.



Yukarıdaki şeklin alanının yarısı kaç birim karedir?

- A) 14                  B) 12  
C) 9                    D) 7

**15.**



**Verilen şeklin alanını bulmak için hangi işlem yapılır?**

- A)  $8 \times 10$                       B)  $9 \times 6$   
C)  $2 \times (9 + 6)$                   D)  $(6 \times 2) + (9 \times 2)$

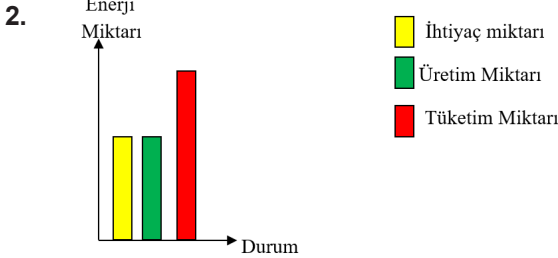
## 4. SINIF KONU KAZANIM TESTİ

### FEN BİLİMLERİ DERSİ

1. Taylan'ın babası elektrik faturası geldiğinde "Bu ay faturamız çok yüksek gelmiş. Bazı tasarruf önlemleri almalıyız." demiştir.

**Aşağıdakilerden hangisi bu önlemlerden biri olamaz?**

- A) Bulaşık makinesini tam doldurmadan çalıştırmayalım.
- B) Boşa yanan lambaları kapatalım.
- C) Kullanmadığımız elektrikli araçları açık bırakmayalım.
- D) Hafta sonları buzdolabını çalıştırmayalım.



**Bir ülkenin elektrik enerji durumunu özetleyen yukardaki grafiğe göre aşağıdakilerden hangisine ulaşılabilir?**

- A) Elektrik üretimi sanayi için yeterlidir.
- B) Elektrik aydınlatmada kullanılmamıştır.
- C) Tüketime ihtiyaçtan fazla olması tasarruflu kullanılmamasıdır.
- D) En çok güneş enerjisinden yararlanılarak üretim yapılmıştır.

3. Ali: Eski ampullerimizi tasarruflu olanlarla değiştirdik.

**Ece:** Annem pazardan aldığı fazla domatesi salça yaptı.

**Okan:** Hava bugün sıcak olduğu için kombinin derecesini düşürdüm.

**Aşağıdakilerden hangisi yukardaki konuşmalarda geçen kaynağın tasarruflu kullanılmasından bahsedilmemiştir?**

- A) Gıda
- B) Su
- C) Doğalgaz
- D) Elektrik

4. Bilim insanlarının yaptığı çalışmalara göre 2030 yılında barajlardaki sular tükenmiş olacak. Bu nedenle elektrik de üretilmeyecek. İnsanlar içme suyu konusunda sıkıntılar yaşayacaktır.

**Yukarıda verilen gazete haberine göre olayın nedeni hangisi olabilir?**

- A) Kaynakların tutumlu kullanılmaması
- B) Havaların çok sıcak olmaması
- C) Yağışların fazla olması barajların taşması
- D) Barajların küçük olması

5. Kaynakları tutumlu kullanan bir kişi aşağıdaki davranışlardan hangisini yapmaz?

- A) Yıkılırken suyu boşa harcamaz.
- B) Gereksiz yere yanan lambaları söndürür.
- C) Besinleri çöpe atmaz.
- D) Bahçedeki ağaç ve bitkileri her gün sular.

### 6. Elektrik Tüketim Miktarı

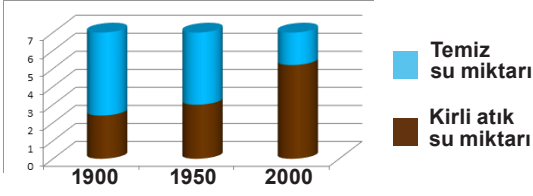


Yukarıda cam şişe imalatının ilk süreci ve geri dönüşüm sürecinde tüketilen elektrik miktarları verilmiştir.

**Grafiğe göre hangisi yapılırsa elektrik tüketim miktarı azalır?**

- A) Geri dönüşüm miktarının artırılması
- B) İlk imalat sürecinin uzatılması
- C) Maden arayışlarının artırılması
- D) İlk imalat yapan fabrikaların artırılması

7.



Yukarıda, kirliliğe bağlı olarak içilebilir su miktarının yıllara göre değişimi verilmiştir.

**Bu grafiğe göre aşağıdakilerden hangisine ulaşamaz?**

- A) Geçmişten günümüze kirli atık su miktarı artmıştır.
- B) 2000 yılındaki temiz su miktarı, önceki yıllara göre daha azdır.
- C) 1900 yılında temiz su, kirli atık suyundan fazladır.
- D) Son yıllarda su, tasarruflu kullanılmıştır.

**8. Aşağıdakilerden hangisi bilinçli bir tüketicinin yapacağı davranışlardan değildir?**

- A) Alışverişten sonra fiş istemek.
- B) Reklamı çok yapılan ürünü almak.
- C) Son kullanma tarihine bakar.
- D) Garanti belgesini istemek.

**9. I. Yağmur sularının geri dönüşümü yapılarak bahçe sulamada kullanabiliriz.**

**II. Fazla ve yıpranmamış kıyafetlerimizi ihtiyaç sahiplerine ulaştırabiliriz.**

**III. Fazla ekmekleri doğrayıp kurutarak çorbalarımıza katabiliriz.**

**IV. Kullandığımız kâğıtları sobada yakabiliriz.**

**Yeniden kullanım ile ilgili olarak yukarıda verilenlerden hangisi doğrudur?**

- A) I ve II
- B) I ve III
- C) I, II ve III
- D) I, II, III ve IV

**10. İnsanlar giderlerini, gelirlerine göre ayarlamalıdır. Harcamaları geliri aşmamalı, imkânlar zorlanmamalıdır. Açıklamasına uygun "Ayağını yorganına göre uzat!" deriz.**

**Buna göre, aşağıdaki durumların hangisinde ayağın yorgana göre uzatılmadığı anlaşılmaktadır?**

- A) Evdeki ekmekler bayatlamadan her alışverişte ekmek alınması
- B) Gereksiz yanan lambaların söndürülmesi
- C) Bahçedeki bitkiler için damla sulama sistemi kurulması
- D) İhtiyacı kadar su tüketiminin yapılması

**11. Mert, oyuncak uçağının kanadı kırılrsa da oyuncaklarını atmamış ve bu kanadı başka kırılan bir parçayla birleştirerek oynayacak bir oyuncak tasarlamıştır.**

**Mert'in yaptığı bu davranış için aşağıdaki ifadelerden hangisi yanlıştır?**

- A) Kaynakların tasarruflu kullanımına katkı sağlar.
- B) Yeniden kullanım kategorisinde değerlendirilir.
- C) Ev ekonomisine katkı sağlar.
- D) Suyun tasarruflu kullanılmasını sağlar.

**12. Umut: Mutfaktaki çöp kutusu dolunca bahçeye dökerim.**

**Ayşe: Kullanılmış pilleri, okuldaki atık pil kutusuna atarım.**

**Cem: Kullandığım test yapraklarını çöp kutusuna atarım.**

**Yukarıdaki öğrencilerden hangisi veya hangilerinin söyledikleri davranışlar çevre sağlığı için uygundur?**

- A) Ayşe
- B) Umut
- C) Cem
- D) Umut ve Cem

13. Bilinçli bir tüketici olmak, insanlığın ve doğanın daima var olabilmesi için çok önemlidir. Her insanın içerisinde yer aldığı topluma karşı var olan sorumluluklarından bir tanesi de bilinçli bir tüketici olmaktır.

**Bu sözlerden hareketle aşağıdaki durumlardan hangisi ters düşer?**

- A) İhtiyaçlarımız kadar alışveriş yapılması
- B) Tabağımıza yiyeceğimizden fazla besin konulması
- C) Kullanmadığımız ışıkların söndürülmesi
- D) Bozulan muslukların tamir edilmesi

14. Aşağıdakilerden hangisinin toprakta kalıcı kirlenmeye yol açtığı söylenemez?

- A) Tarım ilaçlarının kullanımı
- B) Sanayi ve fabrika atıkları
- C) Yiyecek atıkları
- D) Ambalaj atıkları

15.



Menderes İlkokulu'nun bahçesine ve koridorlarına yukarıdaki kovalar konulmuştur.

**Okul müdürlüğünün ayrı ayrı kovaları koymasının nedeni aşağıdakilerden hangisi olabilir?**

- A) Çöp kovalarını farklı renklerde yapmak istedikleri için
- B) Okulda çok fazla çöp çıkmasını engellemek için
- C) Geri dönüşüm bilinci kazandırmak için
- D) Öğrencilerin renkleri seveceklerini düşündükleri için

#### 4. SINIF KAZANIM PEKİŞTİRME TESTİ

##### SOSYAL BİLGİLER DERSİ

1. **I.** Toplumlar bağımsız olduğu sürece huzur içinde yaşar.  
**II.** Bağımsızlık ve özgürlük ülkemizin en önemli değeridir.  
**III.** Ulusal egemenliğe dayanan yönetim şekline Cumhuriyet denir.  
**Yukarıdaki bilgilerden hangisi veya hangileri doğru ifadedir?**

A) **Yalnız I**                      B) **I ve II**  
C) **II ve III**                      D) **I, II ve III**

2. 23 Nisan 1920'de TBMM açıldı. Meclis, milli egemenliği gerçekleştirirken Milli Mücadele'yi de yönetmiştir. Milli Mücadele'nin kazanılmasında TBMM büyük başarılar elde etmiştir. 29 Ekim Cumhuriyet'in ilanı ile Türkiye Cumhuriyeti resmen kurulmuştur.

**Yukarıdaki açıklamaya göre aşağıdakilerden hangisine ulaşmaz?**

A) TBMM'nin milli egemenliği gerçekleştirdiğine  
B) 23 Nisan 1920'de Türkiye Cumhuriyeti'nin kurulduğuna  
C) Meclisin Milli Mücadeleyi yönettiğine  
D) TBMM'nin açılmasıyla milletin yönetimde etkili olduğuna

3. "Ne kadar zengin ve refah içinde yaşarsa yaşasın, bağımsızlıktan yoksun bir ulus, uygar insanlık karşısında uşak olmaktan öteye gidemez."

**Mustafa Kemal ATATÜRK**

**Atatürk'ün yukarıdaki sözüne göre aşağıdakilerden hangisine ulaşılır?**

A) Zengin toplumlar özgürlük içinde yaşar.  
B) Bağımsızlık ancak refah içinde yaşamakla olur.  
C) Bağımsız olan uluslar özgürce yaşar.  
D) Bağımsız olmayan, çağdaş bir hayat sürer.

4. Bağımsız bir ülkenin vatandaşı olmasaydınız hangi özgürlüklerden yararlanamazdınız? Sorusunu soran bir kişiye hangi cevap verilirse yanlış olur?

A) Toplumda adaletsizlikler olur.  
B) Yaşantımızda kısıtlamalar olur.  
C) Toplum refah ve huzur içinde yaşar.  
D) Ülke her alanda geride kalır.

5. Çocukların hak ve özgürlüklerini tam olarak kullanabilmesi için, ülkenin tam bağımsız olması ile mümkündür.

**Savaşların ve karışıklığın olduğu bir ülkede çocuklar,**

**I.** Yeterli beslenme  
**II.** Güvenli bir yaşam  
**III.** Barınma  
**IV.** Oyun oynama

**Haklarından hangilerine tam olarak sahip olamazlar?**

A) **I ve II**                      B) **II ve III**  
C) **I, II ve III**                      D) **I, II, III ve IV**

6. Hastalıktan dolayı okula gidemeyen öğrenciler için, evde uzaktan eğitim hizmeti vermek, hangi hakkın devlet tarafından sağlandığı göstermektedir?

A) **Sağlık Hakkı**                      B) **Eğitim Hakkı**  
C) **Barınma Hakkı**                      D) **Yaşama Hakkı**

7. Vatani en çok seven, görevini en iyi şekilde yapar.

**Atatürk'ün bu sözünden aşağıdakilerden hangisine ulaşamaz?**

A) Ülkemiz için herkesin çok iyi çalışması  
B) Devlete karşı sorumluluklarımızın olması  
C) Sadece kendi çıkarlarımız için çalışılması  
D) Vatana sevgiyi, çalışmakla gösterilmesi

8. **I** – Kendi kendini özgürce yönetebilme.  
**II** – Dış işlerinde başka devletlere bağlı olmama  
**III** – Bireylerin özgürlüklerini rahatça kullanabilme  
**IV** – Toprak bütünlüğünün bulunmaması

**Yukarıdakilerden hangisi bağımsız bir ülkenin özelliklerindendir?**

- A) **I ve II**                      B) **I ve IV**  
 C) **I, II ve III**                D) **II ve III**

9. 15 Temmuz darbe girişimi karşısında halk, darbecilere karşı sokağa çıkarak hangisini korumak istemiştir?

- A) Ülkemizin bağımsızlığını  
 B) Uluslararası ilişkileri  
 C) Kişisel çıkarlarını  
 D) Dünya barışını

10. Osmanlı Devleti padişah tarafından yönetiliyordu. Padişahlık babadan oğula geçiyordu.

**Buna göre Osmanlı Devleti'nde aşağıdakilerden hangisinden söz edilemez?**

- A) İnsanların özgürlüğünden  
 B) Ülkenin bağımsızlığından  
 C) Milletin egemenliğinden  
 D) Tek kişinin hâkimiyetinden

11. Yurdumuz 1918 yılından itibaren düşmanlar tarafından işgal edilmeye başlandı. Türk Milleti bu işgalleri engellemek için birlik içinde mücadeleye başladı.

**Bu mücadele aşağıdakilerden hangisinin kazanılması için yapılmıştır?**

- A) bağımsızlık                B) egemenlik  
 C) demokrasi                 D) cumhuriyet

12. Aşağıdakilerden hangisi bireysel özgürlüğü ifade etmez?

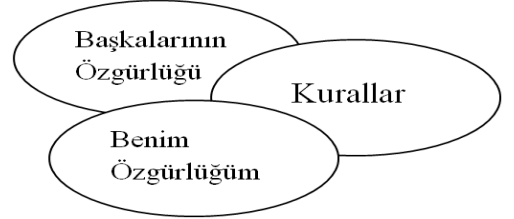
- A) Kişinin istediği mesleği seçme  
 B) Düşüncelerini özgürce ifade etme  
 C) İsteddiği yere seyahat etme  
 D) Özgürlüğünü kullanırken başkasının özgürlüğünü kısıtlama

13. **I.** Ulusun seçtiği yöneticilerle yönetilme  
**II.** Bayrağının ve marşının olması  
**III.** Başka bir devlet tarafından sömürülme

**Yukarıdaki ifadelerden hangisi veya hangileri bağımsız bir ülkeyi belirtir?**

- A) **Yalnız I**                      B) **I ve II**  
 C) **I ve III**                      D) **Yalnız III**

- 14.



**Yukarıdaki şemada anlatılmak istenen hangi seçenekte verilmiştir?**

- A) Özgürlükler sınırsız değildir.  
 B) Başkalarının özgürlüğü önemsizdir.  
 C) Kurallar özgürlükleri engellemez.  
 D) Özgürlükler sınırsızdır.

15. "TBMM ulusal egemenliği temsil eden bir kurumdur." diyen biri Meclisin hangi özelliğine değinmiştir?

- A) Milli mücadele sırasında açılmasına  
 B) Meclis üyelerinin millet tarafından seçilmesine  
 C) Ankara'da açılmasına  
 D) Padişahın yönetimde olmasına

## 4. SINIF KONU KAZANIM TESTİ

### İNGİLİZCE DERSİ

1.



Görseli en iyi anlatan kelime aşağıdakilerden hangisidir?

- A) cheerful B) funny  
C) helpful D) polite

2. Aşağıdakilerden hangisi diğerlerinden farklıdır?

- A) handsome B) short  
C) tall D) polite

3.



My sister is fat and short.  
..... hair is short.

- A) Her B) He  
C) She D) His

4. I have \_\_\_\_\_ eyes and \_\_\_\_\_ straight hair.

- A) black / curly B) red/ long  
C) big / quiet D) green / long

5. Eda: What ..... he like?

Berna: He is polite and helpful.

Boşluğa uygun gelen seçeneği işaretleyiniz.

- A) is B) do  
C) does D) are

6. and / eyes / has / wavy / hair / he / brown /blond  
Verilen kelimelerden kurulan en anlamlı ve kurallı cümle hangisidir?

- A) He has wavy blond hair and eyes brown.  
B) Has he brown eyes and wavy blond hair.  
C) He has brown eyes and wavy blond hair.  
D) Has he eyes brown and hair blond wavy.

7. Kadir: .....?

Ayşe: She is nice and polite.

- A) What is your sister like?  
B) What does your sister do?  
C) What does your sister look like?  
D) What does your sister like?

8. Ali: What does your brother look like?

Ömer: .....

- A) He is very rude.  
B) He is tall and handsome.  
C) He is a good boy.  
D) He is helpfull and funny.

9.



Temel Reis is a famous cartoon character.  
He ..... black eyes and short black hair.

- A) is B) does  
C) has D) have

10. You study your lessons every day. You are ....

- A) Lazy B) Hardworking  
C) Famous D) Polite

#### 4. SINIF KAZANIM PEKİŞTİRME TESTİ

##### DİN KÜLTÜRÜ VE AHLAK BİLGİSİ DERSİ

1. Kötü davranışlardan uzak durmak, günahlardan uzak durmak gibi davranışlar sergilemeye ne denilmektedir?

A) Manevi temizlik      B) Maddi temizlik  
C) Fiziksel temizlik      D) Kıyafet temizliği

2. **I.** Dişlerini temizlemek  
**II.** Yemeklerden önce ve sonra ellerini yıkamak  
**III.** Daima temiz giysiler giymek  
**IV.** İnsanlarla karşılaşınca selam vermek

**Yukarıda verilenlerden hangileri  
Peygamberimizin maddi temizlikle ilgili  
davranışlarındandır?**

A) I ve II      B) II ve IV  
C) I, II ve III      D) I, II, III ve IV

3. "Cuma günü yıkanın, misvak kullanın ve güzel koku sürünün." hadisinde Peygamber efendimiz (s.a.v) neyi vurgulamıştır?

A) Namazları aksatmadan kılmak      B) İbadet  
C) Çevre temizliği      D) Temizlik

4. Namaz kılmadan önce su kullanarak vücudumuzda yaptığımız temizliğe ne ad verilir?

A) Hac      B) Abdest  
C) Zekât      D) Oruç

5. Peygamberimiz aşağıdakilerden hangisini imandan saymıştır?

A) Öfke      B) Büyükmek  
C) Temizlik      D) Kıskançlık

6. Aşağıda temizlik ile ilgili verilenlerden hangisi yanlıştır?

A) Kıyafetlerimizi temiz tutmalıyız  
B) Sofraya oturmadan önce ellerimizi yıkamalıyız.  
C) Tırnaklarımızı düzenli olarak kesmeliyiz ve temizliğine dikkat etmeliyiz.  
D) Dişlerimizi haftada 2 kez fırçalamalıyız

7. **I.** Beden ve elbise temizliğine ..... denir.

**II.** Sözünde durmak, dürüst olmak ..... denir.

**Yukarıda örnekleri verilen temizlik türleri  
hangi seçenekte doğru verilmiştir?**

<b>I</b>	<b>II</b>
A) Maddi Temizlik	Manevi Temizlik
B) Maddi Temizlik	Çevre Temizliği
C) Çevre Temizliği	Maddi Temizlik
D) Manevi Temizlik	Maddi Temizlik

8. **I.** Namaz kılmak

**II.** Kur'an-ı Kerim okumak

**III.** Kâbe'yi tavaf etmek

**Yukarıda verilen ibadetlerden hangisinden  
önce abdest alınmalıdır?**

A) I ve III      B) II ve III  
C) I, II ve III      D) I ve II

9. 1. Önce sağ, sonra sol kolu dirseklere kadar yıkamak  
 2. Başımızı ıslak elle mesh etmek  
 3. Ağız, burun ve yüzü üç kez yıkamak  
 4. Sağ ve sol ayakları topuklarla beraber yıkamak  
 5. Kulakları temizleyerek boynumuzu mesh etmek

Euzu besmele çekip, abdest almaya niyet eden birisi ellerini bileklerine kadar yıkadıktan sonra yukarıda verilenleri hangi sıraya göre yapmalıdır?

- A)3-4-1-2-5                      B) 3-1-2-5-4  
 C)1-3-2-4-5                      D) 1-5-3-2-4

10. **Sema:** “Ellerim kirlendiğinde kıyafetime silerim.”

**Okan:** “Dişlerimi düzenli olarak temizlerim.”

**Selin:** “Açıkta satılan yiyeceklerden satın alırım.”

**Suat:** “Kirlenseler de kıyafetlerimi uzun süre giyerim.”

**Yukarıdaki öğrencilerden hangisinin sağlığına önem verdiğini söyleyebiliriz?**

- A)Okan                              B) Sema  
 C)Selin                              D) Suat

**4.SINIF 4. HAFTA KAZANIM PEKİŞTİRME ÇALIŞMASI**  
**CEVAP ANAHTARI 11-15 MAYIS**

<b>TÜRKÇE</b>	<b>MATEMATİK</b>	<b>FEN BİL.</b>	<b>SOSYAL BİL.</b>	<b>İNGİLİZCE</b>	<b>DİKAB</b>
<b>1.A</b>	<b>1.A</b>	<b>1.D</b>	<b>1.D</b>	<b>1.C</b>	<b>1.A</b>
<b>2.D</b>	<b>2.C</b>	<b>2.C</b>	<b>2.B</b>	<b>2.D</b>	<b>2.C</b>
<b>3.B</b>	<b>3.C</b>	<b>3.B</b>	<b>3.C</b>	<b>3.A</b>	<b>3.D</b>
<b>4.D</b>	<b>4.C</b>	<b>4.A</b>	<b>4.C</b>	<b>4.D</b>	<b>4.B</b>
<b>5.C</b>	<b>5.B</b>	<b>5.D</b>	<b>5.D</b>	<b>5.A</b>	<b>5.C</b>
<b>6.B</b>	<b>6.A</b>	<b>6.A</b>	<b>6.B</b>	<b>6.C</b>	<b>6.D</b>
<b>7.C</b>	<b>7.C</b>	<b>7.D</b>	<b>7.C</b>	<b>7.A</b>	<b>7.A</b>
<b>8.B</b>	<b>8.C</b>	<b>8.B</b>	<b>8.C</b>	<b>8.B</b>	<b>8.C</b>
<b>9.C</b>	<b>9.C</b>	<b>9.C</b>	<b>9.A</b>	<b>9.C</b>	<b>9.B</b>
<b>10.C</b>	<b>10.D</b>	<b>10.A</b>	<b>10.C</b>	<b>10.B</b>	<b>10.A</b>
<b>11.D</b>	<b>11.A</b>	<b>11.D</b>	<b>11.A</b>		
<b>12.A</b>	<b>12.B</b>	<b>12.A</b>	<b>12.D</b>		
<b>13.C</b>	<b>13.B</b>	<b>13.B</b>	<b>13.B</b>		
<b>14.D</b>	<b>14.D</b>	<b>14.C</b>	<b>14.A</b>		
<b>15.A</b>	<b>15.B</b>	<b>15.C</b>	<b>15.B</b>		

**İnsanın kalbi engelli  
olmasın zira bizi insan yapan  
kolumuz bacağımız değil**

**kalbimizdir...**

