

ADI SOYADI:.....



### TÜRKÇE

Halil ve İbrahim adlarında iki kardeş varmış. Halil evli ve çocuklu, İbrahim ise bekar biriymiş. Bu iki kardeşin bir tarlası varmış. Her yıl çalışarak yazın harman kaldırıp kış ayları için hazırlık yaparlarmış. Kaldırdıkları harmanı bölüşüp mutlu mutlu yaşarmış. İbrahim, abisinin evli ve çocuklu olduğunu düşünerek kendi payından gizlice abisinin payına sürekli buğday taşımış. Halil ise kardeşi İbrahim'in evlilik hazırlığı içinde olduğu için onun daha çok pay almasının gerektiğini düşünürmüş. O da İbrahim'in olmadığı zamanlar kendi payından buğday alıp İbrahim'in payına taşımış. Bu iki kardeşin samimi yardımlaşmalarını gören yüce Allah onları çok sever ve onların mallarını bereketli kılmış. Bu iki kardeşin mallarında eksilme olmazmış. Bundan dolayı günümüzde bile insanlar şöyle dua eder: Allah, malına Halil İbrahim bereketi koysun.

1- Her iki kardeşinde ortak olarak kullandığı neleri varmış?

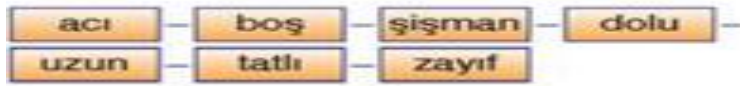
- A.ev B.tarla C.hayvan D.taşıt

2- İki kardeş her yıl ne paylaşmış?

- A.Harman B.Para C.eşya D.fikir

3- Her iki kardeş neden birbirlerine gizlice buğday taşımış?

- A.Birbirlerini çok sevdikleri için taşımış.  
B.Babaları vasiyet ettikleri için taşımış.  
C.Menfaatleri olduğu için taşımış.  
D.Birbirlerini samimi olarak düşündükleri için taşımış.



4-Yukarıdaki sözcükler karşıt anlamlarıyla karışık olarak verilmiştir. **Karşıt anlamlısı olmayan sözcük aşağıdakilerden hangisidir?**

- A-boş B-uzun C-dolu D-zayıf

5- Aşağıdaki cümlelerden hangisinin sonuna "soru işareti" (?) konulmaz ?

- A) Can, kitabını alır mısın  
B) Her yere baktım, neredeydin  
C) Neden kötü sonuçlar alıyor hala anlamadım  
D) Otobüs kaçta durağa gelecek

1.	15.	7.	1.	2.	6.

6-Üstte bulunan tabloya alfabedeki harfleri, sıralamaya göre yazarsak hangi kelime oluşur?

- A-AKRABA B-ALFABE C-BARDAK D-BAYRAK

7-)Aşağıdaki görsellerden hangisi hayal ürünü bir ifade değildir?



A.

B.

C.

D.



Memet

saz



Sibel

kuş



Furkan

düş



Zehra

dal

8-Bu çocuklardan hangisinin söylediği sözcük eş sesli değildir?

- A.Memet B.Sibel C.Furkan D.Zehra

9-Aşağıdaki cümlelerin hangisinde altı çizili sözcük gerçek anlamının dışında kullanılmıştır?

- A) Pek çok kez yalanını **yakaladım**.  
B) Kaçan balonu kardeşim **yakaladı**.  
C) Kediye kolayca **yakaladım**.  
D) Polis, suçlu adamı **yakaladı**.



"**orman**" kelimesi sözlükte aşağıdaki kelimelerin hangisinden sonra gelir?

10-

- A)ordu B)ortak C)organ D)oruç

11-Aşağıdaki cümlelerin hangisinde yazım yanlışı yoktur?

- A) Soruları dikkatli okur mu sun?  
B) Öğretmenim Zeyneb'i çağırdı.  
C) Bursa'dan İstanbul'a hızlı tren seferleri başlamadı.  
D) Yahya Okul'umuza yeni geldi.



Aşağıda verilen tarihlerin hangisinin yazılışı doğrudur?

12-

- A) 06 Aralık 2019 B) 06 aralık 2019  
C) 06,12,2019 D) 06.Aralık.2019

Hayvanların insan yaşamında büyük önemi vardır. Bu önem sadece beslenmemize katkı sağlamaları ve doğanın dengesi ile ilgili değildir. Evcil hayvanlar insanların dostudur. Yapılan araştırmalara göre evcil hayvanları olanlar daha uzun ömürlü olurlarmış. Çünkü evcil hayvanlar stres yapmazlarmış.

13-Yukarıdaki metnin konusu nedir?

- A. Hayvanların özgürlüğü  
B. Evcil hayvanların insanlara bağlılığı  
C. Hayvanların İnsan için önemi  
D. Hayvanlara yapılan eziyetler.



14-Görseldeki "dirsek çürütmek" deyiminin anlamı aşağıdakilerden hangisidir?

- A-Bilgisini artırmak için çok çalışmak  
B-Eski kıyafetler giymeliyiz


C-Sağlam kıyafetler dikkati dağıtmaz.

D.Çalışkan olmak için güzel kıyafetler giymeliyiz?

15-"Söylediklerimi anladın mı ( )Toplantı yarın 14( )30( ) da başlayacakmış. Öğretmenim çok tembih etti( ) "cümlesinde yay ayrıla gösterilen yerlere sırasıyla hangi noktalama işaretleri getirilmelidir?

- A) (?) (.) (!) (.) B) (?) (.) (') (.)  
C) (!) (.) (?) (.) D) (.) (') (!) (?)

### MATEMATİK



1- Abaküste gösterilen sayı için aşağıdakilerden hangisi söylenemez?

- A) Okunuşu"yedi yüz yirmi dört bin üç yüz yirmi beş"  
B) Binler ve onbinler basamağında bulunan rakamların sayı değerleri aynıdır.  
C)Basamak değeri en büyük rakam 5'tir.  
D) Sayının yazılışı 724 325 'tir.

2- **2236**'dan başlayarak ileriye biner ritmik sayarken 5.sırada hangi sayıyı söyleriz?

- A.4236  
B.5236  
C.6236  
D.7236

Aşağıdaki sayılar yuvarlanabileceği en yakın onluklarla eşleştirilmişlerdir.

3 - Hangi seçenekteki eşleştirme doğru yapılmıştır?

- A) 1145 → 1140 B) 2163 → 2170  
C) 3036 → 3030 D) 4498 → 4500



4- Yandaki işlemde,

$$\blacktriangle + \blacksquare + \star = ?$$

- A.8 B.9  
C.10 D.11



5-)Bir çiftlikte 32 adet inek vardır. Bu ineklerden bir tanesi günde 25 L süt verdiğine göre 3 günün sonunda toplam kaç lt süt elde edilmiş olur?

- A-2400 B-4200  
C-4300 D-4400



6- Aşağıdaki sayı örüntülerinden hangisinin kuralı diğerlerinden farklıdır?

- A. 22 - 19 - 24 - 21 - 26  
B. 38 - 36 - 41 - 39 - 44  
C. 16 - 13 - 18 - 15 - 20  
D. 65 - 62 - 67 - 64 - 69

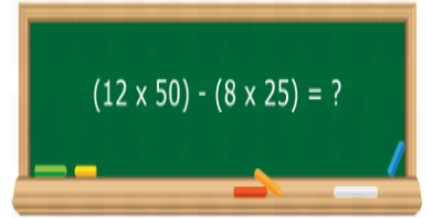


7-)Yandaki aile bireylerinin yaşlarının toplamı 167'dir. 4 yıl önce bu ailenin yaşları toplamı kaçtır?

- A.140 B.151  
C.163 D. 44

8-) Yandaki işlemin sonucu hangi seçenekte verilmiştir?

- A) 300 B) 200  
C) 400 D) 350



**3, 5, 0, 8, 1, 6**

9-)Yukarıdaki rakamları kullanarak yazılabilecek altı basamaklı en küçük tek sayının okunuşu aşağıdakilerden hangisidir?

- A.Yüz otuz bin altı yüz seksen beş  
B.Sekiz yüz atmış beş bin üç yüz bir  
C.Yüz üç bin altı yüz seksen beş  
D.Sekiz yüz elli altı bin yüz üç

$$35 \times (14 \times \dots) = (14 \times 35) \times 5$$

10-)Her bir seçenekteki işlem sonuçları eşittir. Buna göre noktalı hangi sayı yazılmalıdır?

- A.35 B.14 C.5 D.41

	$+24 = 42$
	$-16 = 42$
	$\times 7 = 42$


11-)Yukarıdaki ifadede + + sayılarının toplamı kaçtır?

- A.82 B.85 C.58 D.76

**5 yüz binlik + 4 binlik + 9 yüzlük + 2 birlik**

12-) Yukarıdaki çözümlenen sayı hangisidir?

- A)5492 B)54 092 C)504 902 D)504 920

- 13-)  Furkan, "Define Adası" adlı öyküyü okumaya başlıyor. Birinci gün 57, ikinci gün ise 53 sayfa okuyor. Okunacak 80 sayfa kaldığına göre; bu öykü toplam kaç sayfadır?  
A.110 B.90  
C.150 D.190

**24 108 - 32 890 - 7 905 - 32 980**

14-) Sayıları büyükten küçüğe doğru sembol kullanarak sıralanışı aşağıdakilerden hangisidir?

- A. 7 905 > 24 108 > 32 890 > 32 980  
B. 32 980 > 32 890 > 24 108 > 7905  
C. 32 890 < 32 980 < 7 905 < 24 108  
D. 32 980 < 32 890 < 24 108 < 7905

15-) "Yüz yirmi bin üç yüz doksan" biçiminde okunan sayının hangi basamaklarında aynı rakamlar bulunur?

- A) On binler - yüzler B) Yüz binler - yüzler  
C) Yüz binler - onlar D) Binler - birler

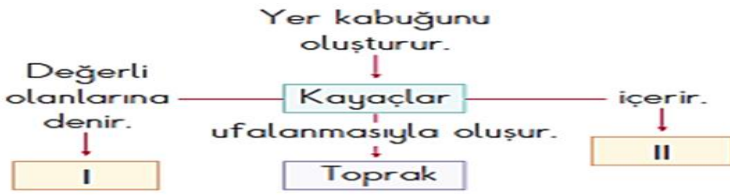
ADI SOYADI: .....

## FEN BİLİMLERİ



1- Çocuklar sağlıklı yaşamlarına devam edebilmek için hangi besin içeriklerini almaları gerekiyor?

- A. mineral-protein-yağ B. Vitamin-protein-karbonhidrat  
C. vitamin-mineral-su D. Protein-vitamin-karbonhidrat



2- Yukarıdaki kavram haritasında I ve II numaralı yerlere aşağıdakilerden hangisi yazılmalıdır?

	I	II
A.	Maden	mineral
B.	mineral	maden
C.	altın	taş
D.	toprak	çakıl

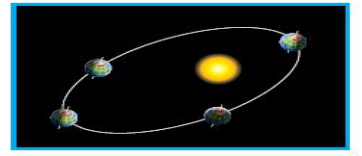


5-Sigara içmediği halde sigara içilen ortamda bulunan kişiye ne denir?

- A)Bağımlı B)Düzenli içici  
C)Pasif içici D)Aktif içici



I



II

3-Dünya'nın görsellerde verilen hareketlerini tamamlama süreleri aşağıdaki seçeneklerden hangisinde doğru olarak verilmiştir?

	I	II
A)	24 gün	365 saat
B)	1 yıl	52 hafta
C)	24 saat	1 yıl
D)	365 saat	24 saat

4 – Kayaçlarla ilgili verilen bilgilerden hangisi yanlıştır?

- A)Yüksek dağların bulunduğu yerlerde kalın, derin okyanus çukurlarında ise daha incedir.  
B)Kayaçların hepsi ekonomik değere sahiptirler.  
C)Su, rüzgar, doğa olayları parçalanmalarına neden olabilir.  
D)İşlenerek pek çok alanda kullanılırlar.

6-Aşağıdakilerden hangisi alkolün zararlarından biri değildir?

- A)Karaciğer hastalıklarına sebep olur.  
B)Beyni etkileyerek insanın düşünme gücünü azaltır.  
C)Kullanan kişiler daha verimli çalışır.  
D)Kişinin dengesini kaybetmesine neden olur

7-Sigaradan en fazla zarar gören organımız hangisidir?



- A)mide B) akciğer C)karaciğer D)beyin



8-Yukarıdaki ifadelerden doğru olanlara D , yanlış olanlara Y yazılırsa sıralama nasıl olur?

- A.) D-Y-D-Y B.) D-D-Y-Y  
C.) D-Y-Y-D D.) Y-Y-D-D



9- Annesi M.Ali'ye her zaman doğal besinler yemesi gerektiğini söylüyor. **Buna göre M.Ali, aşağıdakilerden hangisini yememelidir ?**



A)Peynir



B)elma



C)Yumurta



D)Çikolata



M.Ali



Kerem

10- Yukarıdaki görsele göre M.Ali ve Kerem kasaya sırasıyla hangi kuvvetleri uygulamaktadırlar?

**M. Ali**

- A. çekme
- B. itme
- C. döndürme
- D. yavaşlama

**Kerem**

- itme
- itme
- çekme
- hızlandırma

ADI SOYADI:.....

### SOSYAL BİLGİLER



1-Milli Mücadele döneminde Kazım Karabekir komutasındaki Türk ordusu Doğu Cephesi'nde kimlerle savaşmış ?

- A)Ermeniler
- B)Ruslar
- C)İngilizler
- D)Fransızlar

**Şahin Bey Saib Bey Sütçü İmam Hasan Tahsin**



2-Yukarıdaki Milli Mücadele kahramanları nerelerde mücadele etmişlerdir?

- A)Antep-Urfa-Maraş-İzmir
- B)Maraş-İzmir-Urfa-Antep
- C)Antep-Maraş-İzmir-Urfa
- D)İzmir-Maraş-Urfa-Antep

3-Aşağıdakilerden hangisi yanlıştır?

- A) Çiğ köfte, mantı kültürümüze ait yiyeceklerdir.
- B) Halay, horon, zeybek milli kültürümüzü yansıtır.
- C) Tüm toplumların kültürü farklıdır.
- D) Gelenek ve görenekler zamanla değişmez.

"Yiğit, sınıftaki arkadaşlarına şaka yapmak için yüksek sesle bağırmıştır. Bazı arkadaşları bunu komik bulurken bazıları da korkmuş ve kızmıştır."

6-Yukarıda verilen olay aşağıdakilerden hangisine örnek olabilir?

- A) Her zaman şakacı olmalıyız.
- B) Bir olaya herkes aynı tepkiyi gösterir.
- C) Her zaman her olaya aynı tepkiyi gösteririz.
- D) Aynı olaya farklı tepkiler verebiliriz.

- I. Olaylar karşısında empati kurar.
- II. Kırıcı olmamaya özen gösterir.
- III. Farklı düşüncelere saygılı olur.
- IV. Sinirlendiğinde sert tepki verir.

4- **Hoşgörülü bir insan yukarıdakilerden hangisini yapmaz?**

- A) I
- B) III
- C) II
- D) IV

5- Aşağıdaki emoji'lerden hangisi duygusal özelliğinden bahsetmemiştir?



A. mutluyum



B. saçlarım yok



C. üzgünüm



D. şaşkınlım



7- Atatürk'e "Gazi" ünvanı ile "Mareşal" rütbesinin verildiği savaş hangisidir?

- A) Büyük Taarruz
- C) 1.İnönü
- B) Sakarya Meydan Muharebesi
- D) 2.İnönü

"Ben de ileride arkeolog olmak istiyorum.

Küçük yaşlarımdan beri tarihî yerler ve eserler bende merak uyandırır. Tarihî kalıntıları ve müzeleri gezmek en keyif aldığım etkinliklerdir. Babam, bir şehirde yerleşik hayat sürdürebileceğim bir iş seçmemi istiyor. Oysa ben değişik ve eski şehirleri keşfetmek istiyorum."



8- Yukarıdaki sözleri söyleyen çocuğun meslek seçimini aşağıdakilerden hangisi etkilemiştir?

- A) Babasının önerisi
- B) Yetenekleri
- C) Annesinin mesleği
- D) İlgi alanı

Mustafa Kemal;

- \* Anadolu'nun düşman devletlerin eline geçmemesi için Amasya'dan halka seslenmiştir.
- \* İşgallere karşı beraber hareket etmeyi sağlamak için Erzurum ve Sivas'ta toplantılar yapmıştır.
- \* Halkın ülke yönetimine katılmasını sağlamak için Ankara'da bir meclis toplamıştır.

9- Buna göre, aşağıdakilerden hangisi söylenemez?

- A. Halk bilinçlendirilmeye çalışılmıştır.
- B. Birlik ve beraberlik için çaba gösterilmiştir.
- C. Halkın kararlarına önem verilmiştir.
- D. Cumhuriyet ilan edilmiştir.

10-M.Kemal'in **ilk askeri başarısı** nedir?

- A.Canakkale savaşını kazanmak
- B.Trablusta İtalyanlara karşı mücadele etmek
- C. Balkan savaşını kazanmak
- D.Sakarya Savaşını kazanmak

