

## TÜRKÇE



Ölene kadar her 9 Eylül'de İzmir Marşı'nı okudu... Hükümet konağından Yunan bayrağını indirerek Türk bayrağını astı. İzmir'in Yunan işgalinden kurtulduğu 9 Eylül 1922'de Hükümet Konağı'na Türk bayrağını çekenlerden biri de Çavuş Mehmet Raşit

Nazlı'ydı. Diyarbakırlı Raşit Çavuş 8,5 yıl askerlik yaptı. İstiklal Savaşı gazisi Mehmet Raşit, bu ülkenin hangi zor koşullarda Türk'üyle, Kürt'üyle, Laz'ıyla, Çerkes'ile büyük bir dayanışma ve özveriyle kurtarıldığının en güzel örneklerinden biri oldu. Büyük Taarruz sonrası İzmir'e ilk giren askerlerden olan Mehmet Raşit, Diyarbakır'a bağlı Memelan köyünde dünyaya geldi. Raşit Çavuş 15 yaşında askere alındı.. Doğu cephesinden başlayarak sırasıyla Sakarya Meydan Muharebesi, Kütahya Dumlupınar ve Afyon Muharebelerine katıldı.

( İlk üç soruyu metne göre cevaplayınız. )

1-Raşit Çavuş yaşamının sonuna kadar 9 Eylül'de hangi marşı okurmuş?

- A.İstiklal Marşı B.İzmir Marşı  
C.Mehter Marşı D.Cumhuriyet Marşı

2-Raşit Çavuş ve diğer kahramanlar İzmir'i kimlerden kurtarmışlardır?

- A.Yunanlılardan B.İngilizlerden  
C.Fransızlardan D.İtalyanlardan

3-Raşit Çavuş aşağıdaki savaşlardan hangisine katılmamıştır?

- A.Çanakkale Savaşı B.Sakarya Savaşı  
C.Kütahya-Dumlupınar D.Afyon Savaşı

4-Aşağıdaki cümlelerin hangisinde altı çizili sözcük eş seslidir?

- A) Yarın akşam sinemaya gidelim.  
B) Kara gözleri zeytin gibiydi.  
C) Bahçe düzenlemesi bugün bitti.  
D) Genç adam çok yorulmuştu..

1.

2.

3.

4.

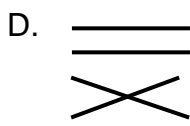
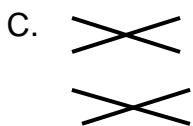
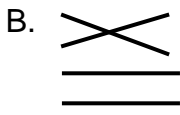
hayat

hamur

heykel

hece

5-Yukarıdaki kelimeleri alfabetik sıraya göre eşleştirirsek şekil nasıl olur?



Kendime uygun bir çalışma planı yapmaya karar verdim. Hem oyun oynamayı seviyorum hem de derslerim iyi olsun istiyorum. Bu yüzden ikisini de doğru zamanlarda yapmalıyım. Böylece daha başarılı olacağım. Üstelik oyun da oynayacağım.

6-Bu paragrafın ana fikri hangisidir?

- A. Oyun oynamak bir ihtiyaçtır.  
B. Arkadaşlarımızı iyi seçmeliyiz.  
C. Planlı çalışmak bizi yormadan başarıya ulaştırır.  
D. Zamanımızı ders çalışarak geçirmeliyiz.

7-Aşağıdaki cümlelerin hangisinde ağır kelimesi gerçek anlamda kullanılmıştır?

- A) Çantası çok ağırdı.  
B) Söylediği son söz çok ağırdı.  
C) Yemeğin ağır kokusu evi sardı.  
D) İş çok ağırdan alıyor.

8-Aşağıdaki görsellerden hangisi deyim değildir?



B.



Ayağını yorganına göre uzat

gözden düşmek



D.



El üstünde tutmak

eli ayağı dolanmak

9-Aşağıdaki cümlelerin hangisinde zıt anlamlı kelimeler birlikte kullanılmamıştır?

- A) Semra, hem güzel hem de iyi huylu bir kızdır.  
B) Eski televizyonumuzu yenisiyle değiştireceğiz.  
C) Kardeşime aldığımız ceket uzun, pantolon kısa geldi.  
D) Sorularlara düzgün cevap verebiliyordu.

10- Aşağıdaki cümlelerin hangisinde virgül kaldırılırsa cümlelerin anlamı değişir?

- A) Nöbetçi, öğrenciye seslendi.  
B) Sen git, ben birazdan gelirim.  
C) Sakin, mutlu bir hayatı vardı.  
D) Evleri, sokakları, insanları yazdım.

11- Her şeye burnunu sokmak” deyiminin anlamı aşağıdakilerden hangisidir?

- A) Burnunu bir yerlere sıkıştırmak  
B) Her işe karışmak  
C) Kötü işle ilgisi olmak  
D) Durmadan konuşmak



12-Aşağıdaki kelimelerden hangisi hecelerine yanlış ayrılmıştır?

- A) Ke-loğ-ıan B) e-lek-trik  
C) ha-nı-me-li D) güv-er-cin

13-Aşağıdaki cümlelerin hangisinde "mi" nin yazılışında yanlışlık yapılmıştır?

- A) Misafirler Ayşelere geldi mi?  
B) Gelişmelerden haberin yokmuydu?  
C) Öğretmenimiz sınıfa gelmiş miydi?  
D) Can'ın nerede oturduğunu biliyor musun?

14- "Eyvah ( ) Annemin en sevdiği vazoyu kırdın ( ) Hemen bu dağınıklığı toplamalıyız ( ) Bana yardım edeceksin değil mi "( )"cümlesinde yay ayrıla gösterilen yerlere sırasıyla hangi noktalama işaretleri getirilmelidir?

- A) (?) (.) (!) (.) B) (!) (.) (.) (?)  
C) (!) (.) (?) (.) D) (.) (.) (!) (?)

15-Aşağıdaki cümlelerden hangisinin tüm kelimeleri büyük ünlü uyumu kuralına uymaktadır?

- A. Umut, sınıfına geri geldi.  
B. İstanbul'dan kuzenlerim gelecek.  
C. Çantama kitabımı koymayı unutma.  
D. Çilekli pastayı marketten aldım.

Adı soyadı:.....

### MATEMATİK



Ben 11 yaşımdayım.  
Annem, benden 24 yaş büyük ve babamdan da 5 yaş küçüktür.

1-)Buna göre benim, annemin ve babamın yaşları toplamı kaçtır?

- A.86  
B.45  
C.84  
D.62



2-Yukarıdaki sayının çözümlemesi aşağıdakilerin hangisinde doğru verilmiştir?

- A.  $(5 \times 10\,000) + (7 \times 1000) + (9 \times 100) + (7 \times 10)$   
B.  $(5 \times 100\,000) + (7 \times 10\,000) + (9 \times 100) + (7 \times 10)$   
C.  $(5 \times 100\,000) + (7 \times 100) + (9 \times 100) + (7 \times 1)$   
D.  $(5 \times 100\,000) + (7 \times 10000) + (9 \times 1000) + (7 \times 1)$

$$b > 525 + 196$$

- A.722 B.746  
C.552 D.622

3-Yandaki karşılaştırmada

b yerine yazılacak en küçük sayı kaçtır?



4- Yukarıdaki örüntü kuralına göre ? işareti yerine hangi sayı gelmelidir?

- A.33 B.35 C.37 D.39

5-Yapılmakta olan evimizin duvarları için 5778 tane tuğla aldık. İlk kat için 1564 tuğla , ikinci kat için ise 3109 tuğla kullandık. Acaba geriye kaç tuğla arttı?

- A.4673  
B.1105  
C.3211  
D.1116



Yandaki işleme göre  $(\triangle + \square) \times \star$  kaçtır?

- A.55 B.44  
C.66 D.77

7-Üç toplananlı bir toplama işleminde birinci toplanan 3205 , ikinci toplanan 2064 ve toplam 7815 olduğuna göre üçüncü toplanan aşağıdakilerden hangisidir?

- A.2546  
B.2654  
C.4465  
D.5269

8-) 5, 1, 7, 0 rakamlarını kullanarak oluşturacağımız en büyük dört basamaklı sayı ile en küçük dört basamaklı sayının farkı kaç olur?

- A) 3879 B) 4482  
C) 5462 D) 6453



9- Bir çiftlikte 3424 tavuk, tavuklardan 1493 tane daha az horoz, horoz ve tavukların toplam sayısı kadar da civciv varmış. Bu çiftlikte kaç tane civciv varmış?

- A.4917  
B.5951  
C.5355  
D.1931

$$\begin{array}{|c|c|c|c|c|c|c|c|c|} \hline \square & \square & \square & - & \square & \square & = & 6 & 8 & 0 \\ \hline \end{array}$$
$$73 - 5 = 68$$

10-Yukarıda ifade edilen zihinsel işlem hangisidir?

- A. 730 – 55 B. 703 – 50  
C. 730 – 50 D. 730 – 68

11-) 230 353 sayısında tekrar eden rakamların basamak değerleri toplamı kaçtır?

- A.35 300 B.33 333  
C.30 303 C.33 300

12-İbrahim'in beğendiği spor malzemeleri 3556 TL'dir. Kumbarasında 1666 TL bulunan İbrahim , spor malzemelerini almak için kaç TL daha biriktirmesi gerekiyor?

- A-1970  
B-1890  
C-1977  
D-1880

İşlem sonucu	Tahmin	Fark
4 755	→	
+ 3 949	→ +	-

13-Yukarıdaki işlemin gerçek sonucu ile yüzlüğe göre tahmini sonuç arasındaki fark kaçtır?

- A.2 B.4 C.6 D.8

14-Aşağıdaki sıralamalardan hangisi doğru değildir?

- A) 1029 > 1019 > 1009  
B) 5245 > 5124 > 5024  
C) 269 < 1587 < 5669  
D) 2233 < 2332 < 2323

$$\begin{array}{r} \triangle 678 \\ + 1 \blacksquare 5 \star \\ \hline 6037 \end{array}$$

15.)Yandaki işleme göre

$$\triangle + \blacksquare + \star = ?$$

- A. 15 B. 16  
C. 17 D. 18

Adı soyadı:.....

### FEN BİLİMLERİ



Besinler neden gereklidir?

1-Fen bilimleri dersinde öğretmen yukarıdaki soruyu soruyor.

Buna göre aşağıdakilerden hangileri öğretmenin sorusunun doğru cevabı olabilir?

- I. Yaşamsal faaliyetlerimiz için gerekli enerjiyi besinlerden sağlarız.  
II. Besinler büyümemizi ve gelişmemizi sağlar.  
III. Besinler yaralarımızın iyileşmesini sağlar.

- A. I ve II B. I ve III  
B. II ve III C. I , II ve III

2.



Aşağıdaki besin içeriklerinden hangisi farklıdır?

- A.Vitamin B.Protein  
C.mineral C.su

	Sigara tüketimi aile bütçesine zarar verir.
	Alkol sadece sağlık sorunlarına yol açar.
	Alkol, bağımlılık yapan bir madde değildir.
	Nikotin bağımlılık yapan bir maddedir.
	Sigara sadece akciğerimize zarar verir.

3- Yukarıdaki ifadelerden doğru olanlara D , yanlış olanlara Y yazılırsa sıralama nasıl olur?

- A.)D-Y-D-Y-D B.)D-D-Y-Y-Y  
C.)D-Y-Y-D-Y D.)Y-Y-D-D-D

**Zeynep** : Dünya, hem kendi etrafında hem Güneş'in etrafında dolanır.

**Tuana** : Dünya'nın, Güneş etrafında dolanımı 1 yılda tamamlanır.

**Sadık** : Dünyanın şeklinden dolayı bir taraf geceyken, diğer taraf gündüz olur.

4- Yukarıdaki öğrencilerden hangilerinin verdiği ifadeler doğru bilgiler içermektedir?

- A) Zeynep ve Tuana B) Sadık ve Zeynep  
C) Zeynep,Tuana ve Sadık D) Sadık ve Tuana

5) Aşağıdakilerden hangisi fosillerin bize kazandırdığı faydalardan değildir?

- A) Nesli tükenmiş canlıları anlamamızı sağlar.  
B) Geçmişteki yeryüzü şekilleri hakkında bilgi verir.  
C) Dünya'nın oluşumu hakkında bilgi edinmemizi sağlar.  
D) Canlıların zaman içinde nasıl değiştiğini anlamamızı sağlar

Besinler, bitkisel ve hayvansal besinler olarak iki gruba ayrılır.

6-Aşağıdaki tabloların hangisinde besinler doğru gruplandırılmıştır?

A)	Hayvansal Besinler Tavuk Et Marul	Bitkisel Besinler Pırasa Süt Turp
B)	Hayvansal Besinler Süt Peynir Sucuk	Bitkisel Besinler Brokoli Lahana Peynir
C)	Hayvansal Besinler Et Süt Tereyağı	Bitkisel Besinler Tere Elma Fındık
D)	Hayvansal Besinler Balık Tereyağı Peynir	Bitkisel Besinler Marul Et Soğan

7-Aşağıdakilerden hangisi Dünya'nın yıllık hareketi sonucu oluşmaz?

- A. Bir yılda dört mevsimin oluşması.  
B. Güneş ışınlarının gelişine göre gölge boyunun gün içinde değişmesi.  
C. Farklı meyve türlerinin yılın farklı zamanlarında olması.  
D. Mevsimlerin yağış ve sıcaklıklarının farklı olması



8-Yukarıda verilen besinler, protein, karbonhidrat ve yağ bakımından zengin olduğu gruba ayrıldığında aşağıdakilerden hangisi doğru olur ?

**Karbonhidrat Yağ Protein**

- A. makarna Fındık Yumurta  
B. Fındık Yumurta makarna  
C. Yumurta Fındık makarna  
D. makarna Yumurta Fındık



9-Yukarıdaki görselle ilgili aşağıdaki ifadelerden hangisi **yanlıştır**?

- A. Dünya'nın kendi etrafında dönmesiyle oluşur.  
B. Bir tam günde gerçekleşir.  
C. Dolanma hareketi sonucunda gerçekleşir.  
D. Gece ile gündüzün oluşumudur.




10-Saçlarının ve tırnaklarının sağlıklı olmasını isteyen Tuğçe, hangi besin içeriğini dengeli bir biçimde tüketmelidir?

- A. Vitamin B. Mineral  
C. Karbonhidrat D. Protein

Adı soyadı:.....

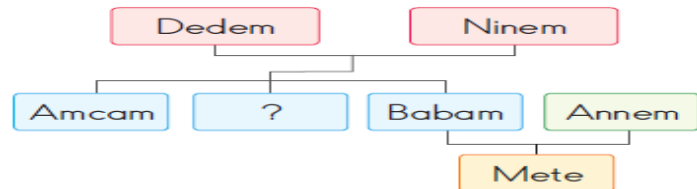
## SOSYAL BİLGİLER

1.Aşağıdaki çocuklardan hangisi yeteneğini göstermektedir?



2.Her bireyin bir resmi kimlik belgesinin olmasının asıl nedeni aşağıdakilerden hangisidir?

- A. Kim olduğumuzu ispatlayabilmek  
B. Okula kayıt olmak  
C. Resmi kurumlarda işlem yapabilmek  
D. Hastanede tedavi olmak



3- Mete' nin hazırladığı soyağacında soru işaretli yere hangisi yazılabilir?

- A) Halam B) Teyzem C) Dayım D) Kuzenim



4. "Zehra ile Betül ikiz kardeşler." Yeni nüfus kimliklerini incelersek, aşağıdakilerden hangisinin **farklı** olduğunu görürüz?

- A) Doğum tarihlerinin B) Nüfus cüzdan renginin  
C) Doğum yerlerinin D) T.C. kimlik numaralarının

A	Yemek	...	Cami
B	El sanatları	...	El öpmek
C	Mimari eser	...	Kilim dokumak
D	Giysi	...	Bindallı
E	Gelenek-görenek	...	Baklava

5-Yukarıdaki kültürel öğeleri ilgili olduğu alanlarla eşleştirdiğimizde sıralama nasıl olur?

A.	C	B.	A	C.	C	D.	B
	E		E		A		A
	B		B		D		C
	D		C		B		D
	A		D		E		E

6.Kültür için belirtilen ifadelerden hangisi **yanlıştır**?

- A) Ülkeden ülkeye farklılık gösterir.  
B) Ülke içerisinde bölgelere göre farklılık gösterebilir.  
C) Farklı kültürler ,insanlık için zenginliktir.  
D) Hiçbir zaman değişikliğe uğramaz.

7-Aşağıdakilerden hangisi sözlü tarih görüşmesini **kayıt altına alırken** gereksinim duyulmaz?



8-Milli Mücadeleyi **başlatan olay** aşağıdakilerden hangisidir?

- A-Cumhuriyetin ilan edilmesi  
B-Lozan Barış Anlaşmasının imzalanması  
C-Atatürk'ün 19 Mayıs 1919'da Samsun'a gitmesi  
D-İzmir'in işgal



Saçlarım sarı, gözlerim yeşil renklidir. Keman çalmayı çok seviyorum. Arkadaşım güzel resim yaptığımı söylüyor resimlerim sık sık sergileniyor.

9.İrmak için aşağıdakilerden hangisi **söylenemez**?

- A) Saçları sarı, göz rengi yeşildir.  
B) Spor yapmaktan hoşlanmamaktadır.  
C) Resim yapma konusunda yeteneklidir.  
D) Keman çalmayı sevmektedir.



**Gel, gel! Ne olursan ol, yine gel...!**

10-Büyük düşünce adamımız ve şairimiz Mevlana, bu sözleri ile aşağıdakilerden hangisinin öneminden bahsetmiştir?

- A) Öfke B) Hoşgörü C) Kıskançlık D) Gurur