

ADI SOYADI:.....

TÜRKÇE



Birleşmiş Milletler genel kurulu, çocuk haklarını güvence altına almak için çocuk hakları sözleşmesini kabul etmiştir. Bu sözleşme, 20 Kasım 1989'da aralarında Türkiye'nin de bulunduğu 142 ülke tarafından imzalanarak 1990'da yürürlüğe girmiştir.

Her yıl 20 Kasım günü bütün ülkelerde Dünya Çocuk Hakları Günü olarak kutlanır.

Çocukların birçok hakları vardır. Bunların başlıcaları ; beslenme, barınma, giyinme, eğitim, sağlıklı bir çevrede yaşama ve oyun oynama gibi haklardır. Bu temel hakların yanı sıra; çocukların, kendini ilgilendiren konularda fikir belirtme, şiddet ve istismardan korunma, çalıştırılmama ve eğer engelli ise devlet tarafından korunma hakları da vardır.

(Not: İlk 3 soruyu yukarıdaki metne göre cevaplayınız.)

1. Aşağıdakilerden hangisi yukarıdaki metinde bahsedilen çocuk haklarından değildir?

- A) Giyinme hakkı B) Barınma hakkı
C) Sarılma hakkı D) Oyun oynama hakkı

2. Yukarıdaki metnin türü nedir?

- A) Hikâye edici B) Bilgilendirici
C) Şiir türü D) Masal türü

3. Metne göre aşağıdakilerden hangisi çocuk haklarına aykırıdır?

- A) Çocukların fikrini ve düşüncelerini dinlemek
B) Engelli çocuklara devlet koruması sağlamak
C) Çocuklara oyun alanları yapmak
D) Becerili çocukları zorla bir işte çalıştırmak

4) "Birinci sınıftaki öğretmenim bizi görmeye gelecekti. Bir yıldır bize uğramamıştı. Saçları ağarmaya başlamıştı. Her zamanki sessiz, güler yüzlü hâlini kapıda görünce heyecanlandım."

Yukarıdaki paragraf, metnin hangi bölümü olabilir?

- A) Giriş bölümü B) Gelişme bölümü
C) Geliştirme bölümü D) Sonuç bölümü



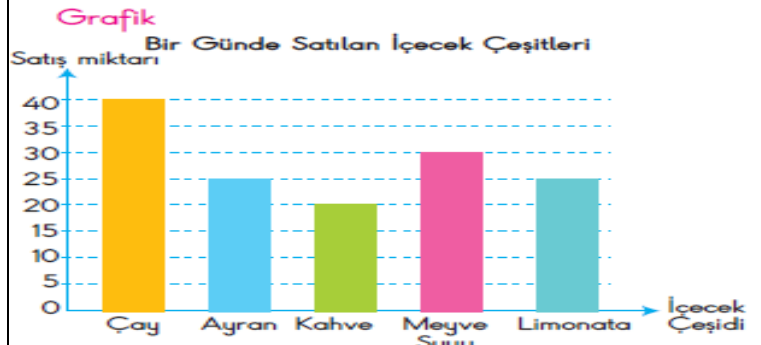
Karıncalar yeryüzünün en kalabalık nüfusuna sahiptir. Sosyal bir sistem içerisinde iş bölümü yaparak gruplar halinde yaşarlar. Tek başlarına hayat sürdürmeleri mümkün değildir?

5-Yukarıdaki paragrafın ana fikri aşağıdakilerden hangisidir?

- A) Karıncalar çok çalışkan hayvanlardır.
B) Karıncalar gruplar hâlinde yaşarlar.
C) Karıncalar ormanda yaşarlar.
D) Karıncalar tek başlarına yaşarlar.

6-Aşağıdaki kelimelerden hangisinin hece sayısı daha fazladır?

- A. traktör B. Diş C. aroma D. sıra



Yukarıda bir pastanede bir günde satılan içecek çeşitleri grafiği verilmiştir.

7. Verilen grafiğe göre aşağıdaki bilgilerden hangisi yanlıştır?

- A) Pastanede en az satılan içecek kahvedir.
B) Pastanede satılan kahve ile limonata miktarı eşittir.
C) Pastanede 40 çay satılmıştır.
D) Pastanede toplam 140 içecek satılmıştır.

8.Aşağıdaki cümlelerin hangisindeki "yaşlı" sözcüğü diğerleriyle eş seslidir?

- A) Hıçkırarak, **yaşlı** gözleriyle bana baktı.
B) Mahallenin **yaşlı**ları toplantı yaptılar.
C) Oldukça sevecen, **yaşlı** bir teyzeydi.
D) Bu evin **yaşlı** bir sahibi vardı.

9-) Aşağıdaki görsellerden hangisi genel izleyici kitlesi anlamı içermektedir?

- A. B. C. D.

10-) Aşağıdaki cümlelerin hangisinde karşıt anlamlı sözcükler bir arada kullanılmıştır?

- A) Üç beş kuruş biriktirmeye çalışıyor.
B) Yatar yatmaz hemen uyurum.
C) Ankara'yı babam gördü, ben görmedim.
D) Gece gündüz durmadan çalışıyor.

12-)Aşağıdaki görsellerden hangisi hayal ürünü ifadedir?

- A. B. C. D.

11- Aşağıdaki cümlelerin hangisinde zıt anlamlı kelimeler bir arada kullanılmamıştır?

- A) Asansör, bir aşağı bir yukarı hareket ediyordu.
B) Sokakta, adamlar toplanmış ileri geri konuşuyorlardı.
C) Kasaya sağlam çürük ne kadar meyve varsa koymuşlar.
D) Soğuklar adam akıllı kendini hissettirmeye başladı.

13-)Aşağıdaki cümlelerin hangisinde , ünsüz yumuşamasına ve ünlü düşmesine uğramış kelimeler bir arada kullanılmıştır?

- A. Gizem, sevinçten yerinde duramıyordu..
- B. Çocuğun burnu duvara çarpınca incindi.
- C. Arkadaşlarıma yardımcı olmayı severim.
- D. Öğretmenim beni alnımdan öptü.

Sevgili Furkan ()

Bursa()da seninle beraber eğlendiğimiz ()
gezdiğimiz günleri özledim() Senin de
özlediğini biliyorum ()Seni özleyen dedeni ()
nineni()amcanı ve halanı görebiliyor musun()
Umarım iyisindir ()

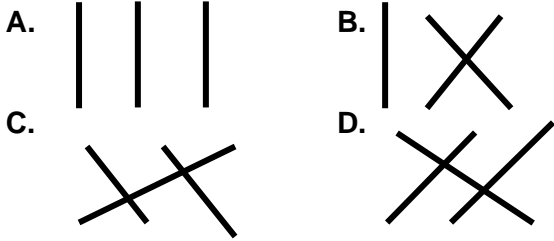
14-)Yukarıdaki metine kaç tane virgül kullanılması gerekiyor?

- A.8
- B.6
- C.4
- D.2

misafir akıl fert

birey konuk us

15-Yukarıdaki kelimeler eş anlamlarıyla eşleştirildiğinde nasıl bir şekil oluşur?



ADI SOYADI:.....

MATEMATİK

1-) 82 354 > 82 3A4 karşılaştırmasında yerine yazılabilecek rakamların toplamı kaçtır?

- A.10
- B. 8
- C.12
- D. 6

35 429 < < 42 517

2-) Yukarıdaki sıralamaya göre boş bırakılan yere aşağıdaki sayılardan hangisi yazılamaz.

- A) 37 651
- B) 41 580
- C) 34 215
- D) 35 430

295 381




3-) Yukarıdaki sayıda en büyük rakamın bulunduğu basamağın adı nedir?

- A) Yüz binler
- B) Binler
- C) On binler
- D) Yüzler

 +20 = 42


 +  = 36


 +  = 24


4-)Yukarıda ifadede  +  +  sayılarının toplamı kaçtır?


- A. 46
- B.52
- C.64
- D.25

5-) Aşağıdaki öğrencilerden hangisi verilen sayıyı yanlış okumuştur?

A)  700 700: Yedi yüz bin yedi yüz

B)  707 700: Yedi yüz yedi bin yedi yüz

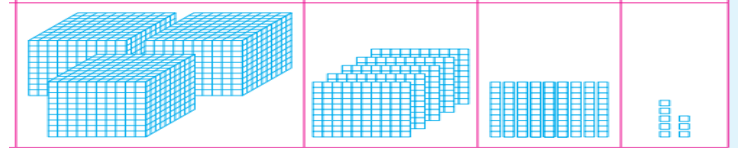
C)  707 070: Yedi yüz yedi bin yüz yetmiş

D)  707 077: Yedi yüz yedi bin yetmiş yedi



6-) Yukarıdaki sayılar belirli bir kurala göre dizilmiştir. Buna göre “ ? ”olan kutuya hangi sayı gelmelidir?

- A) 24
- B) 27
- C) 30
- D) 33



7-) Yukarıda modelle gösterilen sayının en yakın yüzlüğe ve onluğa yuvarlanmış hali aşağıdakilerden hangisidir?

- A. 3600 – 3600
- B. 3500 – 3590
- C. 3500 – 3580
- D. 3660 – 3690

8-) “62 047” sayısında 2 rakamı ile 7 rakamı yer değiştirirse hangi sayı oluşur?

- A)Altmış iki bin kırk yedi
- B)Altmış yedi bin yirmi dört
- C)Altmış yedi bin kırk iki
- D)Altmış dört bin yirmi yedi

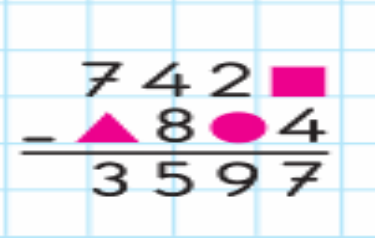
9-) Bir çıkarma işleminde eksilen 561 ,fark 320 ise çıkan sayı aşağıdakilerden hangisidir?

- A.321
- B.211
- C.414
- D.241



10-)Bir fırında sabah 3721 ekmek, öğlen 2836 ekmek satılıyor. Fırında satılmayan 1284 ekmek kaldığına göre, fırında bir günde toplam kaç ekmek çıkarılmıştır?

- A) 7 841
B) 6 542
C) 4 432
D) 8 854



11-)Yandaki çıkarma işleminde verilmeyen rakamların toplamı kaçtır?

- A.6 B.8
C.4 D.10

12-) Rakamları birbirinden farklı dört basamaklı en büyük tek doğal sayı ile rakamları birbirinden farklı dört basamaklı en küçük doğal sayının toplamı kaçtır?

- A)11 109
B)10 898
C) 9 874
D) 2 465

13-) “461 783” sayısı ile ilgili aşağıda verilen bilgilerden hangisi yanlıştır?

- A) On binler basamağında 4 vardır.
B) Binler bölümünde 461 vardır.
C) 7 rakamının basamak değeri 700’ dür.
D) Tek doğal sayıdır.

5 yüzbinlik+3 binlik+4 yüzlük+2 birlik

14-) Yukarıda çözümlenmiş olarak verilen doğal sayı aşağıdakilerden hangisidir?

- A. 53 042 B.530 024 C.503 402 D.5 342

$$56 + 16 = 24 + \square$$

15-) Yukarıdaki eşitlikte verilmeyen sayı kaçtır?

- A.48 B.46
C.44 D.52

ADI SOYADI:.....

FEN BİLİMLERİ

1-)Aşağıda bazı besin grupları ve görevleri eşleştirilmiştir. Verilen eşleştirmelerin hangisi yanlıştır ?

- A. Yağ - Enerji verir.
B. Madensel tuz – Düzenleyicidir
C. Protein - Yapıcı ve Onarıcıdır
D. Karbonhidrat – Düzenleyicidir

BESİN İÇERİKLERİ					
1	2	3	4	5	6
Karbonhidratlar	A	Proteinler	B	Su	Mineraller

2-) Yukarıdaki tabloda "A" ve "B" harfleri yerine hangileri yazılmalıdır?

- A) Yağ ve Kalsiyum
B) Vitamin ve Yağ
C) Kalori ve Vitamin
D) Besin ve İçecek

I. Sadece hayvanların fosili olur.

II. Bitkilerin fosili olmaz.

III. Uzun yıllar içinde oluşmuşlardır.

IV. Günümüzde yaşayan veya nesli tükenmiş

canlılara ait olabilir.

3-) Yukarıdaki bilgilerden hangisi veya hangileri doğrudur?

- A) I ve III B) III ve IV
C) II ve III D) II ve IV

İnşaatlar
Otomobil sanayisi
Tren rayı yapımı



4-)Kullanım alanları verilen maden çeşidi aşağıdakilerden hangisidir?

- A. kurşun B. Gümüş C. demir D. bakır

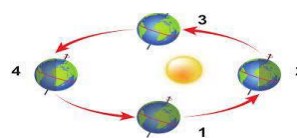
5-) Besinlerle ilgili hangi bilgi yanlıştır?

- A) Her canlı enerjiye ihtiyaç duyar.
B) Canlılar enerji ihtiyaçlarını besinlerden elde ederler.
C) Karbonhidratlar yaralarımızın iyileşmesi için faydalı besinlerdir.
D) Saç ve tırnaklarımız proteinler sayesinde uzar.



6-)Yukarıdaki resimde A ve B ülkelerinin konumları ok ile gösterilmiştir. Buna göre A ve B ülkeleri için aşağıdakilerden hangisi doğrudur?

- A) A ülkesinde gece, B ülkesinde ise gündüz yaşanır.
B) A ülkesinde gündüz, B ülkesinde ise gece yaşanır.
C) Her iki ülkede de gündüz yaşanır.
D) Her iki ülkede de gece yaşanır.



7-) Yandaki şekli tahtaya çizen Mustafa öğretmen Hangi konuyu anlatmak istemiş olabilir?

- A) Gece-gündüz oluşumunu
B) Bir günün nasıl oluştuğunu
C) Mevsimlerin oluşumunu
D) Gün içinde gölge boyunun nasıl değiştiğini



Ben bir paleontologum .
Yaptığım araştırmalarla geçmiş
dönemlerde yaşayan canlılara
ait bir çok bilgi verebilirim.

8-)Paleontologlar aşağıdaki sorulardan hangisine kesinlikle cevap veremez?

- A)Tortul kayaç hangi zamana aittir ?
B)Fosili bulunan canlının beslenme şekli nasıldır?
C)Fosilin yaşadığı dönemdeki iklim şartları nasıldır?
D)Fosili bulunan canlının ten rengi nasıldır?

9-) Aşağıdakilerden hangisi farklı bir besin grubundandır?

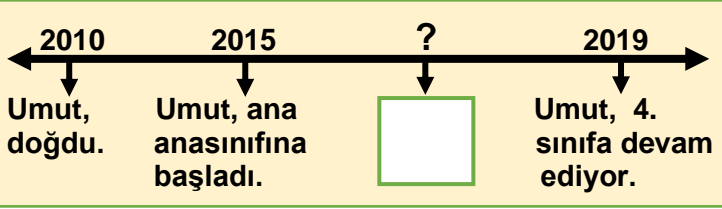
- A.  Bal
B.  zeytinyağı
C.  sucuk
D.  tereyağı

10.-) Su, madensel maddeler, tuz ve vitaminlerin vücudumuzdaki görevi aşağıdakilerden hangisidir ?

- A. Yapıcı – onarıcı
B. enerji verici
C. düzenleyici
D. güçlendirici

ADI SOYADI:.....

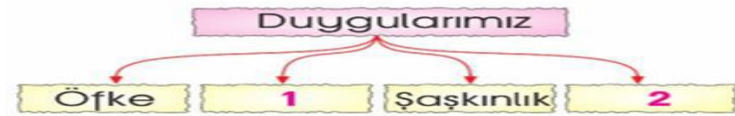
SOSYAL BİLGİLER



1-Yukarıda, Umut'un yaşadığı olaylar kronolojik olarak sıraya konulmuştur.

Buna göre boş olan yere aşağıdakilerden hangisi gelebilir?

- A.Umut,1.sınıfa başladı. B.Umut'un 1.yaş günü
C.Umut'un ablası doğdu. D.Okuldan mezun oldu.



2-Yukarıdaki şemada numaralandırılmış yerlere aşağıdakilerden hangileri gelebilir?

- 1**
A. Mutluluk
B. Sevinç
C. Kızgınlık
D. Boy
- 2**
A. Boy
B. Hüzn
C. Kilo
D. Ten





3-)Yabancı ülkeye gidecek olan Yusuf 'un hangi resmi kimlik belgesinin olması gerekir ?

- A) kimlik kartını B)pasaport
C)ehliyet D) sporcu kartı

4-)Ayşe'nin resim kulübüne, İbrahim'in ise spor kulübüne seçilmek istemesi aşağıda verilenlerden hangisiyle ilgili olabilir?

- A) Dersteki başarı farklılığı B) Fiziksel farklılık
C) Duygusal farklılık D) İlgi alanlarının farklılığı

5. Aşağıdaki çocuklardan hangisi yeteneğinden bahsetmemiştir?

-  A.Doğa fotoğrafları çekince mutlu oluyorum.
 B.Matematik işlemlerini zihinden çok hızlı yapabiliyorum.
 C. Yüzmede Türkiye rekorunu kırdım.
 D. Sözlükteki kelimeleri bir seferde ezberledim.

6-)Aşağıdakilerden hangisi bize ,aile tarihimizle ilgili bilgiler vermez ?

- A) Fotoğraf albümleri
B) Geçmişte kullanılan kıyafetler
C) Tarih ansiklopedisi
D) Büyüklerimizden kalan oyuncaklar

7-) Aşağıdaki görsellerden hangisi kültürel bir öge değildir?



8-)Eren, aile tarihi hakkında araştırma yapmak istiyor. Bunun için aşağıdakilerden hangisine başvurması en doğru olur?

- A) Aile büyükleriyle konuşması.
B) İnternette araştırma yapması.
C) Gazete ve dergileri incelemesi.
D) Ansiklopedilerden araştırmalı.

Bir toplumun geçmişten günümüze kadar ürettiği, kuşaktan kuşağa aktardığı her türlü maddi ve manevi değerlerin bütünü ne denir?

9-)Yukarıdaki açıklama aşağıdakilerden hangisinin tanımıdır?

- A) Tarih B) Kültür C) Sanat D) Bilim



10-) "Beş parmağın beşi bir olmaz. " atasözünün anlamı aşağıdakilerden hangisidir?

- A)İnsan sevgisini anlatır
B)Tabiat sevgisinden bahsetmektedir.
C)Sorumluluklarımızdan bahsetmektedir.
D)Bireysel farklılıklarımızdan bahsetmektedir.

