

2019 – 2020 yılı 4. Sınıflar

1. Dönem 1. MATEMATİK SINAVI

..... İLKOKULU






ADI SOYADI :

..... / / 2019

SINIFI :








A- Aşağıdaki okunuşları verilen sayıları rakamlarla yazın. (5 x 3 = 15 Puan)

- | | | | |
|----|---|--|----------------------|
| 1- |  | Dört yüz yetmiş dokuz bin beş yüz otuz iki | <input type="text"/> |
| 2- |  | Dokuz yüz dokuz bin altmış sekiz | <input type="text"/> |
| 3- |  | Altı yüz yirmi bin yüz doksan beş | <input type="text"/> |
| 4- |  | Sekiz üç bin yedi yüz yetmiş | <input type="text"/> |
| 5- |  | Yüz on bin yüz bir | <input type="text"/> |



B- Aşağıdaki sayıların okunuşlarını yazın. (5 x 3 = 15 Puan)

- | | | | |
|----|---|---------|----------------------|
| 1- |  | 561.349 | <input type="text"/> |
| 2- |  | 806.275 | <input type="text"/> |
| 3- |  | 310.062 | <input type="text"/> |
| 4- |  | 310.062 | <input type="text"/> |
| 5- |  | 310.062 | <input type="text"/> |



C- Aşağıdaki sayılar arasındaki boşluğa > , = , < sembollerinden uygun olanlarını koyun. (5 x 4 = 20 P)

19 000		18 990
4 406		4 460
854 539		854 547
76 843		76 843
110 101		110 110



D- Aşağıdaki toplama ve çıkarma işlemlerinde boşlukları uygun rakamlarla doldurun. (4 x 2,5 = 10 P)

6	5	4
7		
4	8	5

1	8		4
	5	2	7
8		6	

2	6		2
	3	4	9
7		0	

6		5	4
	8		6
3	6	7	

E- Aşağıdaki sayıları en yakın onluğa ve en yakın yüzlüğe yuvarlayın. (10 x 2 = 20 Puan)



Aşağıdaki sayıları
EN YAKIN ONLUĞA
yuvarlayın.

- 1- 457 →
- 2- 934 →
- 3- 353 →
- 4- 786 →
- 5- 555 →



Aşağıdaki sayıları
EN YAKIN YÜZLÜĞE
yuvarlayın.

- 6- 2974 →
- 7- 5638 →
- 8- 7291 →
- 9- 6743 →
- 10- 3452 →

F- Aşağıdaki 7, 2, 5, 0 rakamlarını kullanarak istenilen sayıları yazın. (4 x 2,5 = 10 Puan)

- 1- Dört basamaklı en büyük sayı,
- 2- Dört basamaklı en küçük sayı,
- 3- Dört basamaklı en büyük çift sayı,
- 4- Dört basamaklı en küçük tek sayı,

G- Aşağıdaki sayı örüntülerindeki boşlukları doldurun. (5 x 2 = 10 Puan)

- 1- 7 – 14 – – 28 – 35 – 42 – 49
- 2- 2 – 6 – 10 – – – 22 – – 30
- 3- 9 – 14 – 19 – – 29 – – 39 – 44
- 4- 9 – – 27 – 36 – – 54 – 72
- 5- 45 – 42 – 39 – – – 30 – – 24



ALİ TAMER