

Adı Soyadı:

Tarih:

25 Nisan'a kadar çok değerli süreniz var.

*_**_ ... *_**_ ... *_**_ ... *_**_ ...

Eş sesli kelimeleri öğrenelim.

bel: dal:
.....çelik: diz:
.....

*_**_ ... *_**_ ... *_**_ ... *_**_ ...

Çooooook güzel yazalım. Türkçe defterine de yazalım. Başlık 'Çooooook Güzel Yazalım.' olsun.

1. 25 Nisan'a

2. kadar

3. çalışın.

*_**_ ... *_**_ ... *_**_ ... *_**_ ...

Aşağıdaki kelimeleri Fen Bilimleri defterine yazınız. Cümlede kullanınız.

Kelimeler: Yumuşaklık, sertlik, esneklik, kırılganlık, renk, koku, tat, pürüzlü, pürüzsüz, katı, sıvı, gaz, madde, ...

*_**_ ... *_**_ ... *_**_ ... *_**_ ...

Atasözlerin açıklamalarını yaz. 1 kez TÜRKÇE defterine yaz. Başlık 'Atasözlerini Açıklıyorum.'

Atasözü: Lafla peynir gemisi yürümez.

Atasözü: Kedi uzanamadığı ete pis der.

Açıklama:

Açıklama:

.....

.....

.....

.....

*_**_ ... *_**_ ... *_**_ ... *_**_ ...

Evim Nerede?

1. Evden okula gelirken hangi sokaklardan geçiyorsunuz? İsimlerini yazalım.

C:

2. Evinizden okula gidiş yolunu kroki ile tarif ediniz.

İngilizcesini yazalım. **2** kez Türkçe defterine yazalım.

büyük

hızlı:

küçük:

yavaş:

kedi:

kuvvetli:

kısa:

uzun:

güçsüz:

hipopotam:

kaplan:

kaplumbağa:

yılan:

tırmannmak:

salyangoz:

zürafa:

insan:

sevgi:

*_*_*

...

*_*_*




...

*_*_*

...

*_*_*

...

Arabalar	Sayısı
Otobüs	
Taksi	
Minibüs	

Her resim 6 arabayı gösteriyor.

1. Otobüs sayısı kaçtır?
2. Taksi sayısı, minibüsten sayısı kaç fazladır?
3. Minibüs sayısı ile otobüs sayılarının toplamı nedir?

Arabalar	Sayısı
Otobüs	
Taksi	
Minibüs	

Her resim 3 şekli göstermektedir.

1. Üçgen sayısı ne olur?
2. Yıldız sayısı kaç olmalıdır?
3. Yıldız sayısı ile üçgen sayısının toplamı nedir?
4. Üçgen sayısı ile yıldız sayısının farkı ne olsun?

*_*_*

...

*_*_*

...

*_*_*

...

*_*_*

...

$$50 - 20 = \dots$$

$$50 - 20 = \dots$$

$$800 - 10 = \dots$$

$$600 - 40 = \dots$$

$$98 - 32 = \dots$$

$$68 - 42 = \dots$$

*_*_*

*_*_*

*_*_*

$$720 - 30 = \dots$$

$$830 - 30 = \dots$$

$$540 - 20 = \dots$$

$$610 - 40 = \dots$$

$$850 - 30 = \dots$$

$$640 - 40 = \dots$$

*_*_*

...

*_*_*

...

*_*_*

...

*_*_*

...

4		
5	- 6	=
4		

22		
54	- 3	=
86		

90		
46	- 8	=
88		

93		
57	- 12	=
90		

*_*_*

...

*_*_*

...

*_*_*

...

*_*_*

...

a. Selçuklu ile Akşehir arası 139 kilometredir. Selçuklu ile Afyon arası 207 kilometredir. Aralarındaki uzaklık farkı kaç km'dir?

b. Bir davette 139 kadın misafir; kadın misafirlerden de 14 eksik erkek misafir vardır. Davette kaç misafir vardır?

c. Kümeste 14 tavuk, tavukların 5 katı kadar da civciv vardır. Tavuk ile civcivlerin sayı farkı kaçtır?

d. Tencere seti 202 Türk Lira'sından satılmaktadır. Tabak takımı ise 117 Türk Lira'sında satılıyor. Aralarındaki fark kaç TL'dir?