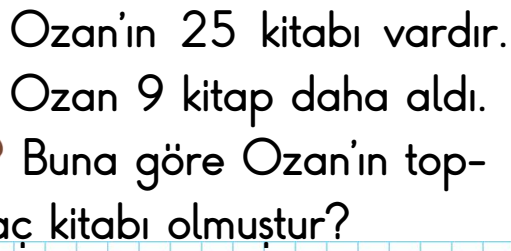




TOPLAMA VE ÇIKARMA İŞLEMİ PROBLEMLERİ - 1



Defne'nin 45 lirası vardır.
Defne 26 lira harcadı.
Buna göre Defne'nin kaç lirası kalmıştır?

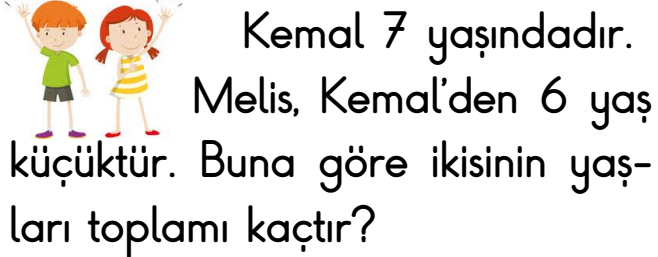
 Ayla'nın 33 kalemı vardır. 1 kalemı, Ayla'nın kalem-
lerinden 8 eksiktir. Buna göre
Elifin kaç kalemı vardır?

Tuna'nın 48 topu vardır.
Suna'nın topları, Tuna'nın toplarından 15 fazladır. Buna göre Suna'nın kaç topu vardır?


 Bir otobüste 29 yolcu vardır. İlk durakta otobüsten 14 kişi indi. İkinci durakta otobüse 12 kişi bindi. Buna göre son durumda otobüste kaç kişi kaldı?

 6 onluk 4 birlik sayısına kaç eklersem 70 sayısına ulaşırım?


TOPLAMA VE ÇIKARMA İŞLEMİ PROBLEMLERİ - 2







küçüktür. Buna göre ikisinin yaş-
ları toplamı kaçtır?

 36 yumurtanın bir kısmı satılınca 26 yumurta kalmıştır. Buna göre kaç yumurta satılmıştır?


yumurta kalmıştır. Buna göre kaç yumurta satılmıştır?

 Ceren 9 yaşındadır.
Mert, Ceren'den 2 yaş
büyüktür. Buna göre
ikisinin yaşları toplamı kaçtır?

  büyüktür. Buna göre ikisinin yaşları toplamı kaçtır?

  Bir kutuda sarı ve beyaz 93 top vardır. Bu kutuda 65 sarı top varsa kaç beyaz top vardır?

Bu kutuda 65 sarı top varsa
kaç beyaz top vardır?

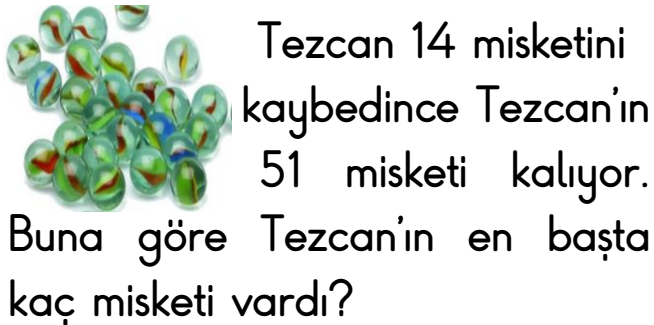
 Yandaki sayıdan bir önce ve bir sonra gelen sayıların toplamı kaçtır?

gelen sayıların toplamı kaçtır?

  Yandaki sayıların en yakın oldukları onlukların farkı kaçtır?

onlukların farkı kaçtır?

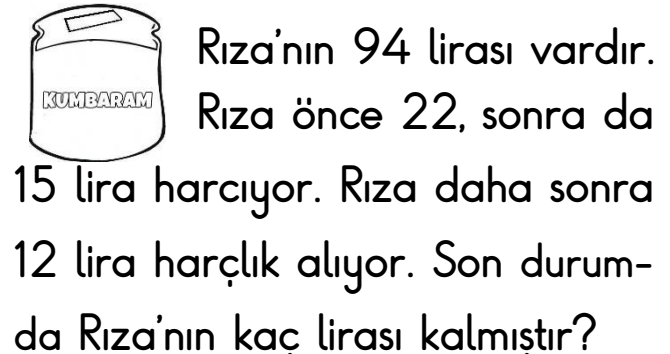
TOPLAMA VE ÇIKARMA İŞLEMİ PROBLEMLERİ - 3



Buna göre Tezcan'ın en başta kaç misketi vardı?



top alınıp kutuya 13 pembe top konuluyor. Buna göre son durumda kutuda toplam kaç top olur?

[illegible]

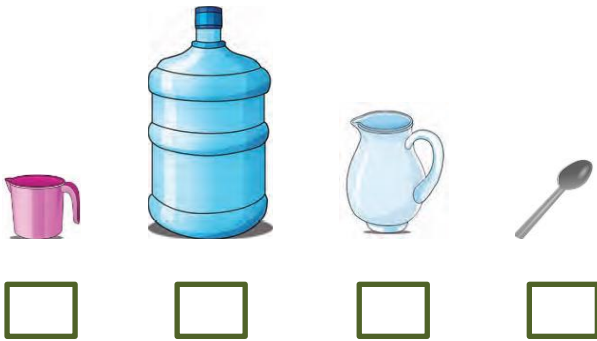
Rıza önce 22, sonra da

15 lira harcıyor. Rıza daha sonra 12 lira harçlık alıyor. Son durumda Rıza'nın kaç lirası kalmıştır?

[illegible]

SIVI ÖLÇME - 1

Aşağıdaki sıvı ölçme araçlarından en çok sıvı alanın kutusunu mavi, en az sıvı alanın kutusunu kırmızıya boyayınız.



Aşağıdaki bardağın, kovanın ve tencerenin her birine birer bardak fincan su dolduruluyor. Buna göre aşağıdaki sıvı ölçme araçlarındaki su miktarlarını karşılaştırınız.




.....

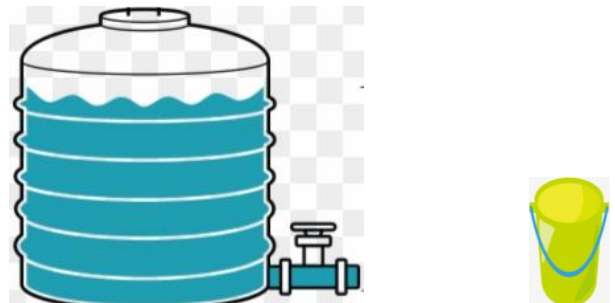
.....

.....

.....



Yukarıdaki sürahi 12 bardak ile dolmaktadır. Dolu sürahiden 3 bardak su içiliyor. Daha sonra 1 bardak su içiliyor. Buna göre sürahide kaç bardak su kalmıştır?

[illegible]

Yukarıdaki tank 53 kova su almaktadır. Tankta 45 kova su vardır. Tanktan 19 kova su boşaltılıyor. Tankın tamamını doldurmak için kaç kova su gereklidir?

A blank sheet of graph paper with a light blue grid pattern. The grid consists of small squares, approximately 1 cm by 1 cm each. There are 20 columns and 15 rows visible on the page. A single black dot is located at the top center edge of the grid, positioned between the 10th and 11th columns.

SIVI ÖLÇME - 2



This is a full-page image of a blank sheet of graph paper. The grid consists of small, uniform squares formed by thin, light blue lines. There are no margins, text, or other markings on the page.

