

KUMBARAM

Mehmet yemyeşil gözlü, siyah saçlı, tatlı mı tatlı bir çocukmuş. Mehmet, sevimli olmasının yanında aynı zamanda çok da tutumluymuş. Gereksiz yere para harcamaz, paralarını mutlaka kumbarasına atarmış. Bu tutumlu davranışı annesinin ve babasının çok hoşuna gidermiş.

Bir gün Mehmet kumbarasının tamamen dolu olduğunu fark etmiş. Bunu söylemek için oturma odasına gince annesinin ve babasının konuşmalarını duymuş. Annesi, "Bu ay bilgisayarın taksitini ertelememiz gerekiyor." demiş. Mehmet bunu duyunca kumbarasını alıp anne ve babasının yanına geçmiş. Anne ve babasına, "Anneciğim, benim kumbaram doldu. İsterseniz kumbaradaki paralar ile bu ayki bilgisayar taksitini ödeyebilirsiniz." demiş.

Annesi, babasına dönerek "Bu kadar akıllı, tutumlu, bir o kadar da duyarlı bir çocuğumuz olduğu için ne kadar şükretsek azdır." demiş ve Mehmet'i yanına çağırarak onu alnından öpmüş.

Zübeyde Ceylan
(Eğlence Sandığı)



 Aşağıdaki soruları okuduğumuz metne göre cevaplayalım.

1. Mehmet nasıl bir çocukmuş?


.....

2. Mehmet'in hangi davranışı anne ve babasını mutlu ediyormuş?

.....

3. Mehmet neden kumbarasını annesine vermiş?

.....


-  Aşağıda verilen cümlelerin yazımında yanlışlık yapılmışsa “Y”, yapılmamış ise “D” yazalım.

Yeni saatim bozuk çıktı.	
Sen hiç uçağa bindinmi?	
özlem dün bizde uyudu.	
Okulumuzun adı atatürk ilkokuludur.	
“Canım öğretmenim” şiirini okudum.	
Her sabah 08,00’da uyanıyorum.	
Spor yapmayı çok seviyorum.	


-  Aşağıda verilen kelimelerin doğru yazılmış hâlini işaretleyelim.

eylence	eğlence
pembe	penbe
herkez	herkes

sipor	spor
piroblem	problem
yağmur	yamur

-  Aşağıdaki noktalı yerlere yazılması gereken soru eklerini yandaki tablodan bulup yandaki cümledeki noktalı yere yazalım.

Yarın konsere gidelimmi.....?	mü	mi	misin
Benimle doktora gelir?	misin	mü	mi
Kitabını buldun?	mi	mu	mü
Ödevlerini bitirebildin?	misin	mu	mi
Haftaya sınavların başlıyor?	mı	mu	mi

 Aşağıdaki görsellere göre noktalı yerlere "bütün, yarım, çeyrek" ifadelerinden uygun olanı yazalım.



..... simit



..... karpuz



..... ekmek



..... simit



..... ekmek



..... elma

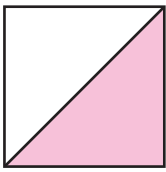


..... elma

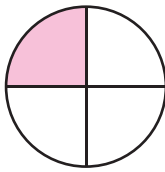


..... karpuz

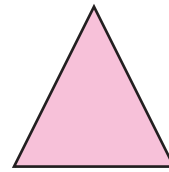
 Aşağıdaki şekillerin boyalı bölümlerine göre doğru ifadeyi işaretleyelim.



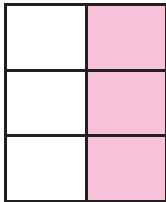
☐ bütün
☐ yarım
☐ çeyrek



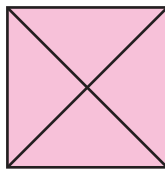
☐ bütün
☐ yarım
☐ çeyrek



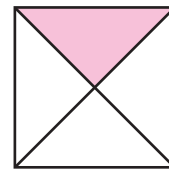
☐ bütün
☐ yarım
☐ çeyrek



☐ bütün
☐ yarım
☐ çeyrek



☐ bütün
☐ yarım
☐ çeyrek



☐ bütün
☐ yarım
☐ çeyrek

 Aşağıdaki cümleleri görsellere göre tamamlayalım.



.... bütün pasta

.... yarım pasta eder.



.... bütün limon



.... çeyrek limon eder.



.... çeyrek elma

.... yarım elma eder.



.... yarım simit

.... çeyrek simit eder.

 Aşağıdaki saatlerin öğleden önce ve öğleden sonra kaçı gösterdiklerini yazalım.



Öğleden önce
Öğleden sonra




Öğleden önce
Öğleden sonra



Öğleden önce
Öğleden sonra



Öğleden önce
Öğleden sonra

 Aşağıdaki saatlerin yarım saat öncesi ve yarım saat sonrasının kaçı gösterdiğini yazalım.

yarım saat öncesi



yarım saat sonrası

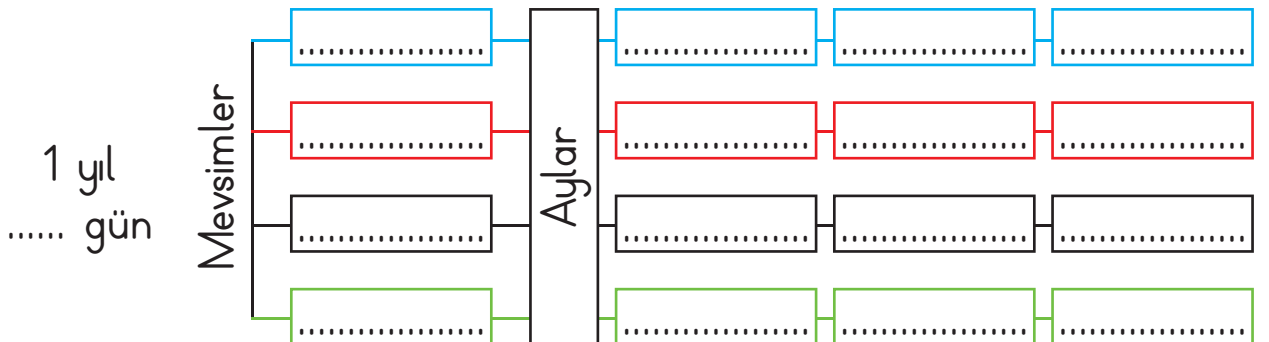


.....


.....


.....

 Aşağıdaki tabloda noktalı yerlere uygun ifadeler yazalım.



✏️ Görsellerdeki canlılarla bu canlıların yaşayabilmesi için gerekli şartları eşleştirelim.

su

güneş

hava



toprak

barınak

✏️ Aşağıdaki görsellerden evde yetiştirebileceğimiz bitkileri ve evde besleyebileceğimiz hayvanları işaretleyelim.



✏️ Bir bitkinin büyüebilmesi için nelere ihtiyacı vardır? İşaretleyelim.

yem

hava

yıldız



güneş ışığı


su

toprak

süt

 Aşağıdaki görsellerden doğal unsur olanları işaretleyelim.



 Aşağıda görselleri verilen doğa olaylarının insan yaşamını olumlu mu, yoksa olumsuz yönde mi etkilediğini işaretleyelim.



☐ Olumlu
☐ Olumsuz



☐ Olumlu
☐ Olumsuz



☐ Olumlu
☐ Olumsuz

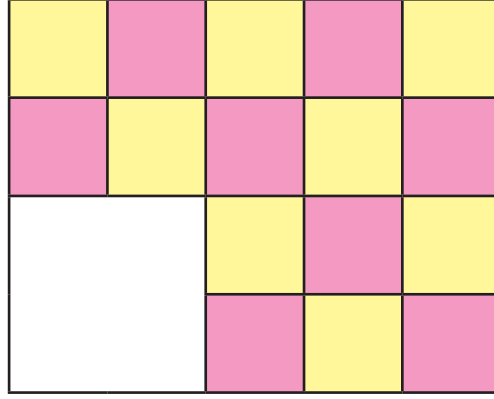


☐ Olumlu
☐ Olumsuz

 Aşağıdaki görselleri uygun geri dönüşüm kutusuyla eşleştirelim.




1.

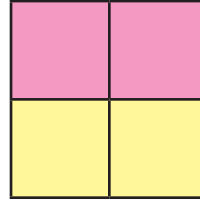


Yukarıdaki şekilde boş bırakılan yere aşağıdakilerden hangisi gelmelidir?


A)




B)



C)



D)



2.



Yukarıdaki şekilde kaç tane dikdörtgen vardır?

A) 6

B) 7

C) 8

Cevap 1 - C seçeneği

Cevap 2 - C seçeneği



Aşağıdaki yuvarlaklar içine öyle rakamlar yazalım ki soldan sağa, yukarıdan aşağıya rakamları toplamaları yuvarlakların dışındaki sayıları versin.

(2)	()	(3)	7
(6)	()	()	14
()	()	(9)	12
10	8	15	

()	(5)	(9)	16
(3)	(5)	()	9
()	(4)	()	19
10	14	20	

(7)	()	(4)	18
(2)	()	(8)	13
()	()	()	23
15	15	24	

(2)	()	(3)	14
(3)	()	()	13
()	(6)	(0)	12
11	18	10	