


GÖREV 1

36

Sayısının çeyreği ile
yarısının toplamı kaçtır?

GÖREV 2



.... bütüne eşittir.

....çeyreğe eşittir.

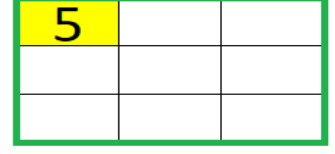
GÖREV 3



.... yarıma eşittir.

....çeyreğe eşittir.

GÖREV 4

Boyalı kısım 5 ise diğer
kısımları da boyayıp 5
yazdığımızda şeklin tamamı
kaç eşit olur?

Saat kaç gösteriyor?



Saat kaç gösteriyor?



Saat kaç gösteriyor?




Saat kaç gösteriyor?




Akrep ve yelkovanı çiz.

22.30




Akrep ve yelkovanı çiz.

7.15



Akrep ve yelkovanı çiz.

14.45



Akrep ve yelkovanı çiz.

6.00

2 yıl kaç aydır?

.....

4 hafta kaç gündür?

.....

3 ay kaç gündür?

.....

Eylül 2020

Pt	Sa	Ça	Pe	Cu	Ct	Pz
	1	2	3	4	5	6
7	8	9	10	11	12	13
14	15	16	17	18	19	20
21	22	23	24	25	26	27
28	29	30				

← Soruları yandaki takvime
göre cevaplayalım.Takvim hangi ay ve
yıla aittir?Pazar gününe gelen
tarihler nelerdi?

.....

Hangi günle başlayıp
hangi günle biter?

.....

.....

Verilen ay kaç
gündür?

.....

Görsel günün hangi
bölümüne ait?

.....

Görsel günün hangi
bölümüne ait?

.....

Görsel günün hangi
bölümüne ait?

.....

Görsel günün hangi
bölümüne ait?

.....