

MATEMATİK TEKRAR ÇALIŞMASI



913	778	699	910	370	703
- 292	+ 123	- 625	- 195	+ 551	- 270



Üçer ritmik sayarken 2. söylediğimiz sayı kaçtır?.....
 İkişer ritmik sayarken 9. söylediğimiz sayı kaçtır?.....
 İkişer ritmik sayarken 2. söylediğimiz sayı kaçtır?.....
 İkişer ritmik sayarken 6. söylediğimiz sayı kaçtır?.....
 Yedişer ritmik sayarken 10. söylediğimiz sayı kaçtır?.....

$$\begin{aligned}
 2 + \diamond &= 10 \\
 \heartsuit + \diamond &= 12 \\
 \heartsuit - \blacksquare &= 1 \\
 \blacksquare + \blacksquare &= 11 \\
 \blacksquare - 6 &= \dots\dots
 \end{aligned}$$

Sayı	Onluğa Yuvarla	Yüzlüğe Yuvarla
5 1 3		
8 0 7		
5 9 1		

I	X
XV	XX
XIII	XIV
XVI	VI
XVIII	V

Sayılar	Tahmin	Sonuç
408 315		
Tahmin ve sonuç arasındaki fark :		

Sayılar	Tahmin	Sonuç
358 58		
Tahmin ve sonuç arasındaki fark :		

8 sayısının 3 katının 23 eksiği kaç eder?
 5 sayısının 4 katının 27 fazlası kaç eder?
 3 sayısının 5 fazlasının 3 katı kaç eder?
 7 sayısının 5 katının 2 fazlası kaç eder?
 21 sayısının 3 ile bölümünün 3 katı kaç eder?
 3 sayısının 5 katının 3 ile bölümü kaç eder?

4x4 SUDOKU (ZOR SEVİYE)

		3	4
4		2	
	4		
1			