


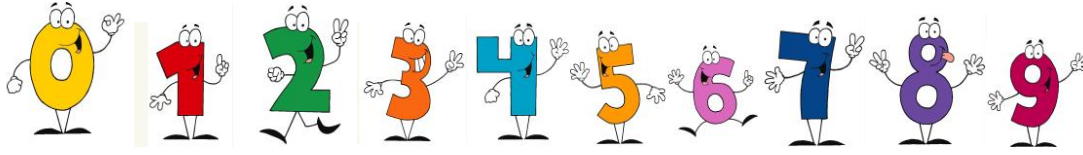
3. Sınıf Matematik Dersi Sayı Oluşturma Etkinliği

Verilen rakamları kullanarak aşağıdaki alıştırmaları yapınız.



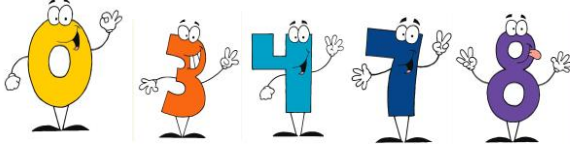
1. Rakamları farklı olan iki basamaklı en büyük sayı :
2. Rakamları farklı olan iki basamaklı en küçük sayı :
3. Rakamları farklı olan iki basamaklı en büyük çift sayı :
4. Rakamları farklı olan iki basamaklı en küçük tek sayı :
5. Rakamları farklı olan üç basamaklı en büyük sayı :
6. Rakamları farklı olan üç basamaklı en küçük sayı :
7. Rakamları farklı olan üç basamaklı en büyük çift sayı :
8. Rakamları farklı olan üç basamaklı en küçük tek sayı :
9. Rakamları aynı olan iki basamaklı en büyük sayı :
10. Rakamları aynı olan iki basamaklı en küçük sayı :
11. Rakamları aynı olan iki basamaklı en büyük çift sayı :
12. Rakamları aynı olan iki basamaklı en küçük tek sayı :
13. Rakamları aynı olan üç basamaklı en büyük sayı :
14. Rakamları aynı olan üç basamaklı en küçük sayı :
15. Rakamları aynı olan üç basamaklı en büyük çift sayı :
16. Rakamları aynı olan üç basamaklı en küçük tek sayı :

Verilen rakamları kullanarak aşağıdaki alıştırmaları yapınız.



1. Rakamları farklı olan iki basamaklı en büyük sayı :
2. Rakamları farklı olan iki basamaklı en küçük sayı :
3. Rakamları farklı olan iki basamaklı en büyük çift sayı :
4. Rakamları farklı olan iki basamaklı en küçük tek sayı :
5. Rakamları farklı olan üç basamaklı en büyük sayı :
6. Rakamları farklı olan üç basamaklı en küçük sayı :
7. Rakamları farklı olan üç basamaklı en büyük çift sayı :
8. Rakamları farklı olan üç basamaklı en küçük tek sayı :
9. Rakamları aynı olan iki basamaklı en büyük sayı :
10. Rakamları aynı olan iki basamaklı en küçük sayı :
11. Rakamları aynı olan iki basamaklı en büyük çift sayı :
12. Rakamları aynı olan iki basamaklı en küçük tek sayı :
13. Rakamları aynı olan üç basamaklı en büyük sayı :
14. Rakamları aynı olan üç basamaklı en küçük sayı :
15. Rakamları aynı olan üç basamaklı en büyük çift sayı :
16. Rakamları aynı olan üç basamaklı en küçük tek sayı :

Verilen rakamları kullanarak aşağıdaki alıştırmaları yapınız.



1. Rakamları farklı olan iki basamaklı en büyük sayı :
2. Rakamları farklı olan iki basamaklı en küçük sayı :
3. Rakamları farklı olan iki basamaklı en büyük çift sayı :
4. Rakamları farklı olan iki basamaklı en küçük tek sayı :
5. Rakamları farklı olan üç basamaklı en büyük sayı :
6. Rakamları farklı olan üç basamaklı en küçük sayı :
7. Rakamları farklı olan üç basamaklı en büyük çift sayı :
8. Rakamları farklı olan üç basamaklı en küçük tek sayı :
9. Rakamları aynı olan iki basamaklı en büyük sayı :
10. Rakamları aynı olan iki basamaklı en küçük sayı :
11. Rakamları aynı olan iki basamaklı en büyük çift sayı :
12. Rakamları aynı olan iki basamaklı en küçük tek sayı :
13. Rakamları aynı olan üç basamaklı en büyük sayı :
14. Rakamları aynı olan üç basamaklı en küçük sayı :
15. Rakamları aynı olan üç basamaklı en büyük çift sayı :
16. Rakamları aynı olan üç basamaklı en küçük tek sayı :

Verilen rakamları kullanarak aşağıdaki alıştırmaları yapınız.



1. Rakamları farklı olan iki basamaklı en büyük sayı :
2. Rakamları farklı olan iki basamaklı en küçük sayı :
3. Rakamları farklı olan iki basamaklı en büyük çift sayı :
4. Rakamları farklı olan iki basamaklı en küçük tek sayı :
5. Rakamları farklı olan üç basamaklı en büyük sayı :
6. Rakamları farklı olan üç basamaklı en küçük sayı :
7. Rakamları farklı olan üç basamaklı en büyük çift sayı :
8. Rakamları farklı olan üç basamaklı en küçük tek sayı :
9. Rakamları aynı olan iki basamaklı en büyük sayı :
10. Rakamları aynı olan iki basamaklı en küçük sayı :
11. Rakamları aynı olan iki basamaklı en büyük çift sayı :
12. Rakamları aynı olan iki basamaklı en küçük tek sayı :
13. Rakamları aynı olan üç basamaklı en büyük sayı :
14. Rakamları aynı olan üç basamaklı en küçük sayı :
15. Rakamları aynı olan üç basamaklı en büyük çift sayı :
16. Rakamları aynı olan üç basamaklı en küçük tek sayı :