







3-E SINIFI MATEMATİK ÇALIŞMALARI

Köyümüzde yaşayan kişilere ait nesne grafiği verilmiştir. Bu grafiğe göre aşağıdaki soruları cevaplayınız.

Köyde Yaşayan Kişiler	
DEDELER	
NİNELER	
BABALAR	
ANNELER	
ERKEK ÇOCUKLAR	
KIZ ÇOCUKLAR	
Her resim 5 kişiyi göstermektedir.	

1- Bu köyde kaç tane kız çocuğu yaşamaktadır?

2- Bu Köyde kaç tane anne yaşamaktadır?

[illegible]

3- Bu Köyde kaç tane baba yaşamaktadır?

4- Bu Köyde kaç tane nine yaşamaktadır?

5- Bu Köyde kaç tane dede yaşamaktadır?

6- Dedeler ninelerden kaç kişi fazladır?

7- Erkek çocuklar annelerden kaç kişi fazladır?

8- Dedeler babalardan kaç kişi azdır?

9- Anneler ile ninelerin toplamı kaçtır?

10- Dedeler babalar ve erkek çocukların sayısı, nineler, anneler ve kız çocukların sayısından ne kadar fazladır?