

3-E SINIFI MATEMATİK ÇALIŞMALARI

Kız	
Erkek	
Her şekil 4 kişiyi gösterir.	




Her şekil 4 kişiyi gösterir.

1- Bu sınıfta kaç kız öğrenci vardır?

2- Bu sınıfta kaç erkek öğrenci vardır?

3- Sınıf mevcudu kaç kişidir?

4- Kız öğrenciler, erkek öğrencilerden kaç fazladır?

Kuş	
Köpek	
Ördek	
Her şekil 7 kişiyi gösterir.	

Her şekil 7 kişiyi gösterir.

5- Çiftlikte kaç kuş var?

A blank 10x10 grid for drawing a picture.

6- Çiftlikte kaç köpek var?

[illegible]

7- Çiftlikte kaç ördek var?

8- Çiflikteki hayvanların sayısının 3 katının 25 fazlası kaçtır?

[illegible]

