






## 3-E SINIFI MATEMATİK ÇALIŞMALARI

Dedemin Çiftliğindeki meyve ağaçları	
kiraz	
ceviz	
kayı	
erik	
elma	

Her şekil 8 meyve ağacını gösterir.

Dedemin çiftliğinde meyve ağaçlarının sayısı yukarıdaki grafik ile gösterilmektedir.

**1- Dedemin çiftliğinde kaç tane portakal ağacı vardır?**

A blank grid of 20 columns and 10 rows. A horizontal line is drawn across the middle, separating the top 5 rows from the bottom 5 rows.

2- Kaç tane ceviz ağacı vardır?

[illegible]

3- Kaç tane elma ağacı vardır?

[illegible]

4- Kaç tane kiraz ağacı vardır?

[illegible]

**5- Kaç tane kayısı ağacı vardır?**

[illegible]

6- Kaç tane erik ağacı vardır?

[illegible]

7- Erik ağaçları ile kiraz ağaçlarının toplamının 5 katı kaçtır?

[illegible]

8- Kiraz ağaçları ile ceviz ağaçlarının farkının 7 katı kaçtır?

9- En fazla ağaç ile en az ağaçların toplamının yarısı kaçtır?

A large rectangular grid consisting of 20 columns and 10 rows of squares, intended for drawing a picture.

**10- Dedemin çiftliğindeki meyve ağaçları toplam kaç tanedir?**

[illegible]

**11-** Erik ağaçları ile elma ağaçlarının toplamı ile kaysı ve ceviz ağaçlarının toplamından ne kadar fazladır?

[illegible]

12) Kiraz ağaçları elma ağaçlarından ne kadar azdır. Farkın 3 katının 15 fazlası kaçtır?

[illegible]