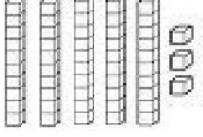

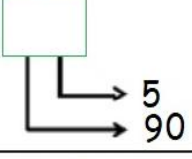








GÖREV 1	GÖREV 2	GÖREV 3	GÖREV 4
Büyük sayıyı işaretle 15 49 7 32	Küçük sayıyı işaretle 92 29 26 62	Sayıyı yaz 3 onluk 9 birlik <input type="text"/> 5 birlik 7 onluk <input type="text"/>	Sayıları göster 25 ....onluk ....birlik 93 ....onluk ....birlik
Topla 14 + 28 + 20 = ..... 35 + 10 + 21 = .....	Çıkar 65 - 34 = ..... 81 - 47 = .....	Sayıyı yaz  <input type="text"/>	Onluğa yuvarla 38 <input type="text"/> 17 <input type="text"/> 61 <input type="text"/> 92 <input type="text"/> 25 <input type="text"/> 46 <input type="text"/>
Çarp 9 x 4 = <input type="text"/> 5 x 3 = <input type="text"/>	Çarpma şeklinde göster 2 + 2 + 2 + 2 = <input type="text"/> 5 + 5 + 5 = <input type="text"/> 4 + 4 + 4 + 4 + 4 = <input type="text"/>	$\begin{array}{r} 34 \\ - 19 \\ \hline \end{array}$ $\begin{array}{r} 80 \\ - 41 \\ \hline \end{array}$ <input type="text"/> <input type="text"/>	$\begin{array}{r} 57 \\ + 28 \\ \hline \end{array}$ $\begin{array}{r} 46 \\ + 25 \\ \hline \end{array}$ <input type="text"/> <input type="text"/>
Basamağını yaz 72 	Sayıyı yaz 26 → 47 →	Çöz 1 onluk 4 birlikten oluşan sayının 39 fazlası kaçtır? <input type="text"/>	Sayıyı yaz 
Toplama şeklinde göster 4 x 1 = 2 x 5 =	Çöz 44 cevizin 26 tanesi yendiğinde kaç ceviz kalır? <input type="text"/>	Sayıyı yaz elli sekiz → yetmiş üç →	Verilmeyeni bul <input type="text"/> + 61 = 98
Misket sayısını 4 'e böl  <input type="text"/>	Bölme şeklinde göster  ..... : ..... = .....	 2' li grupla ve grup sayısını yaz <input type="text"/>	Çarpma şeklinde göster  ..... x ..... = .....
Böl 12 : 3 = <input type="text"/> 24 : 4 = <input type="text"/> 35 : 5 = <input type="text"/>	Üçerli grupla  Kaç grup oldu? <input type="text"/>	Onluk blokla göster 40 <input type="text"/>	Bölme işlemini yap $\begin{array}{r} 24 \overline{) 3} \\ \hline \end{array}$ $\begin{array}{r} 18 \overline{) 2} \\ \hline \end{array}$
Bölme şeklinde göster  ..... : ..... = .....	Çöz 32 fındığı 4 kişi paylaşırsa her birinin kaç fındığı olur? <input type="text"/>	Çöz 9 elmanın 2 katının 15 fazlası kaçtır? <input type="text"/>	Çöz 45 öğrenci beşerli gruplandığında her grupta kaç öğrenci olur? <input type="text"/>