

Adı:

Soyadı:.....

3-... SINIFI MATEMATİK DERSİ
KESİRLERİN MODEL ve
SAYI DOĞRUSUNDA GÖSTERİMİ

ETKİNLİK-1

Aşağıda verilen kesirlerin okunuşlarını yazarak önce modelle ardından da sayı doğrusu üzerinde gösterelim.

$\frac{3}{5}$	$\frac{2}{8}$
$\frac{3}{4}$	$\frac{5}{6}$
$\frac{2}{9}$	$\frac{1}{7}$
$\frac{6}{8}$	$\frac{1}{3}$
$\frac{5}{5}$	$\frac{1}{2}$
$\frac{4}{7}$	$\frac{7}{10}$

Adı:

Soyadı:.....

3-... SINIFI MATEMATİK DERSİ
KESİRLERİN MODEL ve
SAYI DOĞRUSUNDA GÖSTERİMİ

ETKİNLİK-2

Aşağıda verilen kesirlerin okunuşlarını yazarak önce modelle ardından da sayı doğrusu üzerinde gösterelim.

$\frac{2}{5}$	$\frac{1}{8}$
$\frac{7}{9}$	$\frac{5}{10}$
$\frac{4}{7}$	$\frac{7}{8}$
$\frac{4}{5}$	$\frac{1}{6}$
$\frac{7}{8}$	$\frac{2}{4}$
$\frac{3}{7}$	$\frac{5}{9}$

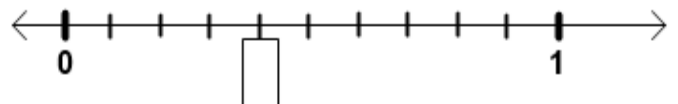
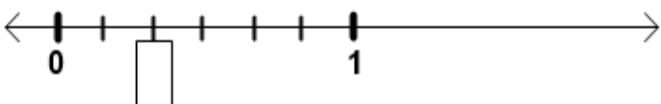
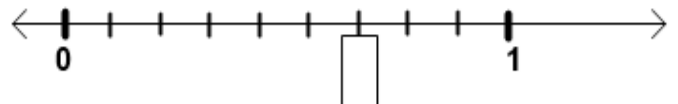
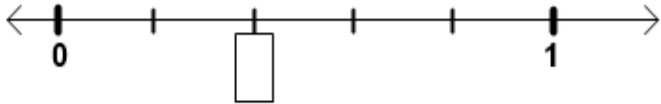
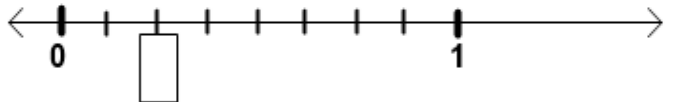
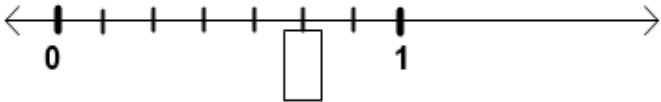
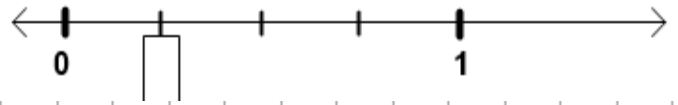
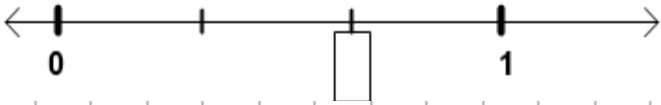
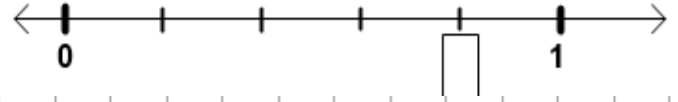
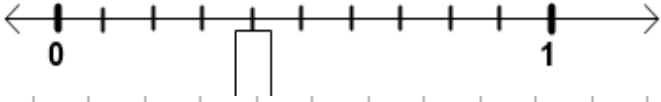
Adı:

Soyadı:.....

3-... SINIFI MATEMATİK DERSİ
KESİRLERİN MODEL ve
SAYI DOĞRUSUNDA GÖSTERİMİ

ETKİNLİK-3

Aşağıda sayı doğrusu üzerinde belirtilen kesri ve okunuşunu yazalım ardından kesri modelle gösterelim.



Mehmet BAŞIÖZÜK

Adı:

Soyadı:.....

3-... SINIFI MATEMATİK DERSİ
KESİRLERİN MODEL ve
SAYI DOĞRUSUNDA GÖSTERİMİ

ETKİNLİK-4

Aşağıda sayı doğrusu üzerinde belirtilen kesri ve okunuşunu yazalım ardından kesri modelle gösterelim.

