

Adı:

Soyadı:

No:

FEN BİLİMLERİ 1, 2 ve 3. ÜNİTE DEĞERLENDİRME ETKİNLİĞİ

1. Aşağıdaki varlıklardan hangisi kendi başına hareket edemez ?

A)



B)



C)



Sevgili Günlük,

Bugün parkta yürürken birden çok güzel bir salıncak gördüm. Hemen koşarak oraya gittim. Salıncakta sallanırken çok eğlendim. Daha sonra abim geldi. Beni lunaparka götürdü. Lunaparkta atlı karıncaya bindim. Eve dönerken abime teşekkür ettim. Bugün benim için çok güzel geçti.

2. Yukarıdaki metinde Sıla'nın günlüğünden bir bölüm verilmiştir. Sıla'nın gün içerisinde yaptığı hareket çeşitlerinin altı çizilmiştir. Buna göre Sıla'nın yaptığı hareket çeşitleri hangi seçenekte sırasıyla doğru verilmiştir ?


A) Yavaşlama - Yön Değiştirme - Hızlanma

B) Hızlanma - Yön Değiştirme - Dönme

C) Hızlanma- Sallanma- Dönme



Fren yapan araba



Vantilatörün pervanesi



Saatin sarkacı

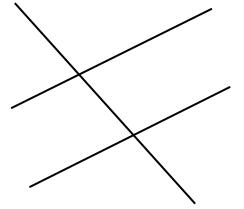
Dönme

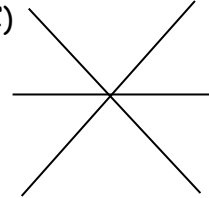
Sallanma

Yavaşlama

3. Yukarıda görsellerde verilen varlıkları yaptıkları hareket çeşitleri ile eşleştirirsek ortaya nasıl bir şekil çıkar ?

A) _____

B) 

C) 

4. " Bir cismi hareket ettirerek kendimizden uzaklaştırmayadenir. "

Yukarıdaki cümlede boş bırakılan yere aşağıdakilerden hangisi gelmelidir ?

A) itme

B) çekme

C) dönme

5. Aşağıdaki olayların hangisinde hem itme hem de çekme kuvveti vardır ?

- A) Halat çekme oyunu oynamak
- B) Testere ile odun kesmek
- C) Yakan top oynamak

6. Ela arkadaşının ona doğru attığı topun hızlanmasını istiyor. Bunun için Ela topa nasıl bir kuvvet uygulamalıdır ?

- A) Topa zıt yönde kuvvet uygulamalıdır.
- B) Topa aynı yönde kuvvet uygulamalıdır.
- C) Topu durdurmalıdır.

7. Havaya fırlatılan top sırasıyla hangi hareketleri yapar ?

- A) Top yukarı çıkarken yavaşlayan, aşağı inerken ise hızlanan hareket yapar.
- B) Top yukarı çıkarken hızlanan, aşağı inerken ise yavaşlayan hareket yapar.
- C) Top yukarı çıkarken dönme, aşağı inerken ise sallanma hareketi yapar.

Eve geldiğimde mutfaktan çok güzel kokular geliyordu. Mutfığa gittiğimde masanın üzerinde en sevdiğim yemek olan köfteyi gördüm. Hemen bir tane alıp tadına baktım. Çok lezzetli olmuştu.

8. Yukarıdaki metinde, yazar hangi duyu organını kullanmamıştır ?

- A) Burun
- B) Dil
- C) Kulak

9. Vücudumuzun en büyük duyu organımız aşağıdakilerden hangisidir ?

- A) Dil
- B) Deri
- C) Burun

10. Duyu organlarımızın sağlığı için aşağıdakilerden hangisini yapmak doğrudur ?

- A) Kulağımızı sivri cisimlerle karıştırmalıyız.
- B) Burun kıllarımızı koparmalıyız.
- C) Dişlerimizi fırçalarken dilimizi de fırçalamalıyız.

I. Bilmediğimiz maddelerin tadına bakabiliriz.

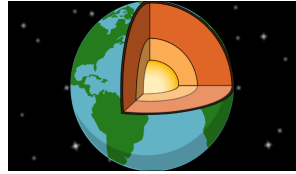
II. Bilmediğimiz maddeleri koklamak tehlikeli olabilir.

III. Gürültülü ortamlardan kaçınmalıyız.

11. Yukarıdaki ifadelerden hangileri doğrudur ?

- A) II ve III
- B) I ve III
- C) I, II ve III

12. Dünya'nın katmanları içten dışa doğru hangi seçenekte verilmiştir ?



- A) Çekirdek - Ateş Küre -Yer Kabuğu
- B) Hava Küre - Su Küre - Ateş Küre
- C) Yer Kabuğu - Su Küre - Ateş Küre

13. "Diğer ismi Ağır Küre'dir. Dünya'mızın en sıcak katmanıdır."

Yukarıda bahsedilen katman aşağıdakilerden hangisidir ?

- A) Çekirdek
- B) Ateş Küre
- C) Taş Küre