

MATEMATİK ÇALIŞMA KÂĞIDI 1

ÜÇ BASAMAKLI SAYILARI OKUMA YAZMA

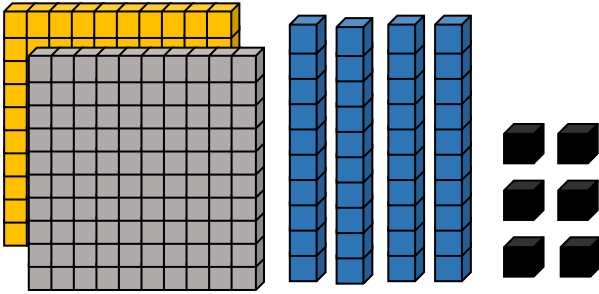
1 . Aşağıda rakamlar yazılmış sayıların okunuşlarını yazalım.

- a. 752:
b. 1 05:
c. 41 2:
ç. 560:
d. 854:
e. 71 7:
f. 242:
g. 645:

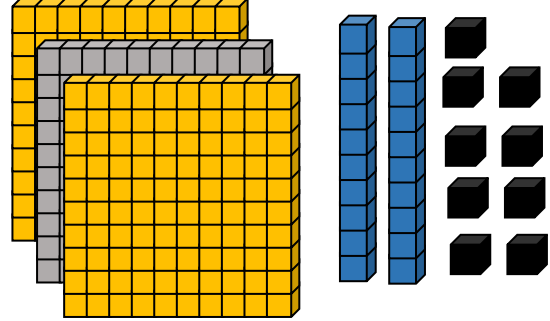
2. Aşağıda okunuşlarını verilen sayıları rakamla yazalım.

- | | |
|-------------------------------|----------------------------------|
| a. üç yüz yirmi sekiz : | b. yedi yüz yetmiş sekiz : |
| c. Dokuz yüz on dokuz : | ç. Beş yüz dört : |
| d. altı yüz yirmi bir : | e. Sekiz yüz otuz altı : |
| f. Dört yüz dört : | g. Yüz doksan üç : |

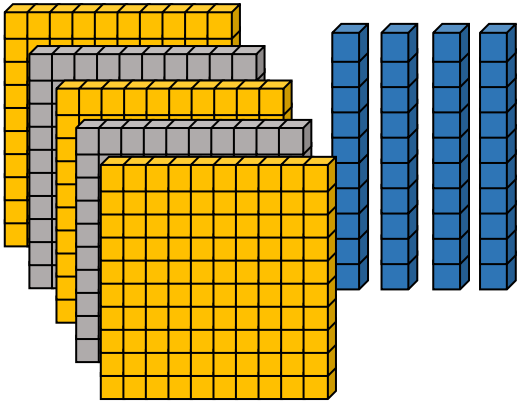
3. Aşağıda bloklarla verilen sayıları örnekteki gibi yazalım.



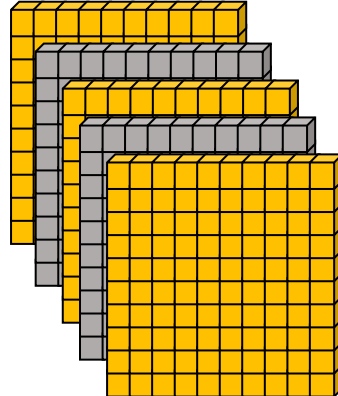
$$2 \text{ yüzlük} + 4 \text{ onluk} + 6 \text{ birlik} = 246$$



$$\dots\dots\dots = \dots\dots$$

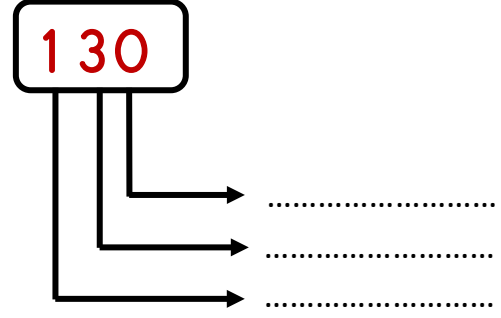
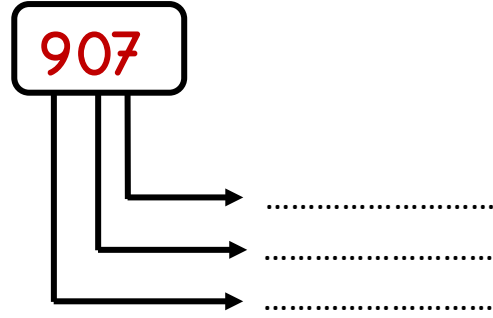
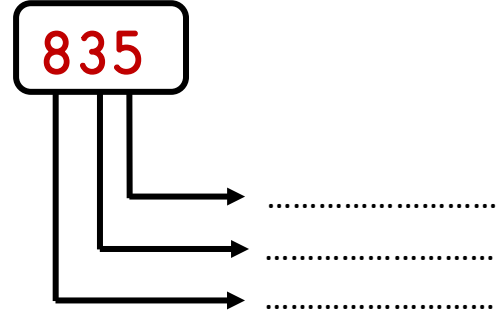
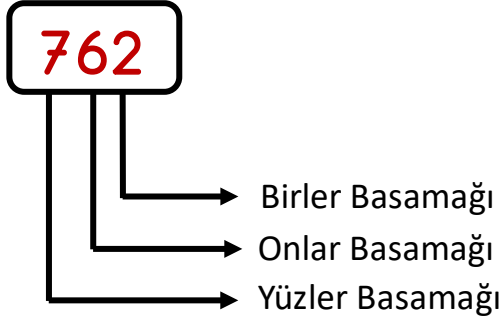


$$\dots\dots\dots = \dots\dots$$



$$\dots\dots\dots = \dots\dots$$

4. Aşağıda verilen sayıların basamak adlarını örnekteki gibi yazalım.



5. Basamaklarındaki rakamları verilen sayıları yazalım.

Yüzler Basamağı:6	Onlar Basamağı:3	Birler Basamağı:9	Sayı:
Yüzler Basamağı:2	Onlar Basamağı:8	Birler Basamağı:4	Sayı:
Onlar Basamağı:0	Yüzler Basamağı:5	Birler Basamağı:2	Sayı:
Birler Basamağı:1	Onlar Basamağı:7	Yüzler Basamağı:3	Sayı:
Yüzler Basamağı:7	Birler Basamağı:2	Onlar Basamağı:9	Sayı:

6. Örnekteki gibi yazalım.

418

187

805

372

Yüzler Basamağı: 4	Yüzler Basamağı:...	Birler Basamağı:....	Onlar Basamağı:....
Onlar Basamağı: 1	Onlar Basamağı:....	Onlar Basamağı:....	Birler Basamağı:....
Birler Basamağı: 8	Birler Basamağı:	Yüzler Basamağı:....	Yüzler Basamağı:....

747

590

924

657

Yüzler Basamağı:....	Birler Basamağı:....	Birler Basamağı:....	Yüzler Basamağı:....
Birler Basamağı:....	Onlar Basamağı:....	Yüzler Basamağı:....	Birler Basamağı:....
Onlar Basamağı:	Yüzler Basamağı:....	Onlar Basamağı:....	Onlar Basamağı:....