

ADI SOYADI:.....

TÜRKÇE



“ Ahmet, harçlıklarından bir miktar para biriktirmişti. Birkaç kitap alabileceğini biliyordu. Babasına: — Babacığım, çarşıya gidebilir miyiz, diye sordu.

Babası:

— Tabi, Ahmetçğim, dedi.

Birlikte çarşıya gittiler. Birkaç saat içinde Ahmet istediği kitapları almıştı. Ahmet o gün eve gelip, o güzelim kitaplarını bir an önce okumak için can atıyordu.”

(1. 2.ve 3. soruları parçaya göre yanıtlayınız.)

1. Parçaya göre aşağıdakilerden hangisi Ahmet’ in bir kişilik özelliği değildir?

- A) Harcama yapmayı seven bir kişi.
- B) Tutumlu olan bir kişi.
- C) Kitap okumayı seven bir kişi.

2. “Ahmet harçlıklarından para biriktiren bir kişidir.” Ahmet’ in bu davranışını açıklayan atasözü aşağıdakilerden hangisidir?

- A) Damlaya damlaya göl olur.
- B) Çivi çiviye söker.
- C) Güneş balçıkla sıvanmaz.

3. “..... o güzelim kitaplarını bir an önce okumak için can atıyordu.” ifadesinde altı çizili olan kelimelerin anlamı aşağıdaki seçeneklerin hangisinde belirtilmiştir?

- A) Hemen
- B) Bir saat önce
- C) Bir saat sonra

4. “Yusuf abi okuldan sinemaya doğru gitti.” Yukarıdaki cümlede büyük ünlü uyumuna uymayan sözcükler aşağıdakilerden hangisinde doğru olarak verilmiştir?

- A. abi - okul
- B.yusuf -sinema
- C.abi – sinema

5. “Furkan çok güzel şiir okuyor.”

Yukarıdaki cümlelerin kelime sayısı ile aşağıdaki hangi cümlelerin kelime sayısı aynıdır?

- A) Sabahları kahvaltı yapmalıyız.
- B) Kitap bize çok şey öğretir.
- C) Ahmet, babasıyla camiye gidecek.

6. Aşağıdaki kelimelerden hangisi hecelerine doğru ayrılmıştır?

- A. Spor-cu-lar
- B. Has-an-keyf
- C. Çi-kol-a-ta

“Babam, gece gündüz demeden çalışıyordu.”

7. Yukarıdaki altı çizili kelimelerdeki anlam ilişkisi aşağıdakilerden hangisinde vardır?

Öğrenci Zayıf



Talebe

A.

Hikaye



Şişman

B.



Öykü


C.

8. Aşağıdaki çocuklardan hangisinin söylediği cümlede daha çok hece vardır?



A.

Aykut ,Suat okulda baş başa kaldılar.



B.

Nurhan ödevini yapıyor.



C.

Türkiye’de ilk petrol Batman’da bulundu.



Kedi



Keman



Kelebek



Keçi

9.Yukarıdaki görsellerin isimlerinin sözlük sırasına göre sıralanması aşağıdakilerden hangisidir?

- A.keçi-kedi-kelebek-keman
- B.kelebek-kedi-keman-keçi
- C.keman-keçi-kelebek-kedi

10. Aşağıdaki cümlelerin hangisinde yazım yanlışı yapılmamıştır?

- A. Genç adam sessizce tirene bindi.
- B. İki haftadır bu turnuvaya hazırlanıyorlardı.
- C. Çocuklar kirpitle oynamamalıdır.

Futbolda en çok hoşuma giden şey, bir futbolcunun gol atmasına takım arkadaşlarının da sevinmesidir. Bu güzel davranışta, başarının bütün takıma ait olduğunu görüyoruz. Yardımlaşma , dostluk, sevgi ve arkadaşlık duygularını böylece hissediyoruz.

11. Yukarıdaki paragraftan hangi sonucu çıkaramayız?

- A. Kazanma hırsıyla rakip oyuncuların incitilmesi yanlış bir davranıştır.
- B. Başarıya birlikte sevinmek güzel bir davranıştır.
- C. Arkadaşlar arasında yardımlaşmayla başarı elde edilebilir.



12. Yukarıdaki tahtada verilen kelimeler zıt anlamlılarıyla eşleştirildiğinde hangisi boşta kalır?

- A. cesur B. Kötü C. çirkin



Atalarım gökten yere
İndirmişler ay yıldızı
Bir buluta sarmışlar ki
Rengi şafaktan kırmızı

Hasan Ali YÜCEL

13. Yukarıdaki şiirin konusu aşağıdakilerden hangisidir?

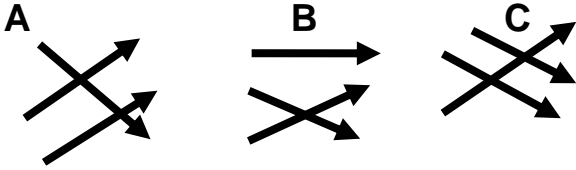
- A. Gökyüzü B. Bayrak C. Bulutlar

14. Aşağıdaki cümlelerden hangisinde " bin " kelimesi farklı bir anlamda kullanılmıştır?

- A) Bu tableti **bin** TL ye aldım.
B) Babam eve **bin** tane ceviz aldı.
C) Kardeşim bisiklete **bindi**.

okul	soru
cevap	mektep
sual	yanıt

15. Yukarıdaki kelimeler **eş anlamlılarıyla** okla eşleştirilirse okların şekilleri nasıl olur?



ADI SOYADI:.....

MATEMATİK

352+226

1. Ali yukarıdaki sayıları en yakın onluğa yuvarlayarak tahmin ediyor. **Buna göre Ali'nin bulduğu sonuç aşağıdakilerden hangisidir?**

- A. 590
B. 580
C. 570

2. Aşağıda verilen sıralamalardan hangisi **doğrudur?**

- A) 234 > 146 > 245
B) 243 < 265 < 324
C) 654 > 652 > 756

3. Yandaki toplama işlemine göre verilmeyen sayı aşağıdakilerden hangisidir?

- A. 132
B. 202
C. 233

464

203

+

869

4. Aşağıdaki işlemlerden hangisinin **toplamı çift sayıdır?**

- A) 494 + 422 =
B) 391 + 218 =
C) 286 + 321 =

5.



Yukarıda Romen rakamlarıyla verilen sayı örüntüsünü bir adım daha ilerletilirse sondaki kutuya hangi sayı gelir?

- A) XI B) XII C) XX

6. **(123+52)+55 = (52+55)+ A**

İşleminde **A** yerine aşağıdaki sayılardan hangisi gelmelidir?

- A. 123 B. 52 C. 55

32 – 40 – 48 – 56 – ★ – 72 – 80
18 – 24 – ▲ – 36 – 42 – 48 – 54
36 – 45 – 54 – 63 – 72 – 81 – ●

7. Yukarıdaki sayı örüntülerinde sembollerin yerine gelmesi gereken sayıların toplamı kaçtır?

- A. 184
B. 200
C. 240

8.

9-0-1

Yukarıdaki rakamlarla yazılabilecek üç basamaklı en küçük tek sayı aşağıdakilerden hangisidir?

- A. 091
B. 109
C. 901

9. Boş bir depoya önce 358 litre sonra 414 litre su konuluyor. Buna göre depodaki su miktarı tahmini kaç litre oluyor?

- A. 470
B. 740
C. 770

10. Aşağıdaki toplama işlemlerinden hangisinin sonucu farklıdır?

- A. 501 B. 354 c: 353

+328

+ 224

+225

11. **886** Yandaki sayının tekrar eden rakamlarının basamak değerleri toplamı kaçtır?

- A.880
B.22
C.16

12. **(70+200)+5 =**
işleminin sonucu kaçtır?

- A-270
B-725
C-275

13. **"909"** sayısının okunuşu hangisidir?

- A) dokuz yüz doksan
B) doksan dokuz
C) dokuz yüz dokuz

14.) I) Üç basamaklı en küçük tek sayı 101'dir.
II) İki basamaklı en büyük çift sayı 99'dur.
III) Bir basamaklı en büyük çift sayı 9'dur.

Yukarıdaki ifadelerden hangileri doğrudur?

- A) I, II, III B) II, III C) I


15.Yanıdaki toplama işleminin gerçek sonucu ile tahmini sonuç arasındaki fark kaçtır?

- A.1
B.3
C.5

$$\begin{array}{r} 446 \\ +321 \\ \hline \end{array}$$

SOYADI:.....

HAYAT BİLGİSİ



1. Yukarıdaki meslekler çalışma alanlarına göre sıralandığında doğru sıralama nasıl olmalıdır?

- A. Eğitim – Sağlık –Güvenlik
B. Güvenlik – Eğitim – Sağlık
C. Sağlık – Güvenlik – Eğitim

2. Okul tuvaletlerinin çeşmesini sürekli açık bırakan ve defterinin yapraklarını yırtıp boşa harcayan Dilara için aşağıdakilerden hangisini söyleyebiliriz?

- A)Dilara tutumlu bir çocuktur.
B)Kaynakları boşa harcayan, tutumsuz çocuktur.
C)Son derece düzenli bir çocuktur.

3.Aşağıdakilerden hangisi okuldaki sosyal etkinliklerden biridir?

- A.halk oyunları kursu B.yüzme kursu
C.aşçılık kursu



4.Yukarıdaki krokiye göre oyun parkı, Ali'nin evinin neresindedir?

- A. Kuzeyinde
B. Batısında
C. Güneyinde

"Grup çalışmalarında başarıyı sağlamak için"

5. Yukarıdaki noktalı yere aşağıdaki-lerden hangisini yazabiliriz?

- A. Çalışma planına uyarım.
B. En kolay işleri seçerim.
C. Sadece kendi düşüncelerimi değerli görürüm.

Gizem, basketbol oynamayı çok istiyordu. Fakat arkadaşları kadar başarılı olamayacağını düşünüyordu.

6.Gizem, bu konuda ne yapmalı?

- A) Basketbol oynamayı bırakmalı.
B) Arkadaşları ile konuşup yardım istemeli ve çalışarak eksikliğini gidermeli.
C) Futbolda şansını denemeli.

7.Aşağıdaki öğrencilerden hangisi arkadaşları tarafından sevilir?

- A) Verilen görevi eksik yaparım.
B) Oyun oynarken adil davranırım.
C) Maçta, her zaman golü kendim atmak isterim.

8.Aşağıdaki yargılardan hangisi doğrudur?

- A-Herkesin yeteneği aynıdır.
B- Olumsuz davranışlar bize arkadaş kazandırır.
C- Zayıf yönlerimizi de güçlendirmeliyiz.

9....I.Yardımlaşma ve dayanışma faaliyetleri ile ihtiyaç sahiplerine destek oluruz.

....II.Kimsenin yardıma ihtiyacı yoktur.

....III.Bir gün bizim de yardıma ihtiyacımız olabilir.

Yukarıdaki bilgilerden hangileri doğrudur?

- A) I-II B) I-III C) I-II-III

10. Aşağıdaki atasözlerinden hangisi dayanışmayla ilgili değildir?

- A. Ağaç yaşken eğilir.
B. Bir elin nesi var iki elin sesi var.
C. Yalnız taştan duvar olmaz.

ADI SOYADI:.....

FEN BİLİMLERİ

1. Dünya'mızın taş, toprak ve kaya gibi maddelerden oluşan katmanının adı aşağıdakilerden hangisidir?

- A) Su katmanı
B) Ateş küre(magma)
C) yer kabuğu


2. Duyu organlarımız sayesinde çevremizdeki nesnelerin;

I. Renk II. Ses III. Koku IV. Tat

gibi özelliklerinden hangilerini algılayabiliriz?

- A) I ve II B) II ve III C) I-II-III ve IV

3. Aşağıdaki bilgilerden hangisi yanlıştır?



4. Kırmızı ışığı gören sürücünün aracıyla yaptığı hareket aşağıdakilerden hangisidir?

- A. Hızlanma B. Yavaşlama C. Sallanma

5. Burnu tıkalı olan İrmak için hangisi söylenebilir?

- A. Hiç nefes alamaz.
B. Yediği yemeğin tadını alamaz.
C. Uzağı göremez.

Bisikletin tekerleği	Salıncak
Teneffüse çıkan öğrenciler	Yuvarlanan top
Rüzgârgülü	Ağaçtan düşen elma

6. Yukarıdaki cisimlerden kaç tanesi dönme hareketi yapar?

- A. 3 B. 5 C. 6

7. Kuvvetli ışığa doğrudan bakmak sağlığınıza zarar verir.

Yukarıdaki ifadede noktalı yere aşağıdakilerden hangisi gelmelidir?

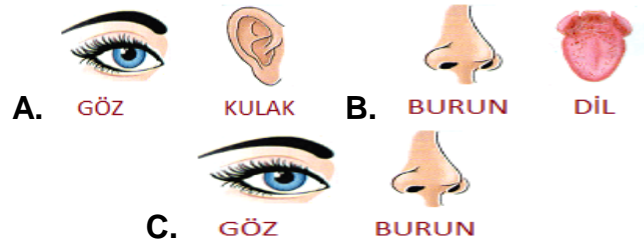
- A. Göz B. Deri C. Dil

8. Hangi seçenekteki ifade yanlıştır?

- A. Düz yolda yuvarlanan top, dönme hareketi yapar.
B. Ağaçtan düşen elma, hızlanma hareketi yapar.
C. Duvar saatinin sarkacı, yavaşlama hareketi yapar.

“Kerim bahçeye çıkınca her yerin çok güzel koktuğunu fark etti. Biraz dikkat edince kokunun kırmızı güllerden geldiğini anladı.”

9. Kerim burada hangi duyu organlarını kullanmıştır?



- A. GÖZ B. BURUN C. GÖZ D. BURUN



10. Yukarıdaki görselde çocukların ipe uyguladığı kuvvet aşağıdakilerden hangisidir?

- A. İtme B. Çekme C. Dönme