

İSMAİL HAZAR İLKOKULU

3-K SINIFI

Sevgili Öğrencim,

Bu sınav kitapçığında 12 Matematik, 12 Türkçe, 10 Hayat Bilgisi, 10 Fen Bilimleri ve 6 İngilizce olmak üzere toplam 50 soru bulunmaktadır.

Soruları çok dikkatle okuyarak cevaplamayı ve cevapları optik formlara kodlamayı sakın unutma. Sınav bittikten sonra cevaplarını mutlaka kontrol et.

Başarılar diliyorum...
Mehmet BAŞIBÜYÜK

ADI SOYADI:

MEHMET BAŞIBÜYÜK
MB

.....
Bir çiftçinin üç oğlu varmış. Oğulları birbirleriyle hiç geçi-
nemezlermiş. Hep kavga ederlermiş. Çiftçi, bu duruma çok üzü-
lürmüş ve oğullarının bu huyunu değiştirmek için çok uğraşmış.
Fakat başarılı olamamış. "Sözle olmuyor, en iyisi bir örnekle bun-
ları akıllandırayım" demiş.

Çiftçi, oğullarını yanına çağırmış. Bir yığın çubuk getirmele-
rini söylemiş. Çocuklar, gidip hemen çubukları getirmişler. Çiftçi
çubukları almış, birbirine bağlamış. Oğullarına: "Haydi, bunları
kırın." demiş.

Çocuklar uğraşmışlar uğraşmışlar bir türlü çubukları kırama-
mışlar. Daha sonra çiftçi bağladığı ipi açmış. Çubukları oğullarına
dağıtmış. Çocuklar da çubukları kolayca kırmışlar.

Çiftçi:

-Görüyorsunuz ya çocuklarım! Siz de birlik olursanız düş-
manlarınız size bir şey yapamaz. Ama birbirinizle kavga ederse-
niz, karşı koyamaz yenilirsiniz!" demiş.

(İlk 3 soruyu metne göre cevaplayalım.)

1. Çiftçi neden çok üzülürmüş?

- A) Oğulları yanında olmadığı için.
- B) Oğulları birbirleriyle geçinemedikleri için.
- C) Çok fakir oldukları için.

2. Bu hikayenin başlığı hangisi olabilir?

- A) DOSTLUK
- B) AİLENİN ÖNEMİ
- C) ÇİFTÇİ ve OĞULLARI

3. Bu hikayenin **ana fikri** aşağıdaki atasözlerinden hangisiyle ilgilidir?

- A) Birlikten kuvvet duyar.
- B) Sakla samanı gelir zamanı.
- C) Dost kara günde belli olur.

4. Aşağıdaki cümlelerin hangisinde "çay" kelimesi diğerlerinden farklı bir anlamda kullanılmıştır?

- A) Annem çayına 3 şeker atıyor.
- B) Kuzenimle çayda balık tutmaya gittik.
- C) Kardeşim çayı masaya döktü.

5. Aşağıdaki sözcük gruplarındaki sözcükler sözlük sırasına göre dizilmiştir. Hangi şıktaki sözcükler yanlış sıralanmıştır?

- A) oy-oyun-oyuncak
- B) karanlık-karton-kartal
- C) kayık-kaymak-kaynak

6. Aşağıda verilen sözcüklerden hangisi **büyük ünlü uyumuna uymaz**?

- A) haber
- B) hatıra
- C) sinek

7. "Sık" sözcüğünün **zıt anlamlısı** aşağıdaki cümlelerden hangisinde kullanılmıştır?

- A) Seyrek ağaçların arasından geçerek yürüdük.
- B) Çok geniş salonlu bir ev almışlardı.
- C) Burak sıkışık trafikte zorla ilerledi.

8. Aşağıdaki cümlelerden hangisinde **yazım yanlışı yapılmıştır**?

- A) Duru teyze pazardan dönüyordu.
- B) Ayaz Bey toplantıya yetişmek için aceleyle İstanbul'a gitti.
- C) Dilek abla Cumartesi günü anıtkabir'e gidecekmi?

O gülerse çağlayanım,
O ağlarsa ağlayanım,
Ona gönül bağlayanım;
Melek annem, güzel annem.

İyi, doğru sözler onda,
Şefkat dolu gözler onda,
Sevgi, ışık var yolunda,
Melek annem, güzel annem.

9. Yukarıdaki şiirin **ana duygusu** aşağıdakilerden hangisidir?

- A) Aile sevgisi
- B) Anne sevgisi
- C) Baba sevgisi

10. "Okulumuzda yoksul insanlara yardım için bir proje başlattık."
Cümlesinde altı çizili sözcüğün yerine hangi kelimeyi kullanırsak cümlenin anlamı değişmez?

- A) ihtiyar
- B) fakir
- C) zengin

11. "Bugün gözlükçüden yeni bir gözlük aldım"
Cümlesinde altı çizili sözcükle ilgili verilen bilgilerden hangisi yanlıştır?

- A) Türemiş sözcüktür.
- B) İsmi ayrılma hâli (-den) eki almıştır.
- C) Birleşik kelimedir.

12. Aşağıdaki cümlelerden hangisinde topluluk ismi kullanılmıştır?

- A) Küçük sincap ormanda yaşıyordu.
- B) Kediler uyumayı çok severler.
- C) Küçük balık dereye yüzüyor.

Türkçe testi bitti. Matematik testine geçebilirsiniz.

1. "465" sayısının **birler** basamağındaki rakamla **onlar** basamağındaki rakamın basamak değerlerinin çarpımı aşağıdakilerden hangisidir?

A) 300

B) 30

C) 200

2. Eylül 12 yaşındadır. Eylül' ün dedesinin yaşı, Eylül'ün yaşının **7 katından 15 eksik** olduğuna göre Eylül ve dedesinin yaşlarının toplamı kaçtır?

A) 59

B) 91

C) 81

3.
$$\begin{array}{r} 454 \\ - 187 \\ \hline \end{array}$$
 Gerçek Sonuç

$$\begin{array}{r} \boxed{} \\ \boxed{} \\ \hline \end{array}$$
 Tahmini Sonuç

Bir işlemin sonucu tahmin edileceği zaman sayılar onluk yuvarlanarak işlem yapılır.

Yukarıda verilen çıkarma işleminin gerçek sonucuyla tahmin sonucunun arasındaki fark kaçtır?

A) 9

B) 7

C) 11

4. Üç basamaklı, rakamları farklı, **en büyük tek sayı** ile üç basamaklı, rakamları farklı, **en küçük çift sayının farkı** kaçtır?

A) 899

B) 885

C) 900

5. Ali **X** yaşındadır. Ablası Ali'den **V** yaş **büyük** olduğuna göre Ali'nin ablası kaç yaşındadır?

A) XIII

B) XX

C) XV

6. Aşağıdaki sayılardan hangisi en yakın yüzlüğe yuvarlandığında 800 olur?

A) 740

B) 869

C) 835

7.
$$\begin{array}{r} 395 \\ + ??? \\ \hline 800 \end{array}$$

Yandaki toplama işleminde verilmeyen sayı aşağıdakilerden hangisidir?

A) 405

B) 515

C) 425

8. **483, 357, 470, 399**

Yukarıdaki sayılardan kaç tanesi $350 < \dots < 480$ sıralamasındaki noktalı yere yazılabilir?

A) 3

B) 2

C) 4

9. Bir okulda 396 tane erkek öğrenci ve erkeklerden 98 fazla kız öğrenci var. Buna göre bu okulda toplam kaç öğrenci var?

A) 790

B) 890

C) 494

10. Elif 28'den başlayıp 7'şer yüze kadar sayarken aşağıdaki sayılardan hangisini söyler?

A) 54

B) 56

C) 70

11.
$$\begin{array}{r} 965 \\ - ??? \\ \hline 386 \end{array}$$

Yandaki çıkarma işleminde çıkan sayı aşağıdakilerden hangisidir?

A) 596

B) 497

C) 579

12.
$$280+190$$

Yukarıda verilen tahmin işlemi aşağıdaki işlemlerden hangisi olabilir?

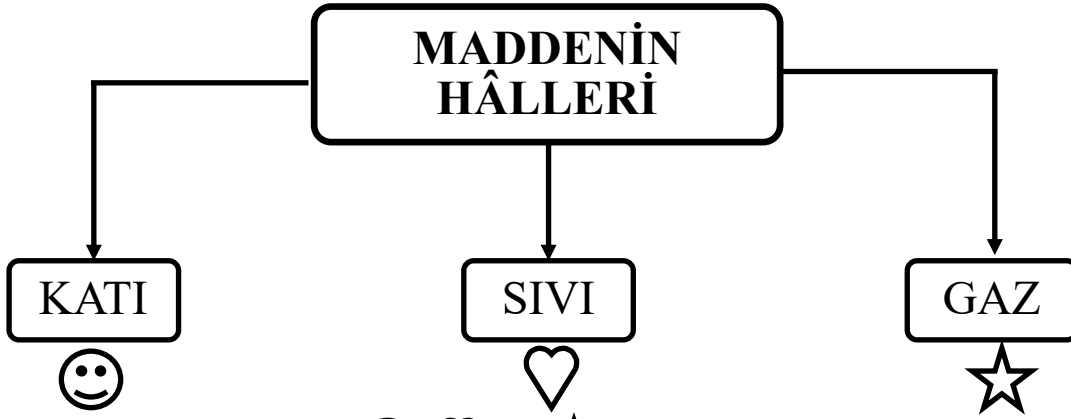
A) $291+195$

B) $277+191$

C) $272+198$

Matematik testi bitti. Fen Bilimleri testine geçebilirsin.

1.



Yukarıdaki şemada ☺, ♡ ve ☆ sembolleri ile gösterilen yerlere hangi maddeler örnek olarak getirilebilir?

- | | | |
|------------|------------|------------|
| ☺
----- | ♡
----- | ☆
----- |
| A) Taş | Süt | Buz |
| B) Su | Buz | Doğal gaz |
| C) Tahta | Limonata | Hava |

2. Aşağıdaki ifadelerden hangisi yanlıştır?

- A) Sıvı maddeler bulundukları kabın şeklini alır.
- B) Gaz maddeler bulundukları ortamın tamamına yayılırlar.
- C) Katı maddelerin belli bir şekli yoktur.

3. Evde temizlik amacıyla kullanılan çamaşır suyunun saklanması ile ilgili olarak verilen bilgilerden hangisi yanlıştır?

- A) Mutfakta saklanmalıdır.
- B) Çocukların ulaşamayacakları yerlerde saklanmalıdır.
- C) Diğer temizlik maddeleri ile birlikte kapalı bir dolapta saklanmalıdır.

4. "İnsanlar pencerelerde camı, güneş ışığından daha iyi faydalanmak ve dışarıyı görebilmek için kullanmışlardır."

Yukarıdaki ifadeye göre insanlar camın hangi özelliğinden faydalanmıştır?

- A) Sertlik
- B) Saydamlık
- C) Kırılma



5. Aşağıdaki maddelerden hangisini **koku alma** duyumuzla ayırta edebiliriz?

- A) Şeker
- B) Kolonya
- C) Su

Kuvvet uygulandığında şekli değişen ama kuvvet ortadan kalkınca eski haline dönen maddelere denir.



6.

Emirhan'ın söylediği cümlede boş bırakılan yere aşağıdakilerden hangisi gelmelidir?

- A) Esnek madde
- B) Sert madde
- C) Saydam madde

7. Duran bir cismi hareket ettirebilen, hareket eden bir cismi durdurabilen, hareket hızını ya da hareket yönünü değiştirebilen etkiye.....denir



Duru

Duru'nun söylediği cümlede boş bırakılan yere aşağıdakilerden hangisi gelmelidir?

- A) Hareket B) Kuvvet C) Yavaşlama

8. I- Duraktan kalkan otobüs.
II- Kalkışa geçen uçak.
III- Yarışa başlayan yarış arabaları.

Yukarıda verilen ifadelerden kaç tanesi hızlanma hareketine örnektir?

- A) 1 B) 2 C) 3

9. "Kaleci, penaltı vuruşunda kaleye giden topu parmaklarının ucuyla kornere göndermeyi başardı."

Yukarıdaki cümleye göre **topun hareketi** için hangisi söylenbilir?

- A) Kalecinin müdahalesiyle top durmuştur
- B) Kalecinin müdahalesiyle top yön değiştirme hareketi yapmıştır.
- C) Kalecinin müdahalesiyle top hızlanma hareketi yapmıştır.

10.

Dünya modeli üzerinde en çok **mavi** rengi görürüz.



Kadir'in söylediği cümle aşağıdakilerden hangisiyle **ilgilidir**?

- A) Dünya üzerinde su küre taş küreden daha fazla yer kaplar.
- B) Dünya üzerinde taş küre su küreden daha fazla yer kaplar.
- C) Dünya'nın en ağır katmanı çekirdektir.

Fen Bilimleri testi bitti. Hayat Bilgisi testine geçebilirsin.

1. Alışveriş listesi hazırlarken aşağıdakilerden hangisine **dikkat etmeliyiz?**

- A) Alışveriş listemizde önceliği ihtiyaçlarımıza vermeliyiz.
- B) Alışveriş listemizde önceliği isteklerimize vermeliyiz.
- C) Alışveriş listemizde reklamlarda gördüğümüz ürünlere öncelik vermeliyiz.

2.

Alışveriş sonrasında mutlaka fiş veya fatura alırım.



Defne

Alışverişe gitmeden önce alışveriş listesi hazırlarım.



Efe

Yukarıdaki öğrencilerden hangisi veya hangileri bilinçli tüketicilerin yapması gereken şekilde **davranmıştır?**

- A) Defne
- B) Efe
- C) Defne ve Efe

3. "Kişisel bakımımızı yaparken kaynakları kullanmalıyız." Yukarıdaki cümlede boş bırakılan yere aşağıdakilerden hangisi **getirilemez?**

- A) tasarruflu
- B) çok
- C) dikkatli

Defterimin sayfalarını karalamam veya boş yere ko-
parmam.



Beren

Kalemimi kay-
bettığım için sık
sık yeni kalem
alırım.



Ömer

Okul çantamı
eskimemesi için
özenli kullanırım.



Medine

4. Yukarıdaki öğrencilerden hangileri **aile bütçesine yardımcı olmaktadır?**

- A) Ömer ve Beren
- B) Beren ve Medine
- C) Ömer ve Medine

5. Plan yapmakla ilgili aşağıda verilen ifadelerden hangisi **yanlıştır?**

- A) Plan yapmak başarımızı arttırır.
- B) Plan yaparken oyun, dinlenme ve uyku için de vakit ayırmalıyız.
- C) Plan yapmak zaman kaybıdır.

6. "Ev işlerinde ailemize yardımcı olmak için **yaşımıza uygun** işle-
ri yapabiliriz." diyen bir öğrencinin aşağıdakilerden hangisini
yapması **beklenemez?**

- A) Ütü yapmak
- B) Sofrayı kurmaya yardım etmek
- C) Kirli kıyafetlerini sepete atmak

7. Aşağıda kroki ile ilgili verilen bilgilerden hangisi yanlıştır?

- A) Kroki çizerken ölçü kullanılır.
- B) Krokiler kuşbakışı, kaba taslak çizimlerdir.
- C) Krokiler bir yeri tarif ederken kullanılabilir.

8. İrem: Odadan çıkarken, kimse yoksa, ışıkları kapatırım.

Dua: İzleyen yoksa televizyonu kapatırım.

Batu: Okulda açık musluk görürsem kapatırım.

Yukarıdaki öğrencilerden hangisi veya hangileri kaynakları kullanırken bilinçli davranmıştır diyebiliriz?

- A) İrem
- B) Dua ve Batu
- C) İrem, Dua ve Batu

9. Aşağıdakilerden hangisi **iyi bir komşuda** olması gereken özelliklerden değildir?

- A) Yardımseverlik
- B) Bencillik
- C) Saygı

10. Aşağıdakilerden hangisi dedemizin çocukken oynadığı oyuncaıklardan olamaz?

- A) Uzaktan kumandalı araba
- B) Topaç
- C) Misket

Hayat Bilgisi testi bitti. İngilizce testine geçebilirsin.

1.



Irmak



Reyhan




Yusuf

Görsellere göre yanlış olan ifadeyi işaretleyiniz?

- A) Irmak can run fast.
- B) Yusuf can sing.
- C) Reyhan can swim.

2.



- A) He is short and fat.
- B) He is tall and slim.
- C) He is tall and fat.

3. It is a fish. It can

Yandaki resme göre yukarıdaki cümlenin sonuna hangi kelime gelmelidir?



- A) fly
- B) swim
- C) walk

4.

Resme göre cümlede boş bırakılan yere hangisi gelmelidir?

- A) run fast
- B) climb trees
- C) carry boxes



5.




My grandmother is

Resme göre cümlede boş bırakılan yere hangisi gelmelidir?

- A) old
- B) young
- C) short

6.



Yukarıdaki konuşmada boş bırakılan yere aşağıdakilerden hangisi **gelmelidir**?

- A) ride a bike.
- B) play chess.
- C) eat pizza.

Sınav bitti. Cevaplarını kontrol etmeyi unutma.

MEHMET BAŞIBÜYÜK

MB

İsmail Hazar İlkokulu 3-K Sınıf,

İsmail Hazar İlkokulu 3-K Sınıf,

	Doğru	Yanlış
TÜRKÇE		
MATEMATİK		
FEN BİLİMLERİ		
HAYAT BİLGİSİ		
İNGİLİZCE		