

ADI SOYADI:.....

TÜRKÇE

Ömer' in ailesi çok fakir bir aileydi. Ömer' in babası ona bir pantolon almak için söz vermişti. Ama pantolonu ne zaman alacağını bilmiyordu. Ömer hep babasının ona alacağı pantolonu hayal ediyordu. Acaba ne renk olacaktı. Ömer mavi renkli olmasını istiyordu. Bir gün derste öğretmeni bir hayalinizin resmini yapın demişti. Ömer de mavi renkli bir pantolon resmi yapmıştı. Pantolonun her ayrıntısını ayrı ayrı çizmişti. Sanki pantolon gerçek gibiydi. Babası tesadüfen bu resmi görmüştü ve Ömer' e pantolon almaya gitti. Babası Ömer' e mavi renkli bir pantolon aldı. Ömer de çok mutlu oldu.

(1 - 2 - 3 . soruları yukarıdaki metne göre cevaplayınız.)

1.)Ömer' in babası neden mavi renkli pantolon aldı?

- A) En sevdiği renk olduğu için.
- B) En ucuzu olduğu için.
- C) Ömer' in çizdiği resmi gördüğü için.

2. Ömer neden pantolon resmi çizdi?

- A) Öğretmeni hayalinizi çizsin dediği için.
- B) Resim yapmayı sevdiği için.
- C) Babası istediği için.

3.) Ömer' in babası için hangi ifade kullanılabilir?

- A) Çok sinirli birisidir.
- B) Çocuğunun beğenilerini önemser.
- C) Çok zengin birisidir.

4. Hangi cümlede zıt anlamlı sözcükler beraber kullanılmamıştır?

- A-Eski püskü bir elbise ile eve geldi.
- B. Sabah akşam oyun oynayıp duruyordu.
- C. Eski defterini kaldırıp yenisini çıkardı.

elektirik	sovuk
kıraliçe	sporcu

5.) Yukarıdaki kelimelerden kaç tanesi **doğru** yazılmıştır?

- A) 1
- B) 2
- C) 3

6.Aşağıdaki kelime çiftlerinden hangisi anlam ilişkisi bakımından diğerlerinden farklıdır?

- A.Vatan-yurt
- B. İleri-geri
- C. sabah akşam



Aşağıdaki cümlelerin hangisinde **tüm kelimeler** büyük ünlü uyumuna uygun yazılmıştır?_

7.

- A.Babama hediye görürnce,sevindi.
- B.Batman'da annemlere gittim.
- C.Kestane sobada güzel pişti.









8. Cem, üstünde sesteş olmayan sözcük yazılı topu potaya atacaktır.Buna göre hangi topu atmalıdır?

- A. yaş
- B. ben
- C. kış

- 9.  **fakir**  **ucuz**
 **zengin**  **yoksul**

Yukarıdaki hangi öğrencilerin söylediği sözcükler **eş anlamlı sözcüklerdir**?

- A.  
- B.  
- C.  

İlkbaharda insanın içi sevinçle dolar. Yemyeşil kırlar, öten kuşlar, ısınan hava...Anlarsın baharın geldiğini. Parklar çocuk çığlıklarıyla dolar taşar, ağaçlar meyve vermek için hazırlanır.

10.Sümeyye'nin paragrafında aşağıdakilerden hangisine değnilmemiştir?

- A. baharın insanı mutlu ettiğine
- B. baharın habercilerine
- C. baharın kıştan sonra geldiğine



11.) Yukarıda verilen kelimeler sözlük sırasına göre sıralandığında sıralama nasıl olur ?

- A-Kavun-karpuz-kivi-kiraz
- B-karpuz-kavun-kiraz-kivi
- C-kiraz-kivi-karpuz-kavun



Aşağıdaki cümlelerin hangisinde zıt anlamlı sözcükler beraber kullanılmamıştır?

- A. Gece gündüz ailesi için çalışıyordu.
B. Bu sorunun cevabını kimse bilmiyor mu?
C. Doğru dürüst bir işi bile yoktu.

13. 'pırasa' sözcüğündeki ünsüz (sessiz) harfler hangileridir?

- A) ı, a, a B) p, r, s C) ı, a, s

14. Aşağıdaki kelimelerden hangisinde hece ayrımı yanlış yapılmıştır?

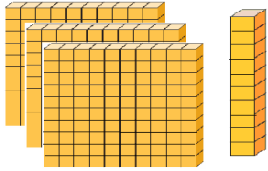
- A. ge- li- yo- rum
B. Oy - nu - yo - rum
C. Sev- i -yo - rum

15. " Kerem , Umut pazara gitti." cümlesinde kaç kelime vardır?

- A. 3 B. 4 C. 5

ADI SOYADI:.....

MATEMATİK



1-Yandaki taban bloklarla verilen sayıyı **en yakın onluğa yuvarlarsak** yeni sayı kaç olur?

- A) 300
B) 310
C) 320

3, 5, 6

2-Yukarıdaki rakamlarla yazılabilecek **en büyük üç basamaklı çift sayı** kaçtır?

- A) 563
B) 653
C) 536

3- **120 < < 420**

Sıralamasında noktalı yere yazılabilecek **en büyük** ve **en küçük** sayıların **toplamı** kaçtır?

- A)440
B)540
C)840

4. **V yüzlük + IV onluk + III birlik** sayısı ile **256**

sayısının **toplamı** aşağıdakilerden hangisidir?

- A-799
B-820
C-720

5.) " 6 – 14 – 22 – 32 – 38 – 42" örüntüde **kuralı bozan** sayı hangisidir?

- A) 22 B) 32 C) 38

6.) " 326 – 325 – 329 – 327" sayılarının **büyükten küçüğe doğru** sembolle doğru sıralanışı aşağıdakilerden hangisidir?

- A) 329 > 327 > 326 > 325
B) 325 < 326 < 327 < 329
C) 325 > 326 > 327 > 329




7. **441** sayısının çözümlemesi aşağıdakilerden hangisidir?

- A) 4 yüzlük+4 onluk+1 birlik
B) 4 yüzlük+4 onluk+4 birlik
C) 4 yüzlük+1 onluk+4 birlik


8.) **0, 4, 1** rakamlarını kullanarak yazılabilecek **en küçük ve en büyük doğal sayının toplamı** kaçtır?

- A.514
B.505
C.550

9. Aşağıdaki öğrencilerden hangisinin yapmış olduğu karşılaştırma **yanlıştır**?

- A)  326 < 632
B)  538 > 438
C)  473 > 743

10-Aşağıdaki örüntünün **6.adımında** kaç tane nokta bulunmalıdır?



1.adım 2.adım 3.adım 4.adım 5.adım 6.adım

- A) 27 nokta B) 30 nokta C) 25 nokta

11-Aşağıdaki sayılardan hangisini en yakın olduğu **yüzlüğe** yuvarladığımızda sonuç diğerlerinden farklı olur ?

- A) 641
- B) 661
- C) 601

12--) 4 – 10 – 16 – 22 – – 35

Yukarıdaki örüntüye göre yerine aşağıdaki sayılardan hangisi gelmelidir?

- A) 28
- B) 26
- C) 30

13.Bir toplama işleminde birinci toplanan 375 ikinci toplanan 25 ise toplam kaç olur?

- A-400
- B-425
- C-410

14. **8,3,1** rakamlarıyla yazılabilecek üç basamaklı en küçük sayının sayı değerleri toplamı kaçtır?

- A.12
- B-15
- C-14

15. $(321+442)+105=$ işleminin sonucu kaçtır?

- A-766
- B-868
- C-763

SOYADI:.....

HAYAT BİLGİSİ

1- Hangisi nezaketli bir insanın özelliği değildir?

- A) Konuşurken karşısındakinin sözü bitene kadar bekler.
- B) Arkadaşlarının eşyalarını izinsiz alıp kullanmaz.
- C) Üzgün ve mutsuz olan arkadaşlarını görmezden gelir.

2-Aşağıdakilerden hangisi okulda yürütülen bir sosyal yardım faaliyeti olamaz?

- A)Okuduğumuz kitapların bir kısmını kitabı olmayan okullara göndermek
- B)Fazla oyuncaklarımızı anasınıfına vermek
- C) Okula yeni gelen arkadaşımız için parti düzenlemek

3. Aşağıdakilerden hangisi yardımlaşma ve dayanışmanın bireye sağladığı faydalardan biri değildir?

- A) Toplumdaki olaylara karşı daha duyarlı olmasını sağlar.
- B) Bireyin sosyalleşmesini sağlar.
- C) Bireyin sadece kendini düşünmesi gerektiğini öğretir.

4.Aşağıdakilerden hangisi yardımlaşma ve dayanışmayla ilgili bir atasözüdür?

- A) Bir elin nesi var iki elin sesi var.
- B)Ayağını yorganına göre uzat.
- C)Sakla samanı gelir zamanı.

- 5. 1.Okumayı öğreniriz.
- 2.Yeni bilgiler ediniriz.
- 3.Yeni arkadaşlar ediniriz.

Yukarıdakilerden hangileri okulun bize kazandırdıkları ile ilgilidir.

- A) 1-2
- B) 1-3
- C) 1-2-3

6. Sınıfımızda ihtiyaç sahibi bir arkadaşımız için yapabileceğimiz en iyi çalışma hangisidir?

- A) Kitap hediye etmek
- B) İhtiyaçlarını öğrenerek yardım kampanyası düzenlemek
- C) Onunla daha çok oyun oynamak



7.)Yukarıdaki krokiye göre Deniz Apartmanı nerededir?

- A) Devlet Hastanesinin karşısında.
- B) Eczanenin güneyindedir.
- C) Okulun doğusundadır.

8.)Mustafa öğretmen, sınıf başkanını seçerken hangi uygulamayı yaparsa demokratik davranmış olur?

- A) En çalışkanı başkan yaparsa
- B) Oylama yaparsa
- C) En güçlüyü başkan yaparsa

9. Kerem, okulun futbol takımına seçilmek istiyormuş. Kerem'in bu amacına ulaşması için aşağıdakilerden hangisini yapması gerekir?

- A) Futbol maçlarını seyretmek
- B) Ders saatlerinde izin alarak spor yapmak
- C) Planlı şekilde antrenman yapmak

10." Ayşe sıra arkadaşı olduğu için daha çok Kübra ile oynamakta, diğer arkadaşlarını oyunlarına pek katmamaktadır."

Bu durumda Ayşe için ne söylenebilir?

- A) Ayşe tarafı davranmaktadır.
- B) Ayşe iyi kalpli birisidir.
- C) Ayşe oyun oynamayı sevmeyen biridir.

ADI SOYADI:.....

FEN BİLİMLERİ



"Semra, parktaki güllere baktı. Eğilip bir tanesini kokladı. O sırada arkadaşı Ayşe ona seslendi: "Ne yapıyorsun orada, yoksa çiçeklere zarar mı veriyorsun?" dedi.

1.Yukarıdaki anlatımda Semra sırasıyla hangi duyu organlarını kullanmıştır?

- A) göz - burun – kulak
- B) dil - burun – göz
- C) göz – kulak - burun

2- Aşağıdakilerden hangisi Dünya'nın küreye benzediğini kanıtlamaz?

- A. Sürekli aynı yönde giden uçağın başladığı yere geri dönmesi
- B. Uzaktan gelen geminin önce dumanı sonra yelkeni en son gövdesinin görünmesi
- C. Dünya'dan bakan birinin Güneş'i yuvarlak görmesi.

3-Deri ile ilgili aşağıda verilen bilgilerden hangisi yanlıştır?

- A) Vücudumuzu sarar ve iç organlarımızı dış etkilerden korur.
- B)Dokunma duyu organımızdır.
- C) Cisimlerin tadını derimizle anlarız.

4- Duyu organlarımızla ilgili aşağıda verilenlerden hangisi yanlıştır?

- A) Beş tane duyu organımız vardır.
- B)Duyu organlarımız hayatımızı kolaylaştırır.
- C) Duyu organlarımızdan biri çalışırken diğeri çalışmaz.

5.) Hangisi göz sağlığımız için yapmamız gerekenlerden biridir?

- A) Bizim olmayan havlu ile yüzümüzü silmek.
- B) Başkasına ait olsa da gözlük kullanmak.
- C) Az veya fazla ışıktan gözümüzü korumak.

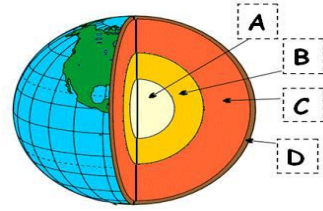


6.Bahçeden bir havlama sesi geliyordu. Pencereyi açıp baktım.

Kapının önünde yavru bir köpek duruyordu.

Bu olayda hangi duyu organları kullanılmıştır?

- A) Koklama - işitme
- B) işitme – görme
- C) Görme - dokunma



7.) Yukarıdaki Dünya' nın yapısını gösteren şekilde

A - B - C - D harfleri ile gösterilen yerlere hangi ifadeler gelmesi gerekir?

A-İç Çekirdek	A-Çekirdek	A-İç çekirdek
B-Dış çekirdek	B-Manto	B-Manto
C-Manto	C-Yer kabuğu	C-Yer kabuğu
D-Yer kabuğu	D-Su katmanı	D-Taş küre

A.

B.

C.

8) "Bu gün hava çok soğuk eldivenlerimi giyeyim."

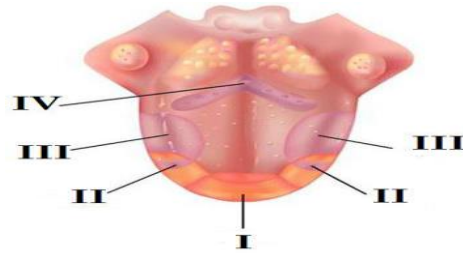
Yukarıdaki cümleyi kuran kişi havanın soğukluğunu hangi duyu organıyla anlamıştır?



A)

B)

C)



- I II III IV
- A) Tatlı Ekşi Tuzlu Acı
- B) Acı Tatlı Ekşi Tuzlu
- C) Tatlı Tuzlu Ekşi Acı

9.)Dilin tat alma bölümleri hangi seçenekte doğru verilmiştir?