

# 3. SINIFLAR

## DENEME SINAVI

Kitapık Tr:



Adı Soyadı : .....

Numarası : .....

Sınıfı / Şubesi : .....

Okulu : .....

İl / İle : .....

**Bu bölümde Türkçe dersinden 20 soru sorulmuştur. Bu soruları formda Türkçe bölümüne işaretlemelisin.**



### SEVİMLİ SİNCAPLAR

Çip ve Dak adındaki sincapların o gün çok işleri varmış. Kış için yuvalarına taşıdıkları cevizleri yerleştiriyorlarmış. Dak, cevizleri tek tek atıyor, Çip de onları ağaçtaki yuvaya yerleştiriyormuş.

“At!” “Tut!” diyerek, bütün gün çalışmışlar. Bu şekilde işlerini hemen bitirmişler ve dinlendikten sonrada gezip dolaşmışlar.

**(İlk 4 soruyu metne göre cevaplayınız.)**

**1) Okuduğumuz metnin kahramanları kimlerdir?**

- A) Çip ile kardeşi
- B) Sevimli kahramanlar
- C) Çip ve Dak

**2) Metnin kahramanları ne ile uğraşıyorlarmış?**

- A) Fındıkları yuvaya yerleştirmekle
- B) Oyun oynamakla
- C) Cevizleri yuvaya yerleştirmekle

**3) Metnin kahramanları hangi mevsime hazırlık yapıyorlar?**

A)



B)



C)



**4) Hangi atasözü metnin ana fikrini anlatmaktadır?**

- A) Bakarsan bağ, bakmazsan dağ olur.
- B) Sakla samanı gelir zamanı.
- C) Üzüm üzüme baka baka kararır.

**5)**

**AŞIK**



**AŞI**



**AŞÇI**



**Yukarıda verilen kelimeleri sözlük sırasına koyarsak sıralama nasıl olur?**

A)



B)















C)





6) Yukarıdaki kelimelerle **anamlı ve kurallı** bir cümle oluşturursak **sıralama nasıl olur?**

- A)    
- B)    
- C)    

7) Aşağıdaki kelimelerden hangisinin arasındaki anlam ilişkisi diğerlerinden farklıdır?

- A) farklı-değişik
- B) kuzey-güney
- C) kıta-dörtlük

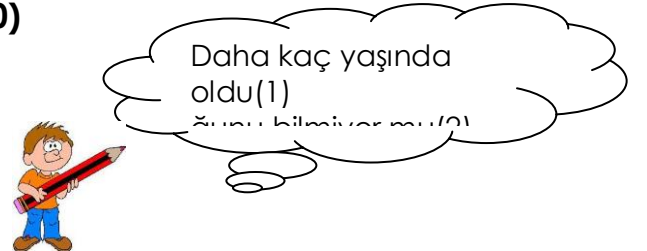
8) Hangi cümlenin **yazımı hatalıdır?**

- A)  **Ayşeler bize gelecek.**
- B)  **Kütahyalı arkadaşın var mı?**
- C)  **Trabzon'lu musun?**

9) Hangi çocuk **"kara"** kelimesini farklı bir anlamda kullanmıştır?

- A)  **Kara tahtaya adımlı yazdım.**
- B)  **Etrafı denizle çevrili olan kara parçasına ada denir.**
- C)  **Benim saçlarım kara değil, sarı.**

10)



**1 ve 2** numaralı yerlere sırasıyla hangi noktalama işaretleri gelmelidir?

- A) kısa çizgi-soru işareti
- B) kısa çizgi-nokta
- C) virgül - soru işareti

11) "sözcük-hekim-vazife-imla-kelime-konukdoktor-misafir-görev"

**Yukarıda hangikelimenin eş anlamlısı verilmemiştir?**

- A) vazife B) doktor C) imla

12) "Gideli birkaç gün oldu..... ben şimdiden dedemi çok özledim."

**Cümlesinde boş bırakılan yere hangisi yazılırsa uygun olmaz?**

- A) fakat B) için C) ama

13)



Göz



Gözlük

**"Göz kelimesine getirilen ek sayesinde yine gözle ilgili olan gözlük kelimesini türetiliyor."**

Buna benzer bir durum hangi kelimeler arasında da vardır?

- A) beş-beşik B) odun-odunluk C)kaş-kaşık

14) " Sınıfımızı, temiz, her, tutmalıyız, zaman "

**Sözcükleriyle düzgün bir tümce kurduğumuzda sondan ikinci sözcük hangisi olur?**

- A) temiz B) her C) tutmalıyız

15)Aşağıdaki cümlelerin hangisinde sebep sonuç ilişkisi vardır?

- A) Çiftçi gün boyunca tarlayı sürdü.  
B) Doktor, hasta çocuk için ilaç yazıyordu.  
C) İşçi kadınlar tezgâha daha da yaklaştılar.

16) Aşağıdaki cümlelerden hangisi olumsuz bir cümledir?

- A)Dolapta hiç çikolata yok.  
B)Sabah çok geç uyandım.  
C)Okula geç kaldım.

17) Hece sayısı en fazla olan tümce hangisidir?

- A) Bebek evin neşe kaynağıdır.  
B) Derslerime çok çalıştım  
C) Temiz ol, sağlıklı ol.

18)



Sıranın önü.

Sıranın arkası.

Yukarıda altı çizili kelimeler arasındaki ilişki hangi kelimeler arasında vardır?

- A) ev-hane  
B) konuşkan-suskun  
C) kara-siyah

A

A

A

A

A

A

- 19) I. Evimiz beyaza boyandı.  
II. Ailesinden uzakta yaşıyor.  
III. Şiirin birinci mısrası altı kelimedir.

Altı çizili kelimelerden hangisinin **eş anlamlısı yoktur?**

- A) beyaza B) ailesinden C) mısrası

- 20) "Sabahları kahvaltıda taze yumurta yerim."

Cümlesinde **varlığın durumunu** belirten **kelime** hangisidir?

- A) sabah B) kahvaltı C) taze

Türkçe bölümünü bitirdin.  
Cevaplarını forma doğru  
kodlayıp kodlamadığını kontrol  
et.

Matematik bölümüne geçebilirsin

Bu bölümde Hayat Bilgisi dersinden 20 soru sorulmuştur. Bu soruları formda Hayat Bilgisi bölümüne işaretlemelisin.

Bilgi	Değerlendirme
Her canlının kendi özelliklerine uygun farklı yuvası vardır.	
İnsanlar eski zamanlardan itibaren barınmak için evler	
Evler, insanları sadece soğuktan korur.	

- 1) Efe, tablodaki ifadeleri değerlendirirken doğru olanlar için gülen yüz sembolü, yanlış olanlar için üzgün yüz sembolü çizecektir. Buna göre, Efe aşağıdakilerden hangisinde verilen sembolleri kullanmalıdır?






- A) B) C)

- 2) Aşağıdaki hayvanlardan hangisi evde beslenen evcil hayvanlardan **değildir**?

- A) B) C)

3) "Ayşe, annesinin tüm uyarılarına rağmen gece geç yattığı için sabah okula geç kalmıştı. Ayrıca okula giderken birkaç okul eşyasını evde unutmuştu. "

**Öğretmeni Ayşe'ye bu durumla ilgili tavsiyede bulunmuştur. Öğretmeni Ahmet'e neler söylemiş olabilir?**

- A)  Yardımsever ve düzenli olmalısın!
- B)  Planlı ve düzenli olmalısın!
- C)  Dengeli ve düzenli beslenmelisin!

4)  "Tekerlekli sandalyesi ile yeni kayıt olduğu okuluna giden Mehmet'i yeni sınıf arkadaşları samimi, içten bir şekilde karşılamışlardır. Daha sonraları oynadıkları oyunlara Mehmet'i de dahil etmişler, ona oyunlarda yapabileceği sorumluluklar vermişlerdir."

**Bu anlatılanlara göre Mehmet'in yeni sınıf arkadaşları için söylenenlerden hangisi doğrudur?**

- A) Engellilere acıyan kişilerdir.
- B) Farklılıkların doğal olduğunu bilen kişilerdir.
- C) Sınıf olarak çok uslu ve paylaşımcıdır.

5) Güneş'in battığı yöne önümüzü dönersek **sol kolumuz** hangi yönü gösterir?



- A) Güneyi gösterir.
- A) Kuzeyi gösterir.
- B) Doğuyu gösterir.

6) Okula geliş gidişlerimizde kendimizin ve başkalarının güvenliği için trafik işaret ve levhalarını tanımalı ve onlara uygun hareket etmeliyiz.

**Aşağıdaki eşleştirmelerden hangisi doğrudur**

- A)  YAYA GİREMEZ!
- B)  OKUL GEÇİDİ
- C)  KOŞMAK YASAKTIR

7) Aşağıdaki öğrencilerden hangisi okul yaşamıyla ilgili **iyimser** bir düşünceye sahiptir?

- A)  Oyun bahçemizin küçüklüğü yüzünden teneffüslerde oynayamıyoruz.
- B)  Müzik dersi olduğunda okula gitmek istemiyorum.
- C)  Hafta sonu tatilinde okulumu ve arkadaşlarımı çok özlüyorum.





Babam, şehrimizin futbol takımının teknik



**Özlem**

Benim babam bankada çalışıyor.



**Ercan**

Benim babam müzisyendir. Çok güzel

8) Arkadaşlarımızdan hangisinin babası içinde bulunduğu **grubun lideridir?**

A) Elif B) Özlem C) Ercan

9) Her yıl 23 Nisan günü bayram yapmamızın **nedeni** aşağıdakilerden hangisidir?



A) Atatürk'ün Samsun'a çıkması.  
B) Türkiye Büyük Millet Meclisinin açılması.  
C) Kurtuluş Savaşı'nın sona ermesi.

10)



Ben Keloğlan. Dişlerimi fırçalarken suyu açık bırakmam. Harçlıklarımı

Keloğlan için hangisi **söylenemez?**

A) Kaynakları bilinçli kullanıyor.  
B) Cimrilik yapıyor.  
C) Tutumlu davranıyor.

11)



Bugün annemin doğum günü. Babamla birlikte annem için doğum günü partisi düzenliyoruz. Her şeyin çok güzel olmasını istiyorum.

Kayyu için aşağıdakilerden hangisi **söylenemez?**

A) Özel gün kutlamaları için plan yapıyor.  
B) Ailesiyle birlikte eğlenebiliyor.  
C) Evdeki her şeyin kendisine göre düzenlenmesini istiyor.

	Saç rengi	Göz rengi	Boyu
Emin	sarı	ela	uzun
Ali	siyah	siyah	kısa
Baran	sarı	mavi	uzun

12) Sınıf arkadaşlarımızdan benzer yanlarımız olduğu gibi farklı yanlarımızda vardır. **Yukarıda tabloya göre hangi öğrencilerin birbirine daha çok benzediğini söyleyebiliriz?**

A) Emin ile Ali benzemektedir.  
B) Ali ile Baran benzemektedir.  
C) Emin ile Baran benzemektedir.

13) Aşağıdakilerden hangisi okulumuzun tarihini araştırırken ulaşabileceğimiz bilgiler arasında **yer almaz?**



A) Okulun yapıldığı tarih  
B) Gelecek yıl okula kayıt yaptıracak öğrenci listesi.  
C) Bugüne kadar mezun olan öğrenci sayısı

A

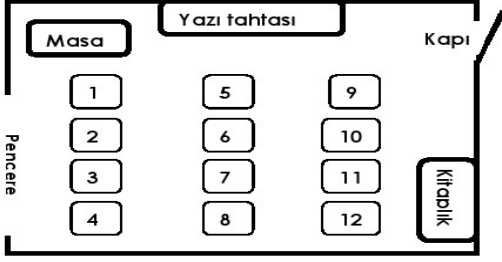
A

A

A

A

A



14) Zeynep, kitaplık tarafındaki baştan 3.sırada oturuyor.**Zeynep'in oturduğu sıra krodide kaç numara ile gösterilmiştir?**

- A)11 B)10 C)3

15) Ne oldu baba? Daha yeni gelmiştin.Nereye gidiyorsun?

Şehir merkezinde bir olay olmuş. Hemen oraya gidip ne olduğunu öğrenip halka bu olayın nedenini, sonuçlarını duyurmalıyım.



**Yukarıdaki konuşmaya göre Melek'in babası hangi meslek çalışanlarındandır?**

- A) Oyuncu B) Gazeteci C) Polis

16) Sabah kahvaltısında:

Peynir, zeytin, yumurta yiyip süt içiyorum.

Tost yiyip meyve suyu icivorum.

Sadece süt içiyorum.

Arkadaşlarımızdan hangisi **daha sağlıklı** beslenmektedir?

- A) B) C)

A

A

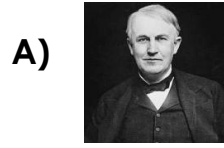
A

17) Kişisel bakım yaparken tutumlu olmak için aşağıdakilerden hangisini yapmak **uygun olmaz?**




- A) Boş yere elektriği açık bırakmamalıyız.  
B) Kişisel bakımımızı daha az yapmalıyız.  
C) Gereksiz su kullanımından kaçınmalıyız.

18) Şu anda evlerde kullandığımız **ampulü** icat eden bilim adamı kimdir?



Edison



Louis pasteur

C)



Graham Bell

19)



Okulumuzda fakir çocuklar için yardım kampanyası düzenleyeceğiz.

Yukarıdaki ifadeye göre Merve'nin hangi kulüp üyesi olduğu **söylenbilir?**

- A) Gezi ve Turizm Kulübü  
B) Bilinçli Tüketici Kulübü  
C) Sosyal Yardımlaşma, Dayanışma ve Kızılay Kulübü

A


A


A




20) Dört arkadaş kütüphaneye gitmek için **saat 11'de** buluşacaklardı. Ali, **10 dakika erken geldi**. Diğerlerinin düşüncesi aşağıda verilmiştir.

**Buna göre, hangisinin güvenilecek biri olduğu söylenebilir?**

A)  Acil işim çıktı. Hemen arayıp gelemeyeceğimi

B)  Aman! Yarım saat geç gitsem ne olacak?

C)  Canım gitmek istemiyor. Onlar yalnız gitsinler bana ne!

Hayat Bilgisi bölümünü bitirdin. Cevaplarını forma doğru kodlayıp kodlamadığını kontrol et.

Bu bölümde Matematik dersinden 20 soru sorulmuştur. Bu soruları formda Matematik bölümüne işaretlemelisin.


1) "7, 4, 0" sayıları ile oluşturulabilecek **üç basamaklı en büyük çift sayı** ile yine bu sayılarla oluşturulabilecek **üç basamaklı en küçük tek** sayının **farkı kaçtır?**

A) 740 B) 407 C) 333

2) **25'den büyük, 41'den küçük** çift doğal sayıların **toplamı kaçtır?**

A) 340 B) 264 C) 134

3) Ahmetlerin kenar uzunlukları **31 m, 27 m ve 42 m** olan üçgen şeklinde bir bahçesi var. Bahçenin etrafını **5** sıra telle çevirmek istiyorlar. Kaç metre tel almaları gerekir?



**Atom Karınca'ya sorunun cevabını söyler misiniz?**

A) 500 B) 464 C) 634

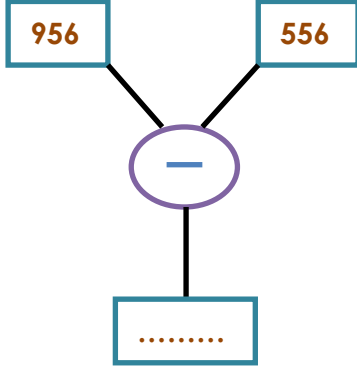
4) 

173	139	156	416	124
-----	-----	-----	-----	-----

Yukarıda verilen sayıların "**yüz elli yedi**" sayısından büyük olanların toplamı ile küçük olanların toplamı **arasındaki fark kaçtır?**

A) 170 B) 369 C) 204

5)



Şemada belirtilen çıkarma işlemi yapıldığında **boş kutucuğa** hangi sayı yazılmalıdır?

- A) 570      B) 691      C) 400

6) “44 > ..... > 42 ” ifadesinde boşluğa gelecek sayının **4 katı** hangi doğal sayıdır?

- A) 224      B) 172      C) 340

7) “127” sayısının **yüzler basamağındaki** sayıyı 3 arttırsak oluşan yeni sayının **48 fazlası kaçtır?**



İşlemin sonucunu bulmakta zorlandık. **Bize yardımcı olur musunuz?**

- A) 205      B) 175      C) 475

8)



Aklımdan tuttuğum sayının **125 fazlası 295 ise** aklımdan tuttuğum sayının **yarısı kaçtır?**

- A) 170      B) 75      C) 85

9)

En yakın onluğa **80 ve 150** olarak yuvarladığım sayı çifti **hangileri olamaz?**



- A) 74 - 156      B) 75 - 146      C) 84 - 153

10)

**9K3**

Kartta yazan sayının “**dokuz yüz altmış üç**” olması için “**K**” yerine **hangi rakam yazılmalıdır?**

- A) 6      B) 5      C) 8

11) Manavdan kilogramı **4TL** olan muzdan **4kg**, kilogramı **3 TL** olan portakaldan **5 kg** alan biri, kasaya **50 TL** veriyor. **Ne kadar para üstü almalıdır?**

- A) 16                      B) 31                      C) 19

12) Aşağıda verilen toplama işlemlerinden **hangisi yanlış yapılmıştır?**

A) 
$$\begin{array}{r} 356 \\ + 234 \\ \hline 590 \end{array}$$

B) 
$$\begin{array}{r} 561 \\ + 182 \\ \hline 743 \end{array}$$

C) 
$$\begin{array}{r} 207 \\ + 483 \\ \hline 680 \end{array}$$

13) “**X+IV+III=?**” işleminin **sonucu kaçtır?**

- A) XVII                      B) XV                      C) VII

14) Bir apartmanda **48 daire** var. Her dairede **12 lamba** var. Buna göre apartmanda kaç lamba var?

- A) 528                      B) 576                      C) 626

15) **42 - 36 - A - 24 - 18 - B - 6**

Örüntüsü belli bir kurala göre dizilmiştir. Buna göre, **A x B = ? işleminin sonucu kaçtır?**

- A) 160  
16)



399 TL

- B) 360



119 TL

- C) 720

Lale Hanım, kendisine cep telefonu oğluna bisiklet satın alıyor. Satıcıya kaç **lira para ödemelidir?**

- A) 518                      B) 480                      C) 620

Çiçek Türleri	Çiçek Sayısı
Gül	III
Lale	III
Karanfil	III III II
Sümbül	III III
Zambak	III III III
Papatya	III

Çetele tablosu bir çiçekçide bulunan çiçekleri ve sayılarını göstermektedir.

17, 18,19 ve 20. Soruları tabloya göre cevaplayınız.

17) Çiçekçide **en fazla** hangi çiçek var?

A) Gül B) Karanfil C) Zambak

18) Lale, karanfil ve zambakların toplamı kaçtır?

A) 28 B) 31 C) 29

19) Çiçekçideki **bütün çiçeklerin toplamı** kaçtır?

A) 53 B) 43 C) 57

20) Çetele tablosunun **sıklık tablosuna dönüştürülmüş hali** hangi seçenektir?

A)

Çiçek Türleri	Çiçek Sayısı
Gül	8
Lale	4
Karanfil	14
Sümbül	9
Zambak	15
Papatya	5

B)

Çiçek Türleri	Çiçek Sayısı
Gül	8
Lale	4
Karanfil	12
Sümbül	9
Zambak	15
Papatya	5

C)

Çiçek Türleri	Çiçek Sayısı
Gül	8
Lale	4
Karanfil	14
Sümbül	9
Zambak	16
Papatya	5

Matematik bölümünü bitirdin.  
Cevaplarını forma doğru  
kodlayıp kodlamadığını kontrol  
et.