








## TOPLAMA İŞLEMİ PROBLEMLER

Aşağıdaki problemleri 2 kez okuyarak çözümünü yapınız. Sonra da ne bulduğunuzu mutlaka yanına yazınız.

Hayvanat bahçesindeki zebralar fillerden 19 fazladır. Hayvanat bahçesinde 25 fil olduğuna göre kaç tane zebra vardır?		
Mehmet 8 yaşındadır. Annesi Mehmet'ten 27 yaş büyüktür. Annesi kaç yaşındadır?		
Bir manav her birinde 29 kilogram olan iki kasa portakal aldı. Manavın aldığı portakalların toplamı kaç kilogramdır?		
Sınıfımızda 17 kız, kızlardan 2 fazla erkek vardır. Sınıfımızda toplam kaç öğrenci vardır?		
4 onluk 7 birlikten oluşan sayının 28 fazlası kaç eder?		
Bir otobüste 27 erkek yolcu vardır. Erkek yolculardan 12 fazla kadın yolcu vardır. Otobüste kaç yolcu vardır?		
Kümede 13 tavuk, 14 horoz ve 28 tane de civciv vardır. Kümedeki toplam hayvan sayısı kaçtır?		
30'a yuvarlanan en büyük sayının 28 fazlası kaç eder?		