

İŞ BÖLÜMÜ

Sınıfta bazı görevleri bir ya da daha fazla arkadaşımızla iş birliği yaparak tamamlarız. Bu çalışmalara grup çalışması denir.

Grup çalışması yaparken hepimizin bir görevi olur. İşleri paylaşarak yaparsak daha kısa sürede biter ve daha eğlenceli hale gelebilir. Ancak aldığımız görevleri zamanında yerine getirmek önemlidir.

Grup çalışması yaparken arkadaşlarımızı rahatsız etmemeli, onlara karşı nazik ve saygılı olmalıyız.



Hangileri grup çalışması olarak yapılabilir?

| | |
|--|------------------------------|
| | Sınıf korusu oluşturmak |
| | Bayram için sınıf süslemek |
| | Bisiklete binmek |
| | Tiyatro gösterisi hazırlamak |
| | Okul çantası hazırlamak |
| | Sınıf panosu düzenlemek |

Doğru ifadelere D, yanlışlara Y yazın.

- () Grupta görev paylaşımı olur.
- () Herkes istediği işi yapar.
- () Aldığımız görevi yerine getiririz.
- () Yardımlaşmaya gerek yoktur.
- () Grup çalışması öz güvenimizi artırır.
- () Grup çalışmasında kaba olabiliriz.

Aşağıdaki sözcüklerden tek başına anlamı olmayanları kırmızı ile yuvarlak içine alın.



fakat

ev

veya

yağmur

ama

iki

dede

hali

ve

sandalye

ici

kapı

kadar

dondurma

çünkü

şemsiye

ile

doktor

Yuvarlak içine aldığınız sözcükleri yazın. Bu sözcüklerle cümle kurun

| | | | | | | |
|-------|--|--|--|--|--|--|
| fakat | | | | | | |
|-------|--|--|--|--|--|--|

Çok koştum fakat yetişemedim.

A large, empty rectangular area with a light beige background, framed by a thin black border. This area is intended for a drawing or image related to the 'Drawing' section of the worksheet.

Alfabemizdeki harfleri sırasıyla yazın


[illegible]

Bugünün sayısı

86

Yazı ile

.....



Onluk ve birlikler

| Onlar Bas. | Birler B. |
|------------|-----------|
| | |

1 fazlası $86 + 1 = \dots\dots\dots$

1 eksiği $86 - 1 = \dots\dots\dots$

10 fazlası $86 + 10 = \dots\dots\dots$

10 eksiği $86 - 10 = \dots\dots\dots$

Sayı doğrusunda önceki ve sonraki sayıları yazın

86



53 sayısında 5 rakamının basamak değeri 50

53 sayısında 3 rakamının basamak değeri 3

36 sayısında 3 rakamının basamak değeri

27 sayısında 7 rakamının basamak değeri

25 sayısında 2 rakamının basamak değeri

12 sayısında 2 rakamının basamak değeri

8 onluk + 5 birlik = 85

4 onluk + 1 birlik =

3 onluk + 4 birlik =

5 onluk + 2 birlik =

7 onluk + 0 birlik =

9 onluk + 6 birlik =

Büyükten küçüğe sıralayın.

45, 80, 77, 23, 19



55, 50, 87, 30, 5



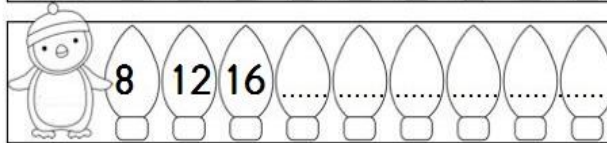
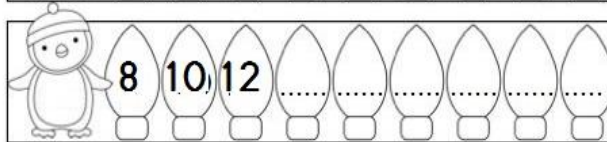
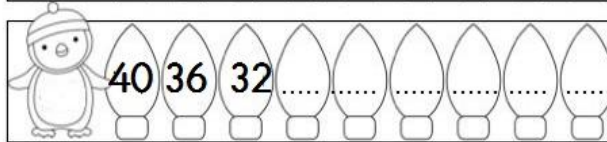
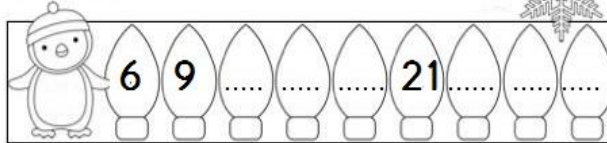
41, 20, 22, 24, 4



16, 39, 28, 40, 51



Örüntüleri tamamlayın, kuralı yazın



<https://www.sorubak.com>

Bir basamaklı sayıların en küçüğü:



İki basamaklı sayıların en küçüğü:



Bir basamaklı sayıların en büyüğü:



İki basamaklı sayıların en büyüğü:

