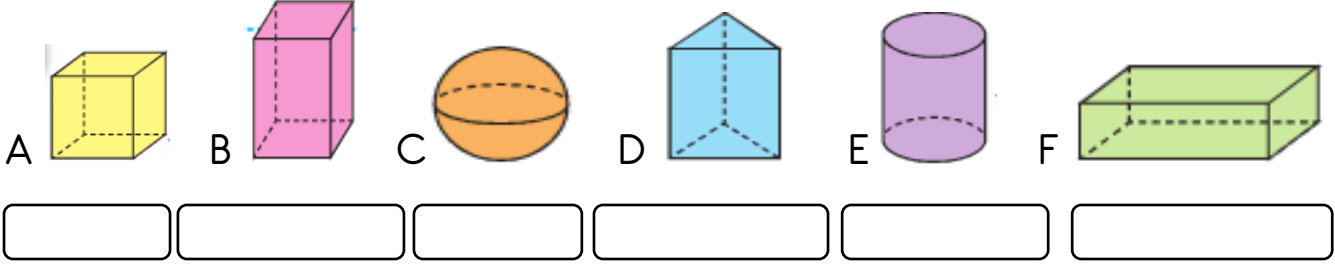
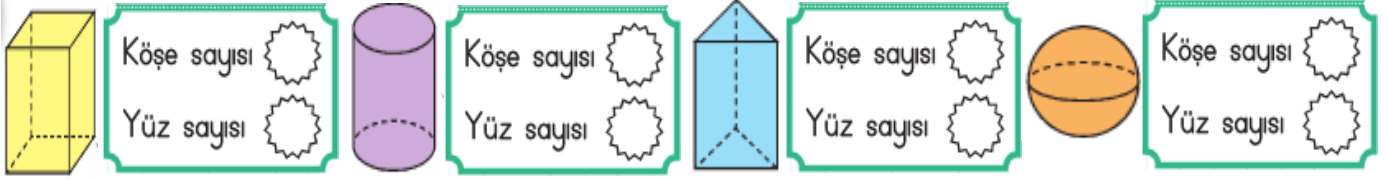


Adı-Soyadı:

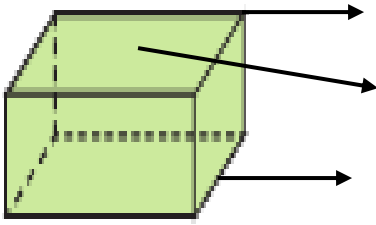
1. Aşağıda resimleri verilen geometrik cisimlerin adlarını altlarına yazınız. (12p)



2. Aşağıda verilen geometrik cisimlerin köşe ve yüz sayılarını yazınız. (8p)



3. Aşağıda verilen resimde okla gösterilen kısımların adlarını yazınız. (6p)



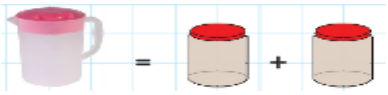
4. Aşağıda verilen tabloda istenen bilgileri yazınız. (8p)

Geometrik Şekiller	Kenar Sayısı	Köşe Sayısı
Üçgen
Kare
Dikdörtgen
Çember

5. Görselleri inceleyim. Boşlukları görsellere göre dolduralım. (4p)



9 sürahi kova doldurur.



5 sürahi kavanoz doldurur.

6. Aşağıdaki çıkarma ve toplama işlemlerinde verilmeyenleri bulunuz. (8p)

$$\boxed{\dots\dots} - 17 = 57$$


$$48 - \boxed{\dots\dots} = 25$$

$$\begin{array}{r} 19 \\ + \boxed{} \\ \hline 30 \end{array}$$

$$\begin{array}{r} \boxed{} \\ + 26 \\ \hline 35 \end{array}$$

7. Aşağıda verilen toplama ve çıkarma işlemlerini yapınız. (8p)

$$\begin{array}{r} 86 \\ + 13 \\ \hline \end{array} \quad \begin{array}{r} 98 \\ - 36 \\ \hline \end{array} \quad \begin{array}{r} 75 \\ + 15 \\ \hline \end{array} \quad \begin{array}{r} 95 \\ - 38 \\ \hline \end{array}$$

8.  Yukarıda oluşturulan şekilde aşağıdakilerden hangisi yoktur?

- A. Üçgen
B. Kare
C. Dikdörtgen

9. Köşesi ve kenarı olmayan geometrik cisim aşağıdakilerden hangisidir?

- A. Küp
B. Küre
C. Kare Prizma

10. Aşağıdaki kaplara eşit miktarda sıvı dolduruluyor. Hangi kaptaki sıvı seviyesi daha yüksekte kalır?



11. Eşitlikte verilmeyen sayıyı bulunuz. (4p)

$$16 + 7 = 32 - \dots$$

$$\dots - 9 = 21 - 5$$

12. Sınıfımızda 21 erkek, erkeklerden 4 fazla kız öğrenci vardır.

Sınıfımızda toplam kaç öğrenci vardır?

13. Bir manav 55 kilogram elmanın önce 22, sonra 20 kilogramını satıyor.

Manavda kaç kilogram elma kalmıştır?

14. Berke 9, ablası 14 yaşındadır.

3 yıl sonra ikisinin yaşları toplamı kaç olur?

15. Ege, sabah 29 soru ve akşam 35 soru çözmüştür. Ege, bu sorularda 16'sını yanlış yanıtladığına göre kaç tanesini doğru yanıtlamıştır?

16. Annem ve teyzemin yaşları toplamı 86'dır. Annem 38 yaşında olduğunu göre teyzem annemden kaç yaş büyüktür?

