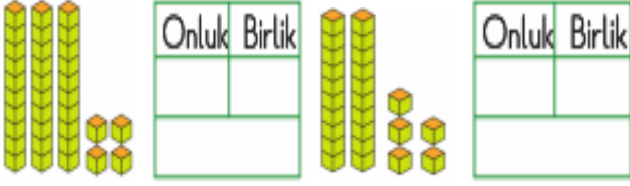


Adı-Soyadı:

1. DÖNEM MATEMATİK
DEĞERLENDİRME SINAVI 2

1. Aşağıda verilen onluk birlik işlemlerinin boşluklarını tamamlayınız. (6p)



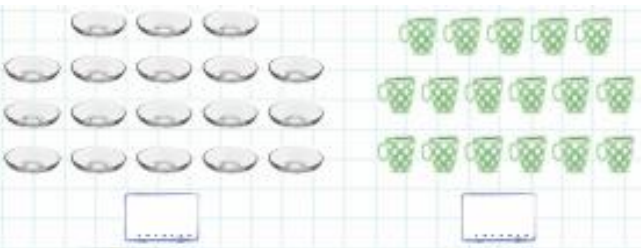
2. Aşağıda verilen onluk birlik işlemlerinin boşluklarını tamamlayınız. (6p)



3. Aşağıdaki varlıkların 1 desteden ne kadar fazla olduklarını altlarındaki kutulara yazınız. (6p)



4. Aşağıdaki varlıkların 1 düzineden ne kadar fazla olduklarını altlarındaki kutulara yazınız. (6p)



5. Aşağıdaki sayı ile ilgili istenen bilgileri tamamlayınız. (4p)

32

a. Onlar basamağındaki rakam:

b. Birler basamağındaki rakam:


c. Onlar basamağındaki rakamın basamak değeri :

d. Birler basamağındaki rakamın basamak değeri :

6. Ortada verilen sayıyı ileri ve geri 2'şer ritmik tamamlayınız. (4p)

Geri

İleri



7. Ortada verilen sayıyı ileri ve geri 3'er ritmik tamamlayınız. (4p)

Geri

İleri



8. Ortada verilen sayıyı ileri ve geri 4'er ritmik tamamlayınız. (4p)

Geri


İleri



9. Ortada verilen sayıyı ileri ve geri 5'er ritmik tamamlayınız. (4p)

Geri

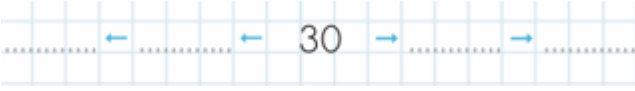
İleri



10. Ortada verilen sayıyı ileri ve geri 10'ar ritmik tamamlayınız. (4p)

Geri

İleri



11. Aşağıda verilen örüntülerin kuralını bulalım ve devam ettirelim. (8p)

36	40	44
----	----	----	-------	-------	-------

Örüntünün Kuralı:

36	33	30
----	----	----	-------	-------	-------

Örüntünün Kuralı:

12. Aşağıda verilen örüntüleri kurala göre devam ettirelim. (9p)



13. Aşağıda verilen boşluklara "büyüktür, küçüktür, eşittir" ifadelerinden uygun olanı yazınız. (4p)

66 → 84'ten 18 → 29'dan

58 → 60'dan 42 → 39'dan

14. Aşağıda verilen boşluklara ">, <, =" sembollerinden uygun olanı yazınız.

23		44	32		19
47		78	54		54

15. Aşağıda verilen sayıları sembol kullanarak büyükten küçüğe sıralayınız.

53 , 35 , 25 , 43



16. Aşağıda verilen sayıları sembol kullanarak küçükten büyüğe sıralayınız.

29 , 12 , 92 , 19



17. Noktalı yerleri resme göre tamamlayınız. (6p)



Yarışmada 1. sırada kim vardır?

.....


Esra yarışmada kaçınıcı sıradadır?

.....

Yarışmada 4. Sırada kim yarışıyor?

.....

1. 7 birlik ve 5 onluktan oluşan sayının 1 düzine fazlası kaçtır? (6p)



2. Onlar basamağı 6 olan iki basamaklı en büyük sayı ile birler basamağı 5 olan iki basamaklı en küçük sayısının farkı kaçtır? (7p)



