

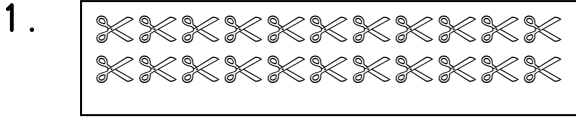
Adı :

Soyadı:

MATEMATİK

Doğru Sayısı :

Yanlış sayısı:

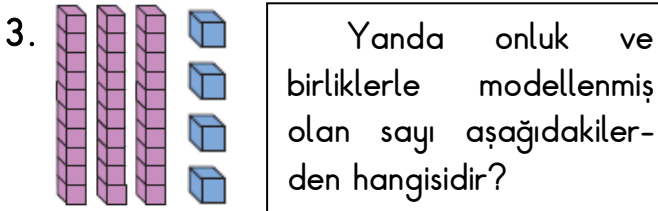


Yukarıdaki makasların sayısı kaçtır ?

- A) 21 B) 22 C) 23

2. Aşağıdakilerde hangisi "yetmiş altı" sayısının rakamlarla yazılışıdır ?

- A) 76 B) 67 C) 75



- A) 43 B) 44 C) 34

4. Aşağıdakilerden hangisi iki basamaklı en küçük sayıdır ?

- A) 9 B) 10 C) 0

5. "83" Sayısının okunuşu aşağıdakilerden hangisidir ?

- A) Seksen iki
B) Seksen üç
C) Otuz sekiz

6.

K	4 onluk + 3 birlik = 43
L	2 onluk + 9 birlik = 29
M	7 onluk + 0 birlik = 77

Yukarıda onluk ve birlikleri verilmiş sayılardan hangisi yanlış yazılmıştır ?

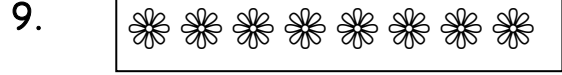
- A) K B) L C) M

7. İki basamaklı en büyük sayı aşağıdakilerden hangidir ?

- A) 90 B) 10 C) 99


8. 2 Deste kalemde kaç tane kalem vardır?

- A) 21 B) 20 C) 24



Yukarıdaki çiçeklere kaç çiçek eklersek bir düzine olur ?

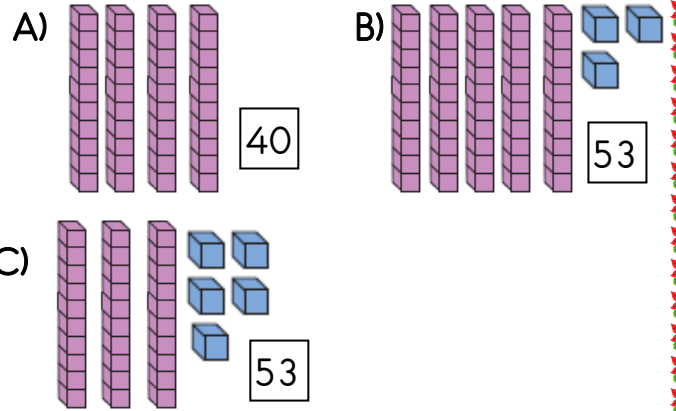
- A) 4 B) 2 C) 5



Yukarıdaki kalemler bir desteden kaç tane fazladır ?

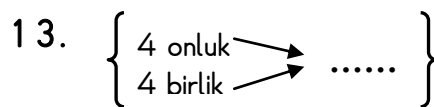
- A) 4 B) 2 C) 3

11. Aşağıda bloklarla modellenen sayılardan hangisi yanlış yazılmıştır ?



12. Aşağıdaki sayılardan hangisi onluk ve birliklerine yanlış ayrılmıştır ?

- A) 69 = 9 onluk + 6 birlik
B) 30 = 3 onluk + 0 birlik
C) 51 = 5 onluk + 1 birlik



Yukarıda noktalı yere yazılacak sayı aşağıdakilerden hangisi olmalıdır ?

- A) 40 B) 44 C) 4