

Adı :

Soyadı :

Matematik

Değerlendirme



1-) Aşağıdaki onluk-birlik tablolarındaki boşlukları doldurun. (12 Puan)

38= Onluk + Birlik

57= Birlik + Onluk

.....= 3 Onluk + 4 Birlik

94= Onluk + Birlik

.....= 5 Birlik + 6 Onluk

.....= 7 Onluk + 4 Birlik

2-) Aşağıdaki sayının rakamlarının bulunduğu basamak isimlerini, basamak ve sayı değerlerini uygun yerlere yazın. (12 Puan)

Basamak İsimleri	
3	6
Basamak Değeri	Sayı Değeri
Basamak Değeri	Sayı Değeri

3-) Aşağıdaki ritmik saymaları yazın. (16 Puan)

2'şer Ritmik Sayma	<input type="text"/>	<input type="text"/>	<input type="text"/>	<input type="text"/>	<input type="text"/>	<input type="text"/>	<input type="text"/>	<input type="text"/>	<input type="text"/>
3'er Ritmik Sayma	<input type="text"/>	<input type="text"/>	<input type="text"/>	<input type="text"/>	<input type="text"/>	<input type="text"/>	<input type="text"/>	<input type="text"/>	<input type="text"/>
4'er Ritmik Sayma	<input type="text"/>	<input type="text"/>	<input type="text"/>	<input type="text"/>	<input type="text"/>	<input type="text"/>	<input type="text"/>	<input type="text"/>	<input type="text"/>
5'er Ritmik Sayma	<input type="text"/>	<input type="text"/>	<input type="text"/>	<input type="text"/>	<input type="text"/>	<input type="text"/>	<input type="text"/>	<input type="text"/>	<input type="text"/>

4-) Aşağıdaki sayı örüntülerinin kurallarını bularak eksik olan yerleri doldurun. (10 Puan)

- Örüntü: 56 58 60 62 64
- Örüntü: 24 28 32 36 44
- Örüntü: 30 35 40 45 50
- Örüntü: 12 15 14 17 16

Adı :

Soyadı :

Matematik

Değerlendirme



5-) Aşağıdaki sayıları en yakın onluklara yuvarlayın. (5 Puan)

14 →

25 →

77 →

63 →

85 →

6-) Aşağıda büyükten küçüğe doğru bir sıralama yapılmıştır. Bu sıralamaya göre boşluğa seçeneklerdeki sayılardan hangisi yazılamaz? (5 Puan)

73 - 53 - 50 - - 34 - 20

a) 49

b) 45

c) 33

d) 35

7-) Toplama ve çıkarma işlemlerini yapın. (18 Puan)

$$\begin{array}{r} 43 \\ + 62 \\ \hline \end{array}$$

$$\begin{array}{r} 29 \\ + 26 \\ \hline \end{array}$$

$$\begin{array}{r} 54 \\ + 16 \\ \hline \end{array}$$

$$\begin{array}{r} 38 \\ - 21 \\ \hline \end{array}$$

$$\begin{array}{r} 76 \\ - 37 \\ \hline \end{array}$$

$$\begin{array}{r} 41 \\ - 19 \\ \hline \end{array}$$

8-) Aşağıdaki işlemlerde verilmeyenleri bulun. (18 Puan)

$$24 + \dots = 56$$

$$\begin{array}{r} \dots \\ - 18 \\ \hline 34 \end{array}$$

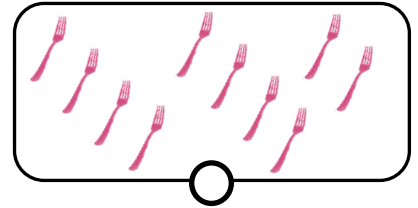
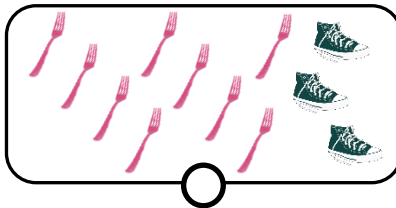
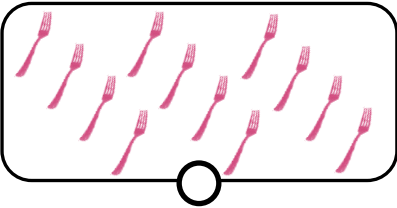
$$\begin{array}{r} \dots \\ + 18 \\ \hline 34 \end{array}$$

$$\begin{array}{r} 84 \\ - \dots \\ \hline 25 \end{array}$$

$$38 - \dots = 12$$

$$\dots - 41 = 24$$

9-) Aşağıdakilerden hangisi veya hangileri düzine değildir? Düzine olmayanları işaretleyin. (2 P)



10-) Aşağıdakilerden hangisi veya hangileri deste değildir? Deste olmayanları işaretleyin. (2 P)

