




TOPLAMA İŞLEMİ

1. Etkinlik: Aşağıdaki toplama işlemlerini örnekteki gibi zihinden yapalım.



Önce onlukları topla.
Sonra birlikleri topla.
Daha sonra onluk ve
birlikleri topla



$24 + 12 = 36$ $20 + 10 = 30$ $4 + 2 = 6$ $30 + 6 = 36$	$34 + 45 = \dots\dots$ $\dots + \dots = \dots$ $\dots + \dots = \dots$ $\dots + \dots = \dots$	$12 + 26 = \dots\dots$ $\dots + \dots = \dots$ $\dots + \dots = \dots$ $\dots + \dots = \dots$	<div>  <p>Önce onlukları topla Sonra birlikleri topla Daha sonra onluk birlikleri topla</p> </div> <div>   </div>
$53 + 24 = \dots\dots$ $\dots + \dots = \dots$ $\dots + \dots = \dots$ $\dots + \dots = \dots$	$41 + 28 = \dots\dots$ $\dots + \dots = \dots$ $\dots + \dots = \dots$ $\dots + \dots = \dots$	$63 + 15 = \dots\dots$ $\dots + \dots = \dots$ $\dots + \dots = \dots$ $\dots + \dots = \dots$	$27 + 32 = \dots\dots$ $\dots + \dots = \dots$ $\dots + \dots = \dots$ $\dots + \dots = \dots$
$38 + 25 = 63$ $30 + 20 = 50$ $8 + 5 = 13$ $50 + 13 = 63$	$27 + 14 = \dots\dots$ $\dots + \dots = \dots$ $\dots + \dots = \dots$ $\dots + \dots = \dots$	$49 + 34 = \dots\dots$ $\dots + \dots = \dots$ $\dots + \dots = \dots$ $\dots + \dots = \dots$	$66 + 18 = \dots\dots$ $\dots + \dots = \dots$ $\dots + \dots = \dots$ $\dots + \dots = \dots$
$55 + 35 = \dots\dots$ $\dots + \dots = \dots$ $\dots + \dots = \dots$ $\dots + \dots = \dots$	$46 + 24 = \dots\dots$ $\dots + \dots = \dots$ $\dots + \dots = \dots$ $\dots + \dots = \dots$	$28 + 13 = \dots\dots$ $\dots + \dots = \dots$ $\dots + \dots = \dots$ $\dots + \dots = \dots$	$75 + 17 = \dots\dots$ $\dots + \dots = \dots$ $\dots + \dots = \dots$ $\dots + \dots = \dots$

2. Etkinlik: Aşağıdaki toplama işlemlerini örnekteki gibi zihinden yapalım.

$24 + 23 = 47$ $40 + 7 = 47$	$45 + 12 = \dots\dots$ $\dots\dots + \dots\dots = \dots\dots$	$50 + 28 = \dots\dots$ $\dots\dots + \dots\dots = \dots\dots$	$64 + 33 = \dots\dots$ $\dots\dots + \dots\dots = \dots\dots$
$71 + 18 = \dots\dots$ $\dots\dots + \dots\dots = \dots\dots$	$35 + 15 = \dots\dots$ $\dots\dots + \dots\dots = \dots\dots$	$24 + 23 = \dots\dots$ $\dots\dots + \dots\dots = \dots\dots$	$45 + 32 = \dots\dots$ $\dots\dots + \dots\dots = \dots\dots$
$52 + 15 = \dots\dots$ $\dots\dots + \dots\dots = \dots\dots$	$60 + 34 = \dots\dots$ $\dots\dots + \dots\dots = \dots\dots$	$48 + 12 = \dots\dots$ $\dots\dots + \dots\dots = \dots\dots$	$57 + 26 = \dots\dots$ $\dots\dots + \dots\dots = \dots\dots$