

Adı Soyadı:.....

FATMA NURİ ERKAN İLKOKULU
2. SINIFLAR MATEMATİK DEĞERLENDİRME SORULARI

1. Aşağıdaki doğal sayıların okunuşunu yazınız.

23=.....

44=.....

68=.....

91=.....

2- Okunuşları verilen sayıları rakamla yazınız.


Elli iki=.....

On dokuz=.....

Yetmiş altı=.....

Seksen=.....

3. Aşağıda verilen sayının basamak adını yazınız.



4. Aşağıdaki sayının basamak değerlerini yazınız.

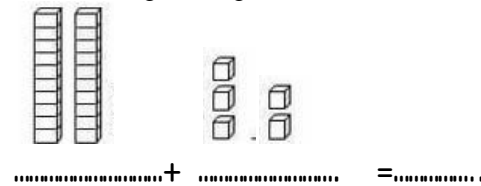


5. Bir düzine kalem çiziniz.

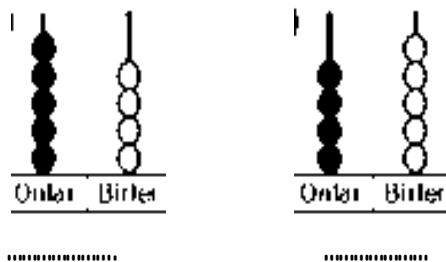
6. 4 birlik 3 onluktan oluşan sayı kaçtır?

7. 2 deste gülün 5 tanesi kurudu. Kaç gül kaldı?

8. Modelle gösterilen sayının onluk ve birlik sayısını yazınız?



9. Abaküste gösterilen sayılar kaçtır?



10. Aşağıdaki ritmik sayımları tamamlayınız

* 12 - 16 - 20 - 24 -

* 95 - 90 - 85 - 80 -

* 15 - 18 - 21 - 24 -

* 48 - 46 - 44 - 40 -

* 72 - 74 - 76 - 78 -