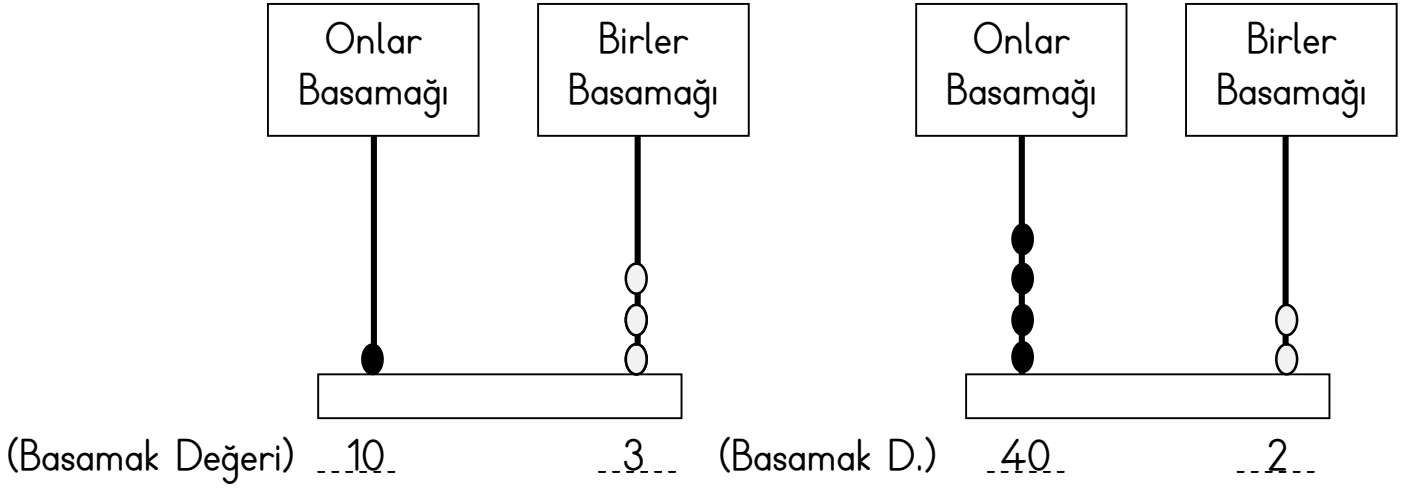


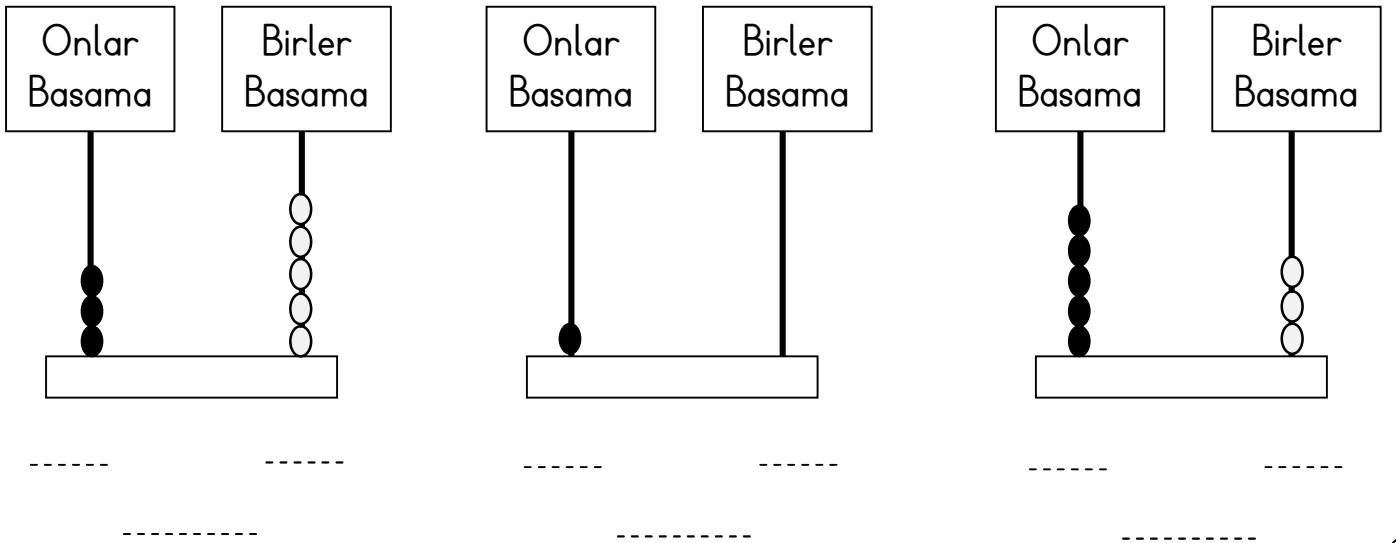
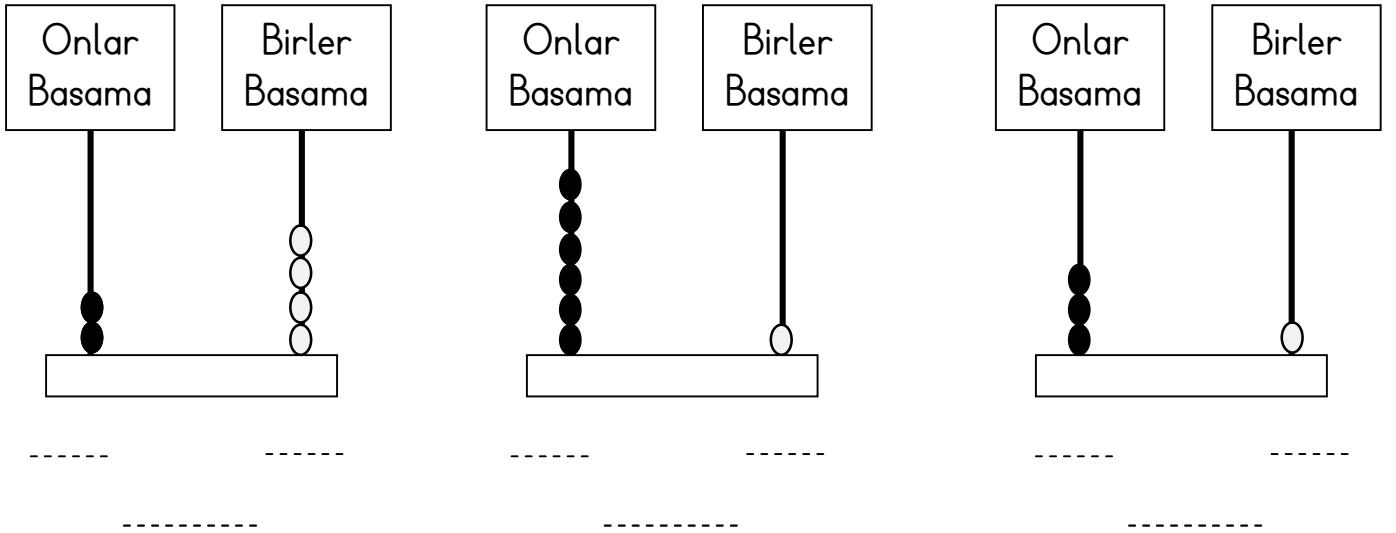
## BASAMAK ADI BASAMAK DEĞERİ

İki basamaklı sayılar ONLAR BASAMAĞI ve BİRLER BASAMAĞI'ndan oluşur.



On üç

Kırk iki



Onlar basamağındaki bir rakamın basamak değeri  
10-20-30-40-50-60-70-80-90 değerlerinden biri olabilir.

## 2. ÇALIŞMA

Aşağıda verilen sayıların basamak adını ve basamak değerlerini yazınız.

<u>Basamak Adı</u>	<u>Basamak D.</u>
3 5	
→ Birler Basamağı	5
→ Onlar Basamağı	30

<u>Basamak Adı</u>	<u>Basamak D.</u>
42	
→ .....	.....
→ .....	.....

<u>Basamak Adı</u>	<u>Basamak D.</u>
8 0	
→ .....	.....
→ .....	.....

<u>Basamak Adı</u>	<u>Basamak D.</u>
7 6	
→ .....	.....
→ .....	.....

## 3. ÇALIŞMA

Aşağıdaki soruları dikkatlice okuyunuz. Soruların cevaplarını kutuların içinden bulup boyayınız.

1- 48 sayısında 4'ün basamak değeri kaçtır?

2- Basamak değerleri 3 ve 50 olan sayı kaçtır?

3- 36 ve 23 sayısındaki 3 rakamlarının basamak değeri toplamı kaçtır?

4- Birler basamağı 7, onlar basamağı 6 olan sayı kaçtır?

5- 26 sayısında 2'nin basamak değerinin 5 eksiği kaçtır?

6- Onlar basamağında 4 olan en büyük iki basamaklı sayı kaçtır?

7- 86 sayısında 8'in basamak değeri kaçtır?

8- 6 birlik 3 onluktan oluşan sayının onlar basamağındaki rakamın basamak değeri

9- 58 sayısında 5'in basamak değeri kaç destedir?

10- 2 düzinenin onlar basamağındaki rakamın basamak değeri kaçtır?

67	80	53	15	5	33	30	40	20	49
----	----	----	----	---	----	----	----	----	----