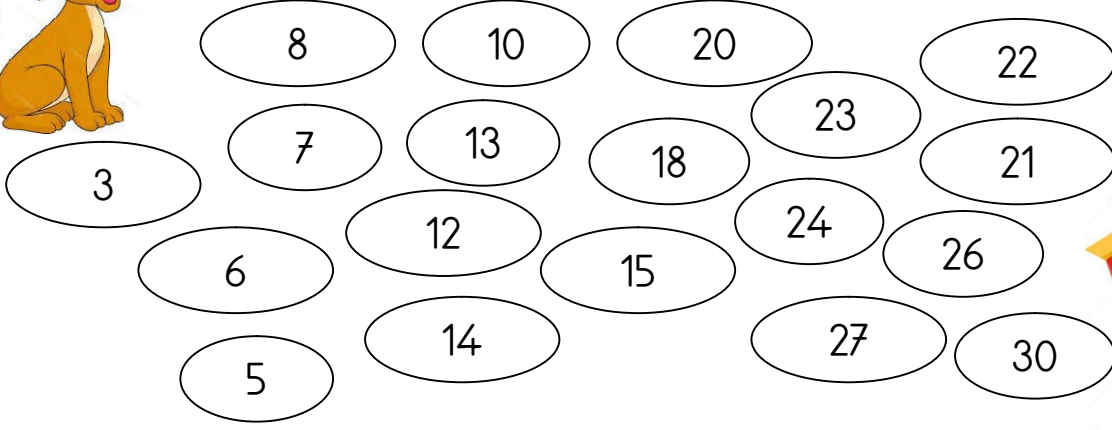
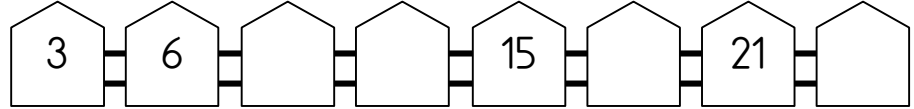
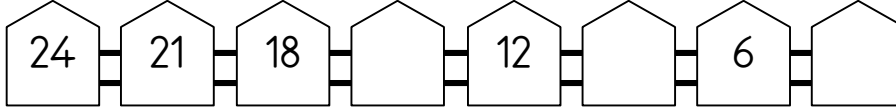
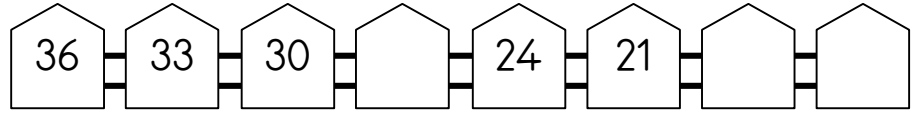
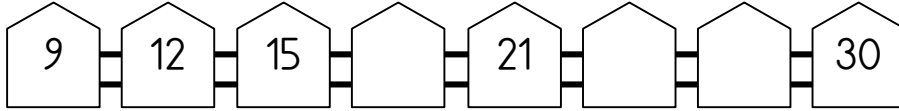


## ÜÇER RİTMİK SAYMALAR

A- Resimdeki Pamuk'u yuvasına götürmek için sadece 3'er ritmik saymalara ait taşları boyayınız.



B- Aşağıdaki 3'er ritmik sayma örüntülerini tamamlayınız.



C- Aşağıdaki soruları cevaplayınız.

1- 6' dan başlayarak ileriye doğru 3'er ritmik sayarken 3. saymada söylediğimiz sayı kaçtır?

.....

2- 21' den başlayıp geriye doğru 3'er ritmik sayarken 2. sırada söylediğimiz sayı kaçtır?

.....

3- 18' den başlayarak ileriye doğru 3'er ritmik sayarken 4. sırada söylediğimiz sayı kaçtır?

.....

4- 24' ten başlayıp geriye doğru 3'er ritmik sayarken 4. sırada söylediğimiz sayı kaçtır?

.....