

Adım soyadım:

Puanım:

EN FAYDALI HAYVAN

Öğretmen Caner'e sordu:

-Dünyanın en faydalı hayvanı hangisidir?

Caner:

-Tavuktur öğretmenim.

-Neden?

Neden olacak? Doğmadan öncede yenir doğduktan sonra da...

1,2,3. Soruları fıkraya göre cevaplayın.

1) Öğretmen kime soru sormuştur?

A) Filiz'e B) Caner'e C) Deniz'e

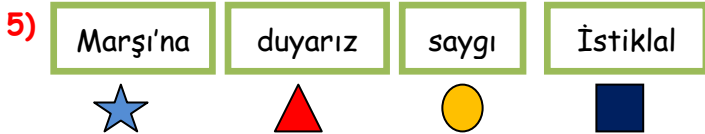

2) Caner'in öğretmene verdiği cevap aşağıdaki hangi hayvandır?




3) Öğretmenin Caner'e sorduğu "faydalı" kelimesinin eş anlamlısı aşağıdakilerden hangisidir?

A) zararlı B) yararlı C) kararlı

4) Aşağıdaki görsellerden hangisinin ismi üç hecelidir?



Sembollerle verilen kelimelerden anlamlı ve kurallı cümle oluşturursak doğru sıralama nasıl olur?



6)

Minnoş'a yemeğini
verdin mi ★

Ahmet'in söylediği cümlede ★ yerine hangi noktalama işareti gelmelidir?

A) soru işareti B) nokta C) ünlem

7)

muz-tren-balık-terlik

Yukarıdaki kelimeleri sözlük sırasına koyarsak doğru sıralama aşağıdakilerden hangisi olur?

A) Tren-muz-balık-terlik

B) Balık- muz- terlik-tren

C) Balık terlik-tren-muz

8)

Akşam erken yattım
çünkü.....

Canan'ın cümlesi aşağıdakilerden hangisi ile devam eder?

A) uykum kaçtı.

B) misafir vardı.

C) çok uykum vardı.

9) Evimizin adresinde aşağıdaki bilgilerden hangisi yer almaz?

A) Mahalle adı

B) Kapı numarası

C) Telefon numarası

10) Aşağıdaki çocuklardan hangisi fiziksel özelliklerinden bahsetmiştir?

A)

Kitap okumayı
seviyorum.

B)



Uzun boyluyum.

C)

Resim yaparken
mutlu olurum.

11) Mustafa Kemal Atatürk' e "Kemal" ismini kim vermiştir?

- A) annesi B) babası C) öğretmeni

12) Aşağıdakilerden hangisi dinleme kurallarından biridir?

- A) Konuşmacının sözünü kesmez.
B) Konuşmacı ile göz teması kurmaz.
C) Konuşmacı konuşurken soru sorar.

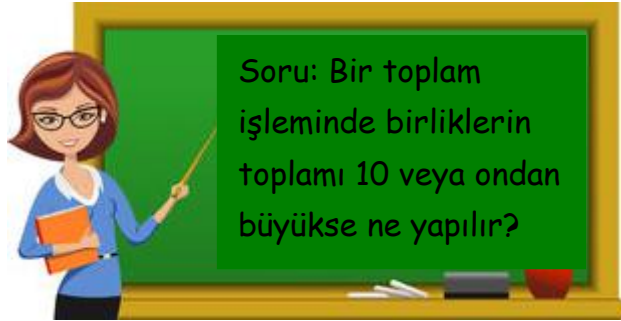
13)



Yukarıdaki bulutlardan kaç numaralı bulut çocukların sorumluluğu arasında yer alır?

- A) 1 B) 2 C) 3

14)



Yukarıdaki tahtada öğretmenin sorduğu soruya hangi öğrenci doğru cevap vermiştir?

- A)  Onlar basamağından elde alınır.
- B)  Onlar basamağına elde verilir.
- C)  Birler basamağına yazılır.

15)

İşlem

Tahmin

Sonuç

$$44+28$$

$$\boxed{}$$

$$72$$

Yukarıdaki toplama işlemin sonucunu tahmin eden Ali'nin tahmin kutusuna aşağıdakilerden hangisi gelmelidir?

- A) 70 B) 80 C) 90

16)

$$\begin{array}{r} 45 \\ + \triangle \\ \hline 78 \end{array}$$

$$\begin{array}{r} 52 \\ + \square \\ \hline 71 \end{array}$$

Yukarıdaki toplama işlemlerinde verilmeyen terimleri bulursak $\triangle - \square = ?$ işleminin sonucu ne olur?

- A) 14 B) 15 C) 16

17)

$$\begin{array}{r} 72 \\ - 34 \\ \hline \end{array}$$

Yandaki çıkarma işleminin sonucu kaçtır?

- A) 48 B) 38 C) 42




18)

$$70-50$$

$$40-10$$

$$80-70$$

Yukarıdaki çıkarma işlemlerinden hangisinin sonucu 20'dir?

- A)  B)  C) 

19) Selin 35 kilogramdır. Ablası 46 kilogramdır. İkisinin kiloları toplamı kaçtır?

- A) 71 B) 76 C) 81

20) Bir düzine kalem bir deste kalemde kaç fazladır?

- A) 5 B) 2 C) 10