

Adım soyadım:

Puanım:



GÜLÜMSEME

Bir balcı dükkânını en iyi ballarla doldurduğu halde gelen müşterilere hiç bal satamazmış. Bir gün bilginin birine yakınmış: "En iyi ballar benim dükkânımda olduğu halde, gelen müşteriler ballarımı beğenmeyerek gidiyorlar. Hâlbuki komşumun balları iyi değildir ama müşterileri hiçbir zaman eksik olmuyor. Bunun sebebi nedir?" Bilgin şu cevabı vermiş: "Sen bal satıyorsun ama yüzün sirke satıyor."

1,2,3. Soruları yukarıdaki metne göre cevaplayınız.

1) Dükkân sahibi ne satıyormuş?

- A) Sirke B) Bal C) Kavanoz

2) Müşteriler balcıdan neden bal almıyormuş?

- A) Yüzü gülmediği için
B) Pahalı sattı için
C) Balı kötü olduğu için

3) Dükkân sahibi kime yakınıyor?

- A) komşusuna B) müşterisine C) bilgine

4) Aşağıdaki cümlelerde altı çizili kelimelerden hangisi tek hecelidir?

- A) Kardeşim ata ot verdi.
B) Yolda büyük bir taş gördüm.
C) Bugün iki saat uyudum.

5) Aşağıdaki kelimelerden hangisi daha çok harften oluşur?

- A) matematik
B) hayvan
C) yorgancı

6) Hangi öğrencinin söylediği kelimenin sonuna soru işareti gelmez?

A)



Neden gitmediğini bilmiyorum

B)



Hangi soruyu sordun

C)



Gece kaçta yattın

7) Kaydırak kelimesi hangi şıkta hecelerine doğru ayrılmıştır?

- A) kay-dır-ak
B) kay-dı-rak
C) ka-ydı-rak

8)



Yarın cumartesi.

Filiz aşağıdaki sorulardan hangisine cevap vermiştir?

- A) Yarın günlerden nedir?
B) Yarın ne yapacaksın?
C) Yarın okula gidecek misin?

9) Aşağıdaki çocuklardan hangisi fiziksel özelliklerinden bahsetmemiştir?

A)



Şarkı söylemeyi seviyorum.

B)



Ben gözlük kullanıyorum.


C)



Benim saçlarım sarıdır.

10) Ayşegül arkadaşı Ziya'nın defterini yanlışlıkla yırttı.

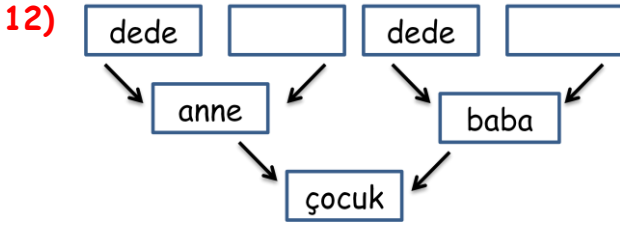
Ziya'nın yaşadığı duygu aşağıdakilerden hangisi gibi olur?



11) Barış sabah okul yolunda öğretmeni ile karşılaştı.

Bu durumda Barış öğretmenine aşağıdakilerden hangisini söylemelidir?

- A) Hoş çakalın öğretmenim!
B) Günaydın öğretmenim!
C) Ödevimi yaptım öğretmenim!



Yukarıdaki soyağacında boş kalan yerlere sıra ile gelmesi gereken aile üyeleri kimdir?

- A) Anneanne-babaanne
B) Babaanne-anneanne
C) Teyze-hala

13) Aşağıdaki ifadelerden hangisi yanlıştır?

- A) Akrabalarımızı sık sık ziyaret etmeliyiz.
B) Akrabalarımızı sevip saymalıyız.
C) Akrabalara sadece bayramlarda gidilir.



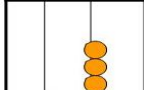
Yasin sokakta gördüğü 6 kedinin ayak sayılarını dörder ritmik sayıyor.

Yasin'in söylediği son sayı kaç olur?

- A) 20 B) 24 C) 28

15) 80-40 Yandaki çıkarma işlemini zihinden yaparsak sonucu kaç buluruz?

- A) 40 B) 50 C) 60

16)  Yandaki abaküste gösterilen sayı hangi onluğa yuvarlanır?

- A) 50 B) 40 C) 47

17)  Yandaki üzüm salkımında 36 tane üzüm vardır.

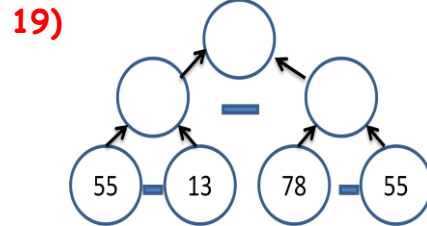
Buna göre aşağıdaki ifadelerden hangisi doğrudur?

- A) Üzümler 6 onluk 3 birlikten oluşmuştur.
B) Üzümler 3 onluk 6 birlikten oluşmuştur.
C) Üzümler 3 onluk 0 birlikten oluşmuştur.



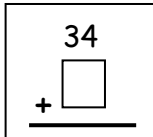
Erkan Bey iki çocuğuna ayakkabı almıştır. Erkan Bey iki ayakkabı için kaç lira ödemiştir?

- A) 82 TL B) 72 TL C) 92 TL



Yukarıdaki çıkarma işlemlerine göre en üsteki yuvarlağa hangi sayı yazılmalıdır?

- A) 26 B) 29 C) 19

20)  Yandaki toplama işleminde □ yerine gelmesi gereken sayı kaçtır?

- A) 34 B) 24 C) 18