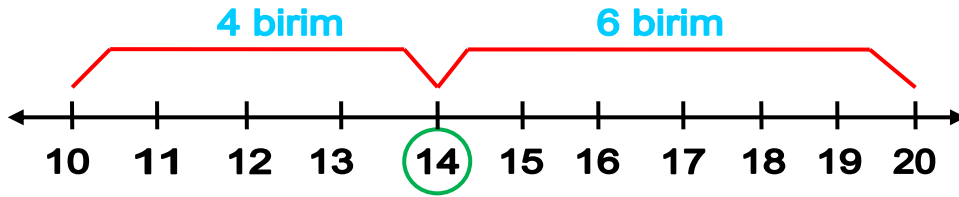




EN YAKIN ONLUĞA YUVARLAMA

- ♣ En yakın onluğa yuvarlama yapılırken birler basamağına dikkat ederiz. Eğer birler basamağı 1,2,3 ya da 4 ise sayımız **kendi onluğunda** kalır. Eğer sayımızın birler basamağı 5,6,7,8 ya da 9 ise **bir üst onluğa** yuvarlanır.
- ♣ Bir sayının en yakın onluğunu bulurken **sayı doğrusundan da** faydalanırız.

Örneğin 14 sayısının en yakın olduğu onluğu sayı doğrusundan yararlanarak bulalım. 14'ün altındaki onluk 10, üstündeki onluk ise 20'dir. O yüzden sayı doğrumuzu 10'dan başlatıp 20'de bitireceğiz.



- ✓ Yukarıdaki sayı doğrusunda da görüldüğü gibi 14'le 20 arasında **6 birim uzaklık varken**, 14'le 10 arasında sadece **4 birim uzaklık var**. Yani 14 sayısı, alt onluğu olan 10'a daha yakın. Dolayısıyla 14'ün en yakın onluğunu 10 buluruz.
- ✓ Ayrıca giriş kısmında yaptığımız açıklamada birler basamağı 1,2,3,4 olan sayıların kendi onluğunda kaldığını söylemiştik. 14'ün **birler basamağı 4** dolayısıyla yuvarladığımızda **kendi onluğu olan 10'da** kalır.

DEĞERLENDİRME

1) Aşağıdaki sayıları en yakın onluklarıyla eşleştiriniz.

• 23
• 37
• 65
• 58
• 46

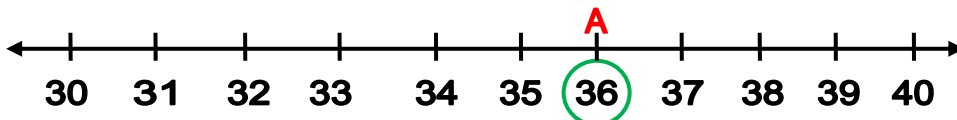
40
60
20
50
70



• 12
• 95
• 83
• 27
• 86

30
80
10
90
100

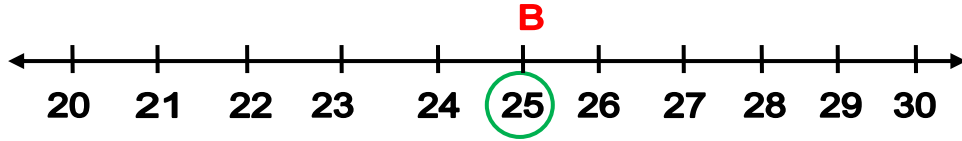
2) A noktasındaki sayının en yakın olduğu onluğu sayı doğrusundan da faydalanarak bulunuz.



A noktasındaki sayının en yakın olduğu onluk.....



3) B noktasındaki sayının en yakın olduğu onluğu sayı doğrusundan da faydalanarak bulunuz.



B noktasındaki sayının en yakın olduğu onluk.....

4) 40'a yuvarlanan sayıları aşağıya yazınız.

5) 70'e yuvarlanan sayıları aşağıya yazınız.

34 - 42 - 35 - 44 - 32 - 36

6) Yukarıdaki sayılardan kaç tanesinin en yakın onluğu 40'tır?

A) 2

B) 3

C) 4

7) Bir yılın içindeki ayların sayısı hangi onluğa daha yakındır?

A) 10

B) 20

C) 30

8) Aşağıdaki varlık sayılarından hangisi,50'ye daha yakındır?

A) Her birinde bir düzine çiçek olan 4 vazo çiçek,

B) Her birinde bir deste kalem olan 6 kutu kalem,

C) Her birinde 11 futbolcu bulunan 5 tane futbol takımı,

9) Aşağıdaki sayılardan hangisi 60'a yuvarlanmaz?

A) 62

B) 66

C) 55

10) Aşağıdaki sayılardan hangisi 80'e yuvarlanır?

A) 75

B) 74

C) 85