

MİNİ DENEME SINAVI

TÜRKÇE

- Aşağıdaki cümlelerin hangisinde yazım yanlışı vardır?
A) Osmangazi Mah. Cumhuriyet Cad. No:12 KIRIKKALE
B) Her yıl 29 Ekim'de Cumhuriyet Bayramı'nı kutlarız.
C) Yusuf, 5 aralık 2011'de doğmuş.
- Aşağıdaki cümlelerin hangisinde yazım yanlışı vardır?
A) Babam Ankara'dan gelecek.
B) Akif ramazan bayramında köyüne gidecek.
C) Büşra'nın kalemini gören var mı?
- "Siyah - Kara" sözcükleri arasında bir anlam ilişkisi vardır. Buna benzer anlam ilişkisi aşağıdakilerden hangisinde vardır?
A) Öğrenci - Talebe
B) Doğru - Yanlış
C) Uzak - Yakın

4. 1. saat 2. çiçek 3. oyun 4. biber

Yukarıda verilen sözcüklerin sözlük sırası aşağıdakilerden hangisidir?

- A) 4-2-3-1
B) 3-4-2-1
C) 2-1-3-4

5. Öğretmen misafir sene
1 2 3

Yukarıda verilen kelimelerin eş anlamları numaralı yerlere yazılacaktır?

Numaralı yerlere sırasıyla aşağıdakilerden hangisi yazılmalıdır?

- | | | |
|------------|-----------|-------|
| 1 | 2 | 3 |
| A) muallim | konuk | yıl |
| B) talebe | ziyaretçi | zaman |
| C) hoca | arkadaş | vakit |

6. Sağlıklı beslenmeliyiz için dengeli olmak.
1 2 3 4 5

Anlamli ve kurallı cümle yapabilmek için hangi kelimelerin yerleri değiştirilmelidir?

- A) 1 ve 5 B) 3 ve 4 C) 2 ve 5

7. bayat cevap yukarı
1 2 3

Yukarıda verilen kelimelerin zıt anlamları numaralı yerlere yazılacaktır?

Numaralı yerlere sırasıyla aşağıdakilerden hangisi yazılmalıdır?

- | | | |
|---------|-------|--------|
| 1 | 2 | 3 |
| A) eski | cevap | yüksek |
| B) taze | soru | aşağı |
| C) yeni | yanıt | alçak |

MATEMATİK

1. Aşağıdaki toplama işlemlerinden hangisi yanlıştır?

- | | | |
|--|--|--|
| A) $\begin{array}{r} 2 \ 5 \\ + \ 1 \ 8 \\ \hline 3 \ 3 \end{array}$ | B) $\begin{array}{r} 6 \ 2 \\ + \ 2 \ 6 \\ \hline 8 \ 8 \end{array}$ | C) $\begin{array}{r} 2 \ 5 \\ + \ 1 \ 7 \\ \hline 4 \ 2 \end{array}$ |
|--|--|--|

2. Bir sınıftaki öğrencilerin sayısına en yakın onluk 20'dir. Buna göre aşağıdakilerden hangisi **söylenemez**?

- A) Bu sınıfta 17 öğrenci olabilir.
B) Bu sınıfta 24 öğrenci olabilir.
C) Bu sınıfta 14 öğrenci olabilir.

3. Aşağıda verilen onluğa yuvarlamalardan hangisi **yanlıştır**?

- A) 35 → 30
B) 42 → 40
C) 46 → 40

4. 15, 21, 39, 17 sayıları aşağıdaki seçeneklerden hangisinde **küçükten büyüğe** doğru sıralanmıştır?

- A) 15, 17, 21, 39
B) 39, 15, 21, 17
C) 39, 21, 17, 15



Ahmet'in kalemleri



Yusuf'un kalemleri

Ahmetin kalemleri 1 desteden 5 fazladır. Yusuf'un kalemleri 2 düzineye eşittir.

Buna göre Ahmet ile Yusuf'un toplam kaç kalemi vardır?

- A) 30 B) 39 C) 49

6. $\boxed{3} - \boxed{6} - \boxed{9} - \boxed{11} - \boxed{15}$

Yukarıdaki örüntüde kuralı bozan sayı aşağıdakilerden hangisidir?

- A) 9 B) 11 C) 15

7. 40'dan başlayarak geriye doğru 4'er ritmik sayan bir öğrenci 28'den sonra hangi sayıyı söyler?

- A) 32 B) 24 C) 44

8.  Aralarında 2'er yaş fark olan üç kardeşten en küçüğü 6 yaşındadır. Bu kardeşlerin yaşları toplamı kaçtır?

- A) 10 B) 14 C) 24

9. Aşağıda verilen örüntülerden hangisinin kuralı farklıdır?

- A) 7 - 9 - 11 - 13 - 15
B) 7 - 10 - 13 - 16 - 19
C) 10 - 12 - 14 - 16 - 18

10. Cebimdeki paranın onlar basamağındaki rakamın basamak değeri 40, birler basamağındaki rakamın basamak değeri 5'dir.

Cebimdeki para kaç liradır?

- A) 54 B) 9 C) 45

11. Merve koşu yarışmasında ikinciği geçerek yarışmayı bitirmiştir.

Buna göre Merve yarışmada kaçınıcı olmuştur?

- A) 1. B) 2. C) 3.

HAYAT BİLGİSİ

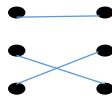
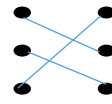
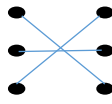
1. Doğal kaynakları kullanırken nelere dikkat etmeliyiz?
- A) Tasarruflu kullanmaya özen göstermeliyiz.
B) Bize zarar vermemesine dikkat etmeliyiz.
C) Çevremizi temiz tutmaya özen göstermeliyiz.

2. Aşağıdaki fiziksel özelliklerden hangisi değişmez?
- A) Parmak izi
B) Boyumuzun uzunluğu
C) Kilomuz

3. Aşağıdaki fiziksel özelliklerimizden hangisi değişir?
- A) göz rengi ve parmak izi
B) Cinsiyetimiz ve saç rengi
C) Boyumuz ve kilomuz

4. Dersler Ders araç ve gereçleri
- Türkçe • • Boya kalemleri
Matematik • • Sözlük
Resim • • Cetvel

Yukarıdaki dersler ve kullanılan araç ve gereçler nasıl eşleştirilmelidir?

- A)  B)  C) 

İFADELER	DOĞRU/YANLIŞ
Grup çalışmalarında görevlerimizi yerine getirmeliyiz.	
Grup içinde iş birliği yapmalıyız.	
Grup çalışmalarında görüşlerimizi belirtmeliyiz.	

Yukarıdaki ifadelerden doğru olanlara (D), yanlış olanlara (Y) yazarsak sonuç nasıl olur?

A)	DOĞRU/YANLIŞ	B)	DOĞRU/YANLIŞ	C)	DOĞRU/YANLIŞ
	Y		D		D
	D		Y		D
	D		Y		D

6. Aşağıdaki ifadelerden hangisi doğrudur?

- A) Bireysel farklılıklara saygı duymalıyız.
B) Her bireyin yeteneği aynıdır.
C) Her bireyin fiziksel özellikleri aynıdır.

7. İyi bir dinleyici,

1. Konuşmacıyı dikkatli bir şekilde dinler
2. Konuşmacının sözünü kesmez
3. Konuşmacının konuşması bittikten sonra sorusunu sorar

yukarıdaki özelliklerden hangilerine sahip olmalıdır?

- A) Yalnız 1
B) Yalnız 2
C) Hepsi