

Adı-Soyadı: .....

1. Aşağıda verilen sıvı ölçümü ile ilgili soruları cevaplayınız. (8p)

1 sürahi 2 çaydanlık, 1 çaydanlık 5 su bardağı doldurmaktadır.



3 sürahi kaç çaydanlık doldurur .....


3 çaydanlık kaç bardak doldurur .....

10 bardak kaç çaydanlık doldurur .....

8 çaydanlık kaç sürahi doldurur .....

2. Aşağıda verilen eşitlikte verilmeyen sayıyı işlem yaparak bulunuz. (4p)



$$16 + \text{○} = 28 - 8$$



3. Aşağıdaki verilmeyenli çıkarma işlemlerini işlem yaparak yapınız. (4p)

$$40 - \text{□} = 18$$



$$\text{□} - 22 = 18$$



4. Aşağıdaki verilmeyenli toplama işlemlerini işlem yaparak yapınız. (4p)

$$25 + \text{□} = 40$$

$$\text{□} + 65 = 90$$



5. Aşağıda verilen çıkarma işlemlerinde verilmeyeni işlem yaparak bulunuz. (4p)

İşlem	Tahmin	Gerçek Sonuç
$\begin{array}{r} 85 \\ - 58 \\ \hline \end{array}$		

6. Aşağıda verilen toplama ve çıkarma işlemlerini yapınız. (8p)

$\begin{array}{r} 54 \\ + 25 \\ \hline \end{array}$	$\begin{array}{r} 68 \\ + 23 \\ \hline \end{array}$	$\begin{array}{r} 89 \\ - 34 \\ \hline \end{array}$	$\begin{array}{r} 44 \\ - 29 \\ \hline \end{array}$
.....	.....	.....	.....

7. Aşağıda verilen işlemleri zihinden yapınız. (4p)

$$50 + 20 = \text{.....} \quad 60 - 30 = \text{.....}$$

$$40 + 30 = \text{.....} \quad 80 - 50 = \text{.....}$$

8. Aşağıdaki sayıları büyükten küçüğe sembol kullanarak sıralayınız. (4p)

54 , 23 , 67 , 17 ..... .....

9. Aşağıdaki sayıları küçükten büyüğe sembol kullanarak sıralayınız. (4p)

20 , 34 , 10 , 47 ..... .....

10. Aşağıdaki onluklara yuvarlanabilecek en büyük ve en küçük sayıları yazınız. (4p)

En küçük	Onluk	En büyük
.....	50	.....
.....	70	.....

11. Aşağıda verilen örüntülerin eksik sayılarını tamamlayınız. (6p)

12. Aşağıda verilen örüntülerin kuralını yazınız. (4p)



Kural: .....



Kural: .....

13. Aşağıda verilen sayıları yanında verilen sayı kadar ileri doğru devam ettirin. (6p)

4'er	38				
3'er	52				
2'şer	40				

14. Aşağıda basamak değeri verilen sayıları yazınız. (4p)



15. Aşağıda verilen sayıları onluk birliklerine ayırın. (4p)

16. Aşağıda verilen deste ve düzine sayılarını eşleştiriniz. (4p)

1 düzine	24
2 deste	30
2 düzine	12
3 deste	20

84 kova su ile tam dolan bir depoda 31 kova su bulunmaktadır. 14 kova daha su eklersek, depoda kaç kovalık boş yer kalır?

53 sayısının 15 eksiğinin 22 fazlası kaçtır?

Bir miktar param vardı. Babam bana 30 TL verince 73 TL param oldu. Başlangıçta kaç TL param vardı?

İki basamaklı en küçük doğal sayının 38 fazlası kaçtır?

Onluklar  $\rightarrow 50 + 30 = 80$

Birlikler  $\rightarrow 3 + 3 = + \begin{array}{r} 6 \\ 86 \end{array}$

Yukarıda hangi iki sayının zihinden toplama aşamaları verilmiştir?

A.  $21 + 18$     B.  $50 + 35$     C.  $53 + 33$