

2 / SINIFI 1. DÖNEM

1. DENEME SINAVI



Açıklamalar:

1. Deneme sınavında Hayat Bilgisi 15 soru, Türkçe 20 soru, Matematik soru olmak üzere 50 soru vardır.
2. Sınav süresi 7 dakikadır.
3. Her sorunun bir doğru cevabı bulunmaktadır. Cevap kağıdında sadece bir şıkkı işaretleyiniz.

Hazırlayan:

HAYAT BİLGİSİ

1. Aşağıdakilerden hangisi günlük yapılacak ilk iştir?

- A) Kişisel bakım B) Oyun oynamak C) Televizyon izlemek

2. Başarılı olmak için aşağıdakilerden hangisi gereklidir?

- A) Canımız istediğinde çalışmak
B) Her zaman, her yerde çalışmak
C) Planlı ve disiplinli çalışmak

3. " Ali, her resim dersinde defterini unutuyor." Ali niçin defterini unutuyor olabilir?

- A) Çantasını zamanında hazırlamadığı için
B) Annesi ona yardım etmediği için
C) Kahvaltı etmediği için

4. Aşağıdakilerden hangisi için yardım alınmaz?

- A) Okula gelip gitmek için
B) El ve yüzü yıkamak için
C) Kıyafetleri temizlemek için

5. Aşağıdakilerden hangisi için yardım al ?

- A) Banyo yapmak için
B) Diş fırçalamak için
C) Yemek yemek için

6. Aşağıdakilerden hangisi bir okul kuralı olamaz?

- A) Koridor yüksek sesle konuşmak
B)
C) Merdivenlerin sağından inip çıkmak

7. Kulüp çalışmaları, öğrencilere aşağıdakilerden hangisini sağlar?

- A) Derslerinde başarılı olmayı
B) Sorumluluk kazanmayı
C) Kendini beğenmiş olmayı

8. Aşağıdakilerden hangisi grup çalışmasının önemini anlatır?

- A) Sakla samanı, gelir zamanı.
B) Bir elin nesi var, iki elin sesi var.
C) Davulun sesi uzaktan hoş gelir.

9. " Rengini şehitlerimizden, ay yıldızı gökten alır."

Ayhan öğretmen, aşağıdakilerden hangisini anlatmaktadır?

- A) İstiklal Marşı
B) Türk Bayrağı
C) Gençliğe Hitabe

10. "Dengeli beslenmek" ne demektir?
A) Kahvaltı yapmak B) Akşam yemeği yemek C) Her tür besinden yeterince almak
11. Aşağıdakilerden hangisi, insanların farklılıklarına örnektir?
A) Elif esmer, Azra sarıdır.
B) Ahmet ve Miraç kısa boyludur.
C) Selman ve Bahattin kahverengi gözlüdür.
12. İnsanlar birbirinden farklıdır çünkü..... cümlesini aşağıdakilerden hangisi tamamlar?
A) her insanın farklı özellikleri vardır.
B) her insan birbirine benzer.
C) her insan güler, ağlar.
13. Arkadaşım üzgün olduğunda..... cümlesini aşağıdakilerden hangisi tamamlar?
A) ben mutlu olurum.
B) ben de üzülürüm.
C) ben gülümserim

14.



C



15. Sınıf başkanlığı seçimi için aday olmak ve oy kullanmak bizim.....

cümlesini en iyi aşağıdakilerden hangisi tamamlar?

- A) demokratik hakkımızdır. B) için önemlidir. C) için eğitim hakkıdır.

TÜRKÇE

Minik tavşan, yaz sıcağından bunalmıştı. İleride küçük bir dere vardı. O dereye serinleyebilirdi. Ama kim kalkacaktı yerinden. Hem dere kenarında zebralar vardı. Zebraların arasında arkadaşı Çizgili de vardı. Minik tavşan, okulda Çizgili ile ufak bir tartışma yaşamıştı. Tam da bu sırada Çizgili yanına geldi: "Haydi gel beraber koşu yarışı yapalım." Dedi.




Minik tavşan, buna çok mutlu oldu. Beraberce göl kenarına gittiler. Akşama kadar arkadaşça eğlendiler.


Aşağıdaki 1. 2. ve 3. soruları okuduğunuz metne göre cevaplayınız.


- Okuduğunuz metne en uygun başlık aşağıdakilerden hangisidir?
A) Koşu Yarışı B) Öfkeli Tavşan C) Minik Tavşan
- Okuduğunuz metnin geçtiği mevsim aşağıdakilerden hangisidir?
A) İlkbahar B) Yaz C) Kış
- Minik Tavşan'ın metnin başında ve metnin sonundaki yüz ifadeleri nasıldır?

	Önce	Sonra
A)	bunalmış	mutlu
B)	üzüntülü	korkulu
C)	mutlu	öfkeli

- Aşağıdaki öğrencilerden hangisi alfabemizdeki harf sayısını doğru bilmiştir?

A)  Alfabemizde 29 harf vardır.

B)  Alfabemizde 21 harf vardır.

C)  Alfabemizde 8 harf vardır.

- Aşağıdaki bilgilerden hangisi **yanlıştır**?

- A) Alfabemizde 21 ünsüz harf vardır.
- B) Alfabemizde 8 ünlü harf vardır.
- C) e, i, ö, ü harfleri kalın ünlü harflerdir.

- " Kalem " sözcüğündeki ünlü harfler hangileridir?

- A) k, l, m B) a, e C) Ka - lem

- " Tiyatro " sözcüğünde kaç ünsüz vardır?

- A) 3 B) 4 C) 5

8. Aşağıdaki harflerden hangisi aynı zamanda bir hecedir?

A) a

B) b

C) c

9. Aşağıdaki sözcüklerden hangisi yanlış hecelenmiştir?

A) san - dal - ye

B) kal - em - lik

C)

10. " Kraliçe " sözcüğü kaç hecelidir?

A) 2

B) 3

C) 4

11.    Yandaki verilen hecelerle hangi sözcük oluşturulabilir?

A) makara

B) kamera

C) krema

12. Aşağıdaki sözcüklerden satır sonunda hecesine yanlış bölünmüştür?

A) pazart-
esi

B) pa-
zartesi


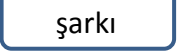

C) pazar-
tesi

13. Sözcüklerin ne anlama geldiğini alfabetik olarak açıklayan kitaba ne denir?

A) İmla Kılavuzu

B) Ansiklopedi

C) Sözlük

14.    Sözcüklerinin alfabetik sıralaması aşağıdakilerden hangisidir?

A) balık - mandal - şarkı

B) balık - şarkı - mandal

C) mandal - şarkı - balık

15. " Elif, müzik dersini seviyor." cümlesi kaç sözcükten oluşmuştur?

A) 4

B) 5

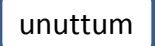

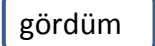
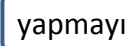
C) 6

16. Aşağıda verilen sözcüklerden hangisinin **karşıt(zıt)** anlamı yanlış yazılmıştır?

A) büyük - küçük

B) tatlı - acı

C) eski - taze

17.    

Karışık olarak verilen sözcüklerden anlamlı ve kurallı bir cümle oluşturulduğunda dışarıda kalan sözcük hangisidir?

A) ödevlerimi

B) gördüm

C) yapmayı

18. Aşağıdaki sözcüklerden hangisinin yazımı doğrudur?

A) yumırtı

B) eşşek

C) tren

19. Aşağıdaki sözcüklerden hangisi iki hecelidir?

A)

B) eşek

C) tren

20. "Bu ağaç çok uzun." cümlesinde altı çizili sözcüğün zıt anlamlısı aşağıdakilerden hangisidir?

A) kısa

B) büyük


C) kocaman

MATEMATİK

1. Aşağıdaki seçeneklerden hangisi **düzineye** örnektir?

- A) 
- B) 
- C) 

2. Aşağıdaki lambaları iki desteye tamamlamak için kaç tane daha lamba gereklidir?

- 
- A) 5
B) 6
C) 7

3. 2 düzine limon, 1 deste limondan ne kadar fazladır?

- A) 10
B) 12
C) 14

4.  Aşağıdaki ifadelerden hangisi doğrudur?


- A) İneklerin ayak sayılarının toplamı 1 düzinedir.
B) İneklerin ayak sayılarının toplamı 1 düzineden azdır.
C) İneklerin ayak sayılarının toplamı 1 düzineden fazladır.

5. 2 birlik, 7 onluktan oluşan sayı kaçtır?

- A) 72
B) 27
C) 20

6. Yandaki onluk taban blokları ile gösterilen sayı kaçtır?

- A) 25
B) 42
C) 24



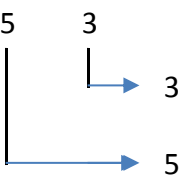
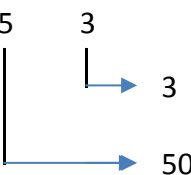
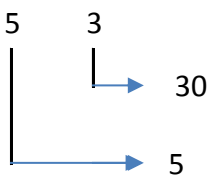
7. 54 sayısında 4'ün bulunduğu basamağın adı nedir?

- A) onlar basamağı
B) birler basamağı
C) basamağı

8. 65 sayısının onlar basamağındaki rakamına 3 eklersek oluşan yeni sayı hangisi olur?

- A) 68
B) 85
C) 95

9. 53 sayısındaki rakamların basamak değeri hangi seçenekte doğru yazılmıştır?

- A) 
- B) 
- C) 

10. Aşağıdaki seçeneklerde doğal sayılar ve çözümleri verilmiştir. Hangisi yanlıştır?

- A) 37 = 3 onluk + 7 birlik
- B) 63 = 3 onluk + 6 birlik
- C) 81 = 8 onluk + 1 birlik

11. 70, 49, 64, 8, 37 sayıları büyükten küçüğe doğru sıralandığında ortadaki sayı kaç olur?

- A) 64
- B) 49
- C) 37

12. 67 sayısının onlar basamağında bulunan rakamına 2 eklersek sayıda nasıl bir değişiklik olur?

- A) 2 artar
- B) 20 artar
- C) 2 azalır

13. Yanda verilen toplama işleminde "elde" kaçtır?

$$\begin{array}{r} 28 \\ 36 \\ + 19 \\ \hline \end{array}$$

.....

- A. 3
- B. 2
- C. 1

14. 64 Yandaki sayı hangi onluklar arasında yer alır?

- A) 50 - 60
- B) 60 - 70
- C) 70 - 80

15. Yandaki toplama işlemi sayılarını en yakın onluğa yuvarlayarak yaparsak sonuç kaç olur?

$$\begin{array}{r} 38 \rightarrow \text{.....} \\ + 24 \rightarrow + \text{.....} \\ \hline \end{array}$$

.....

- A) 40
- B) 50
- C) 60

ÖĞRENCİNİN

ADI SOYADI :

Kitapcık Türü:

HAYAT BİLGİSİ

- 1 (A) (B) (C)
2 (A) (B) (C)
3 (A) (B) (C)
4 (A) (B) (C)
5 (A) (B) (C)
6 (A) (B) (C)
7 (A) (B) (C)
8 (A) (B) (C)
9 (A) (B) (C)
10 (A) (B) (C)
11 (A) (B) (C)
12 (A) (B) (C)
13 (A) (B) (C)
14 (A) (B) (C)
15 (A) (B) (C)
16 (A) (B) (C)
17 (A) (B) (C)
18 (A) (B) (C)
19 (A) (B) (C)
20 (A) (B) (C)

DOĞRU :

YANLIŞ :

TÜRKÇE

- 1 (A) (B) (C)
2 (A) (B) (C)
3 (A) (B) (C)
4 (A) (B) (C)
5 (A) (B) (C)
6 (A) (B) (C)
7 (A) (B) (C)
8 (A) (B) (C)
9 (A) (B) (C)
10 (A) (B) (C)
11 (A) (B) (C)
12 (A) (B) (C)
13 (A) (B) (C)
14 (A) (B) (C)
15 (A) (B) (C)
16 (A) (B) (C)
17 (A) (B) (C)
18 (A) (B) (C)
19 (A) (B) (C)
20 (A) (B) (C)

DOĞRU :

YANLIŞ :

MATEMATİK

- 1 (A) (B) (C)
2 (A) (B) (C)
3 (A) (B) (C)
4 (A) (B) (C)
5 (A) (B) (C)
6 (A) (B) (C)
7 (A) (B) (C)
8 (A) (B) (C)
9 (A) (B) (C)
10 (A) (B) (C)
11 (A) (B) (C)
12 (A) (B) (C)
13 (A) (B) (C)
14 (A) (B) (C)
15 (A) (B) (C)
16 (A) (B) (C)
17 (A) (B) (C)
18 (A) (B) (C)
19 (A) (B) (C)
20 (A) (B) (C)

DOĞRU :

YANLIŞ :