

.....

İLKOKULU

2. SINIF

1.DÖNEM 2.DENEME

SINAVI

Adı:

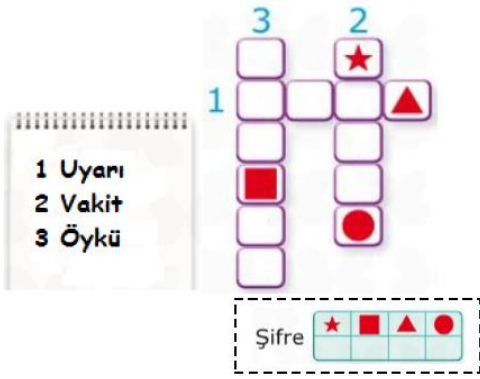
Soyadı :

Sınıfı:.....

No :

TÜRKÇE

1.



Kağıtta verilenlerin **eş anlamlarını** bulmacaya yazdığımızda şifre ne olur?

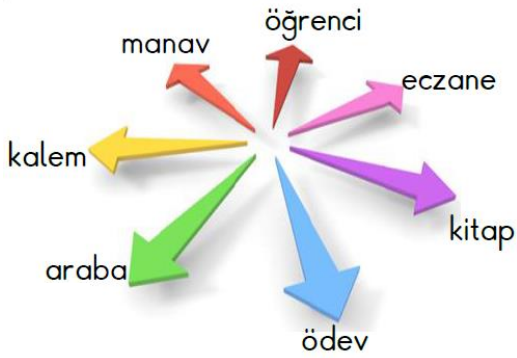


A)

B)

C)

2.



Yukarıda verilen kelimelerden kaç tanesi " sınıf" kelimesini **çağırıştırır**?

A) 5

B) 4

C) 3

3. Aşağıdaki olaylardan hangisi **geçmişte gerçekleşmiştir**?

- A) Geçen hafta dayımlar bize geldi.
- B) Leyla yemek yiyor.
- C) Yarın okulda deneme sınavı var.

4.

İshak ile Yusuf parka gittiler.

Yukarıdaki cümlede hangi sorunun cevabı **yoktur**?

- A) Kimler
- B) Nereye
- C) Ne zaman

5.



Yukarıdaki meyveler **alfabetik sıraya** göre sıralanırsa doğru sıralama nasıl olur?



A)

B)

C)

domates

aile

bakkal

anne

tencere

öğrenci

okul

6. Yukarıda verilen kelimelerden kaç tanesi **3 hecelidir**?

A) 6

B) 5

C) 4

7.

- Eyvah() Eşeğim kayıp()
- Bana yemek () su ve para verirsen yerini söylerim ()

Yukarıdaki karşılıklı konuşmada ayraçla belirtilen () yerlere **sırasıyla** hangi noktalama işaretleri gelmelidir?

A) (,) (!) (,) (.)

B) (!) (.) (,) (.)

C) (!) (.) (,) (?)


MATEMATİK

1. 5 birlik 7 onluk

Yukarıdaki sayı ile ilgili verilen bilgilerden hangi yanlıştır?

- A) Sayının okunuşu yetmiş beştir.
B) Basamak değerleri 50 ve 7'dir.
C) En yakın onluğu 80' dir.


2.



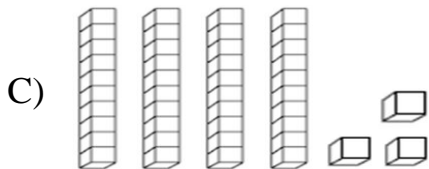
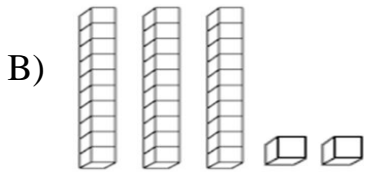
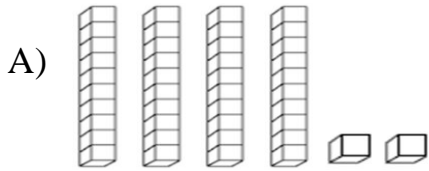
Yukarıdaki kalemli düzineye , silgileri desteye tamamlamak için kaçar tane daha eklemem gerekir?

	KALEM	SİLGİ
A)	2	1
B)	4	1
C)	4	3

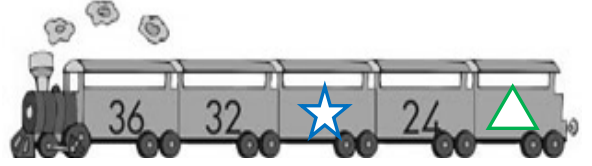
3.



Yukarıda verilen işlemin sonucunun modelle gösterimi aşağıdakilerden hangisidir?



4.



Yukarıda yapılan ritmik saymada; ve yerine hangi sayılar gelmelidir?



- A) 28 20
B) 28 22
C) 30 20

5.

65, 23, 38, 19, 52

Yukarıdaki sayıların küçükten büyüğe doğru sıralaması hangi seçenekte verilmiştir?

- A) 65 – 52 – 38 – 23 – 19
B) 19 – 23 – 52 – 38 – 65
C) 19 – 23 – 38 – 52 – 65

6. Aşağıdaki sayılardan hangisi en büyüktür?

- A)

Birler Basamağı: 5
Onlar Basamağı: 8

B)

Birler Basamağı: 7
Onlar Basamağı: 3

C)

Birler Basamağı: 9
Onlar Basamağı: 2

7. 43 sayısının basamak değerleri farkı kaçtır?

- A) 7 B) 43 C) 37

8.



$$\begin{array}{r} 8 \text{ Onluk} + 5 \text{ Birlik} \\ - 4 \text{ Onluk} + 9 \text{ Birlik} \\ \hline \dots \text{ Onluk} + \dots \text{ Birlik} \end{array}$$

Aşağıdakilerden hangisi yukarıdaki işlemin **sonucudur**?

A) $4 \text{ Onluk} + 3 \text{ Birlik}$

B) $3 \text{ Onluk} + 6 \text{ Birlik}$

C) $5 \text{ Onluk} + 4 \text{ Birlik}$

9.

Aşağıdaki sayılar en yakın onluğa yuvarlanarak eşleştirilmiştir. Hangi seçenekteki eşleme **yanlıştır**?



A) $85 \rightarrow 90$

B) $58 \rightarrow 60$

C) $44 \rightarrow 50$

10.



Araba yarışında sondan 3. olan araba, **baştan** kaçınıcı sıradadır?

A) 8 B) 7 C) 6

11. Aşağıda verilen işlemlerden hangisinde **hata** yapılmıştır?

A) $61 - 27 = 34$

B) $70 - 50 = 20$

C) $84 - 25 = 79$

12.



Yukarıda verilen süt şişelerinin sayısını hangi öğrenci daha yakın **tahmin** etmiştir?

A)



30

B)



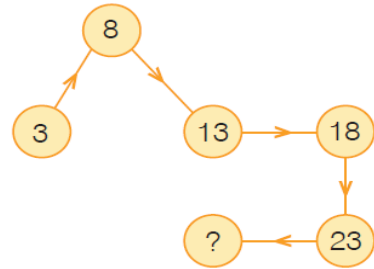
26

C)



22

13.



Yukarıdaki ritmik saymada **soru işareti** olan yere hangi sayı gelmelidir?

A) 28 B) 29 C) 30

14.

$$90 - 60 = 30$$

$$80 - 20 = 50$$

$$50 - 40 = 10$$

$$40 - 40 = 0$$

Yukarıda verilen işlemlerden kaç tanesi **doğru** yapılmıştır?

A) 4 B) 3 C) 2

15.

$$\begin{array}{r} 23 \\ + \square \\ \hline 61 \end{array}$$

Yandaki toplama işleminde **verilmeyen sayı** kaçtır?

A) 84 B) 28 C) 38

HAYAT BİLGİSİ

1.



Kızım , bu akşam misafirlerimiz var. Babanın kız kardeşi yanibize



Çok sevindim tamam anneciğim.

Konuşmadaki **boşluğa** seçeneklerden hangisi gelmelidir?

- A) Dayın B) Teyzen C) Halan

2. Aşağıdakilerden hangisi **doğru** bir davranıştır?

- A) Farklı fiziksel özelliklere sahip olan insanlarla dalga geçmek.
B) Oyun oynarken en çok sevdiğimiz arkadaşlarımıza öncelik vermek.
C) Oyun ya da çalışmalarımızda kız – erkek ayrımı yapmamak.

3.

Evde uygulanan kurallardan hangisi **doğrudur**?

- A) Evin kurallarını baba belirler.
B) Tüm işleri anne yapar.
C) Kuralları aile bireyleri birlikte belirler.

4.

Neslihan , öğretmeni ders anlatırken

.....

Bu ifade aşağıdakilerden hangisiyle tamamlanırsa Neslihan , **dinleme kurallarına** uymuş olur?

- A) Sözü kesmeden dinledi.
B) Sözü bitmeden soru sordu.
C) Başka şeylerle ilgilendi.

5.

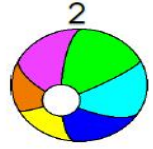


Arkadaşım Ali uzun boylu, Yunus Emre ise kısa boyludur.

Yukarıdaki ifadeden aşağıdakilerden hangisine ulaşılabilir?

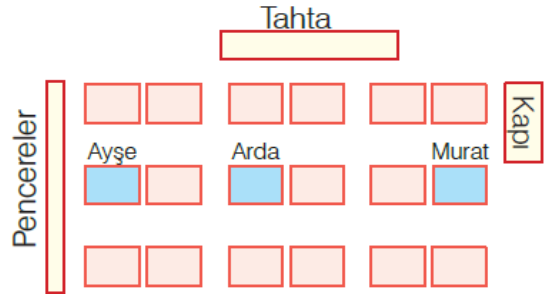
- A) Kişilerin farklı fiziksel özelliklere sahip olduğuna
B) Kişilerin farklı ilgi ve becerilerinin olduğuna
C) Kişilerin farklı duygusal özelliklere sahip olduğuna

6. Aşağıdaki görsellerin **öncelik** sırası nasıl olmalıdır?



- A) 3 – 2 – 1
B) 1 – 2 – 3
C) 1 – 3 – 2

7.



Ayşe — Pencere tarafındaki sıra grubunun ikincisinde oturuyor.

Murat — Kapi tarafındaki sıra grubunun en başında oturuyor.

Arda — Ortadaki sıra grubunun en arkasında oturuyor.

Yukarıdaki oturma planına göre hangi öğrencinin oturduğu yeri **doğru tarif** edilmiştir?

- A) Ayşe'nin B) Murat 'ın C) Arda'nın

8. Aşağıdaki çocuklardan hangisinin satın aldıklarının tamamı **ihtiyaçtır?**

A)  → Su, ekmek ve çikolata




B)  → Cips , dondurma ve su

C)  → Simit , su ve kurşun kalem

9.

anneanne	dayı	amca
hala	teyze	babaanne

Tablodaki **anne tarafından** akraba olanlar boyanırsa tablo nasıl görünür?

A)  B)  C) 

10.

	Akrabalarımızı sadece bayramlarda ziyaret etmeliyiz.
	Baba tarafından olan akrabalarımız daha önemlidir.
	İyi günde ve kötü günde akrabalarımızın yanında olmalıyız.

Yukarıdaki tabloda doğru olanlara " D" yanlış olanlara " Y" yazarsam görünüm nasıl olur?

A)

D
D
D

 B)

Y
Y
D

 C)

Y
D
D

11. Hangisi grup çalışmalarının bize kazandırdıklarından **değildir?**

- A) Yeteneklerimizi geliştirir.
B) İletişim becerilerimizi geliştirir.
C) Ayrımcılık anlayışımızı geliştirir.

- 12.
- Sen oynama
 - Lütfen
 - Kolay gelsin
 - Geçmiş olsun
 - Git başımdan

Yukarıdaki ifadelerden kaç tanesi **nezaket ifadesidir?**

- A) 2 B) 3 C) 4

- 13.



Leyla , Mersin'de yaşayan Recep öğretmenine mektup yazmıştır.

Adres kısmında aşağıdaki bilgilerden hangisinin bulunmasına **gerek yoktur?**

- A) Sokak adı
B) Mahalle adı
C) Öğretmenin yaşı

- 14.

Kaynaklar ve kullanım alanları eşleştirilmiştir. Hangi eşleştirmede yanlışlık yapılmıştır?

Kaynaklar	Kullanım alanları
A) Elektrik	aydınlatma
B) Kömür	ısıtma
C) Doğal gaz	temizlik

15. Aşağıdaki davranışlardan hangisi **tutumlu** bir kişi tarafından yapılmıştır?

- A) Okul harçlığımdan bir kısmını kumbaraya atıyorum.
B) Babamın verdiği harçlığın hepsini okulda harcıyorum.
C) Defterim olduğu halde yenisini aldım.

İNGİLİZCE

1.



Yandaki görseli ifade eden seçenek hangisidir?

- A) Good night
B) Good morning
C) Sit down please

2.

Hangi eşleştirme **yanlıştır**?



Ambulance



lemon



hospital

3.



Yukarıdaki görselin İngilizce karşılığı nedir?

- A) Open your book
B) Open the door
C) Close your book

4.

Kapı aç



Yandaki görseli ifade eden cümle aşağıdakilerden hangisidir?

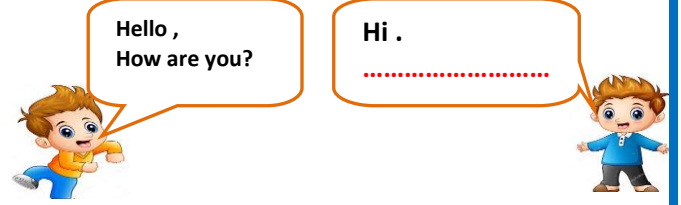
- A) Close the window
B) Open the door
C) Open the window

5.

Hangisi "What is your name?" sorusunun cevabı **olamaz**?

- A) I am okay.
B) I 'm Derya.
C) My name is Derya.


6.



Yukarıdaki konuşmada boş olan yere aşağıdakilerden hangisi gelmelidir?

- A) My name is Beratcan.
B) Sit down please.
C) I 'm fine, Thank you. You ?

7.



Yandaki görselin İngilizce karşılığı aşağıdakilerden hangisidir?

Sağa dön

- A) Stand up B) Turn right C) Turn left


8.

Hangisinin ismi **yanlış** yazılmıştır?



Door

A)



window

B)



Good bye

C)

9.

Aşağıdaki eşleştirmelerden hangisinde **hata** yapılmıştır?

A)




Sit down

B)



Stand up

C)



Book