

2. SINIF MATEMATİK

Aşağıdaki soruları yanıtlayınız.

Sınıflar	Mevcutlar
2 / A	29
2 / B	25
2 / C	28

(İlk 3 soruyu tabloya göre yanıtlayınız.)





1.) 2/A ve 2/B sınıflarında toplam kaç öğrenci vardır?

A blank 10x10 grid for graphing, consisting of 10 columns and 10 rows of squares.

2.) 2/A ve 2/C sınıflarında toplam kaç öğrenci vardır?

A blank 10x10 grid for graphing, consisting of 10 columns and 10 rows of squares.

3.) 2/B ve 2/C sınıflarında toplam kaç öğrenci vardır?

Semboller	Sayılar
	38
	17
	24
	49

(Sembollere karşılık gelen sayılara göre aşağıdaki soruları yanıtlayınız.)

4.)  +  = ?

5.)  +  = ?

6.)  +  = ?

7.)  +  = ?

8.)  +  +  = ?

Kişiler	Yaşlar
Selda	19
Metin	36
Yunus	22
Mine	63

(Yukarıdaki tabloya göre aşağıdaki soruları yanıtlayınız.)

9.) Selda ile Yunus'un yaşları toplamı kaçtır?

10.) Metin ile Mine'nin yaşları toplamı kaçtır?

11.) Selda, Metin ve Yunus'un yaşları toplamı kaçtır?

12.) Aşağıdakilerden hangisinin yaşlarının toplamını bulurken eldeli toplama işlemi yaparız?

- a) Metin + Yunus
- b) Yunus + Mine
- c) Selda + Mine

Kıyafetler	Fiyatlar
Kazak	37 TL
Gömlek	23 TL
Pantolon	56 TL
Atlet	5 TL

(Yukarıdaki tabloya göre aşağıdaki soruları yanıtlayınız.)

13.) Aşağıdakilerden hangilerinin toplam fiyatını bulurken eldesiz toplama işlemi yaparız?

- a) Pantolon + Atlet
- b) Gömlek + Kazak
- c) Pantolon + Gömlek

14.) Aşağıdakilerden hangilerinin toplam fiyatını bulurken eldeli toplama işlemi yaparız?

- a) Gömlek + Pantolon
- b) Atlet + Gömlek
- c) Pantolon + Kazak

15.) 2 kazak alan biri kaç lira öder?

16.) 1 kazak, 1 gömlek, 1 atlet alan biri kaç lira öder?