

## 2. SINIF MATEMATİK

Aşağıdaki soruları yanıtlayınız.

Sınıflar	Mevcutlar
2 / A	35
2 / B	28
2 / C	33

(İlk 3 soruyu tabloya göre yanıtlayınız.)





1.) 2/A ve 2/B sınıflarındaki öğrenci sayıları farkı kaçtır?

[illegible]

**2.)** 2/A ve 2/C sınıflarındaki öğrenci sayıları farkı kaçtır?

[illegible]

**3.)** 2/C ve 2/B sınıflarındaki öğrenci sayıları farkı kaçtır?

Semboller	Sayılar
	90
	63
	47
	21

(Sembollere karşılık gelen sayılara göre aşağıdaki soruları yanıtlayınız.)

4.)  -  = ?

5.)  -  = ?

6.)  -  = ?

7.)  -  = ?

8.)  -  = ?

Kişiler	Yaşlar
Akif	23
Sevtap	48
Müjgan	50
Hatice	37

(Yukarıdaki tabloya göre aşağıdaki soruları yanıtlayınız.)

9.) Müjgan ile Hatice'nin yaşları farkı kaçtır?

10.) Sevtap ile Akif'in yaşları farkı kaçtır?

11.) Müjgan ile Akif'in yaşları farkı kaçtır?

12.) Aşağıdakilerden hangisinin yaşlarının farkını bulurken onluk bozarak çıkarma işlemi yaparız?

- a) Hatice - Akif
- b) Sevtap - Akif
- c) Müjgan - Sevtap

Kıyafetler	Fiyatlar
Kazak	50 TL
Gömlek	43 TL
Pantolon	68 TL
Atlet	6 TL

(Yukarıdaki tabloya göre aşağıdaki soruları yanıtlayınız.)

13.) Aşağıdakilerden hangilerinin farkını bulurken onluk bozmadan çıkarma işlemi yaparız?

- a) Pantolon - Gömlek
- b) Gömlek - Atlet
- c) Kazak - Gömlek

14.) Aşağıdakilerden hangilerinin farkını bulurken onluk bozarak çıkarma işlemi yaparız?

- a) Pantolon - Atlet
- b) Kazak - Atlet
- c) Pantolon - Gömlek

15.) Pantolon ve kazağın fiyatları farkı kaç liradır?

16.) 80 lirası olan biri 1 gömlek alırsa kaç lirası kalır?