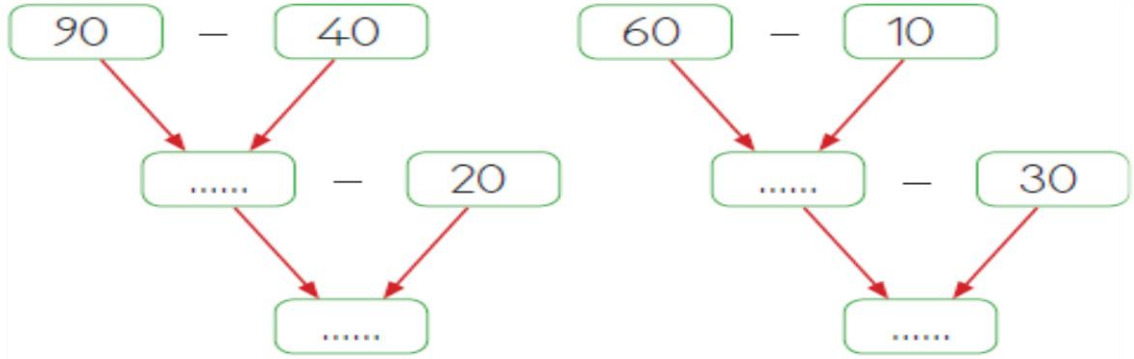


ADI SOYADI: .....

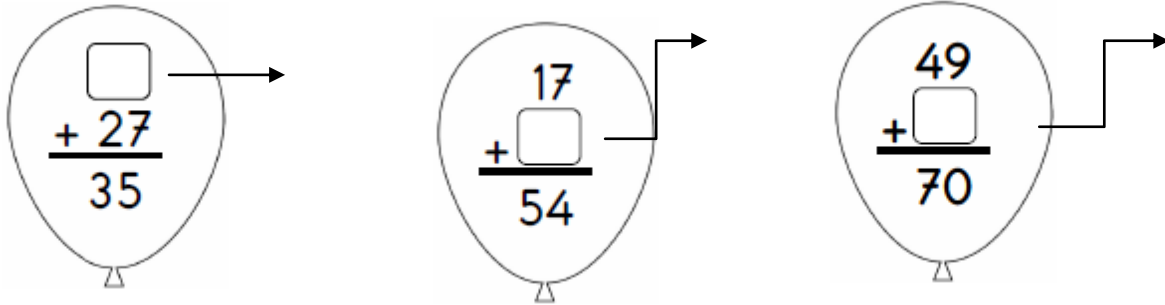
1.soru ) Aşağıdaki Toplama ve Çıkarma İşlemlerini Yapınız

$\begin{array}{r} 43 \\ + 25 \\ \hline \end{array}$	$\begin{array}{r} 62 \\ - 21 \\ \hline \end{array}$	$\begin{array}{r} 76 \\ + 15 \\ \hline \end{array}$	$\begin{array}{r} 80 \\ - 45 \\ \hline \end{array}$	$\begin{array}{r} 53 \\ - 17 \\ \hline \end{array}$	$\begin{array}{r} 58 \\ + 37 \\ \hline \end{array}$
---	---	---	---	---	---

2. soru ) Aşağıdaki çıkarma işlemlerinde verilmeyen sayıları zihinden işlem yaparak bulunuz.



3. soru ) Toplama işlemlerinde verilmeyen sayıları bulunuz.



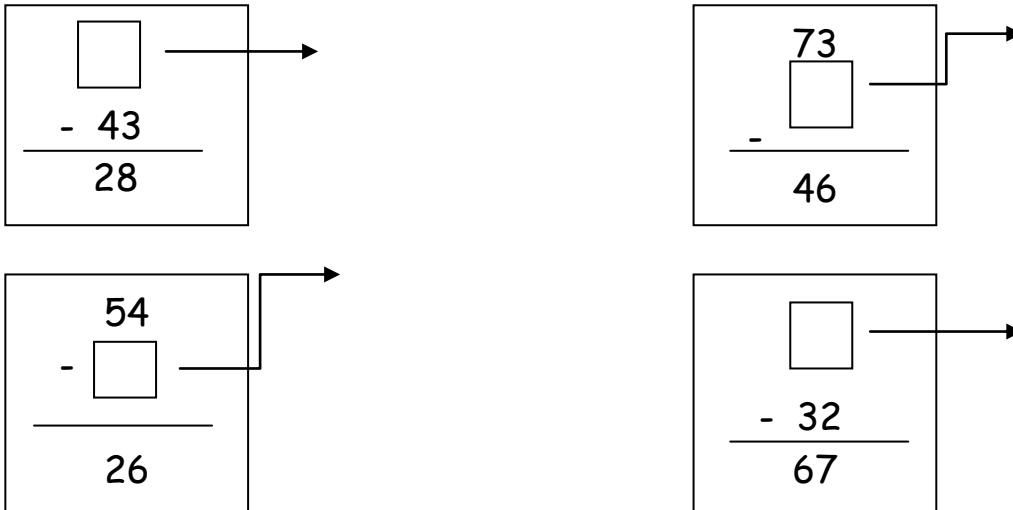
4. soru ) Aşağıdaki tabloları doldurunuz.

GERÇEK	TAHMİNİM	FARK
$\begin{array}{r} 36 \\ + 27 \\ \hline \end{array}$		

GERÇEK	TAHMİNİM	FARK
$\begin{array}{r} 55 \\ + 11 \\ \hline \end{array}$		

GERÇEK	TAHMİNİM	FARK
$\begin{array}{r} 54 \\ + 33 \\ \hline \end{array}$		

5.soru ) Aşağıdaki çıkarma işlemlerinde verilmeyen sayıları bulunuz.



6.soru ) Kaan 12 yaşındadır. Kardeşi Bahriye Su ise Kaan'dan 4 yaş küçüktür. İkisinin yaşları toplamı kaçtır?

--	--	--

7.soru) Aşağıdaki sayıları en yakın onluklara yuvarlayalım.

51	→		24	→	
9	→		87	→	
12	→		91	→	

8.soru) Aşağıdaki örüntülerde boş bırakılan yerlere uygun sayıları yazınız.  
Örüntülerin kuralını yazınız.

7	10	13		19	22
---	----	----	--	----	----

ÖRÜNTÜ KURALI:

8	12		20	24
---	----	--	----	----

ÖRÜNTÜNÜN KURALI:

9.soru )Aşağıdaki sayılar arasına büyük\_ (  $>$  ) küçük (  $<$  ) ve eşit (=) sembollerinden uygun olanı yazınız.

24 ..... 36      75.....90  
45 ..... 89      61.....37  
64 ..... 64      94.....51

10. soru ) Aşağıdaki sayıları büyükten küçüğe doğru sıralayınız.

78 - 87 - 68

11. soru ) Aşağıdaki sayıları küçükten büyüğe doğru sıralayınız.

18 - 35 - 24

12. soru) Aşağıdaki işlemlerde eşitliği sağlamak için  yerine yazacağımız sayıları bulunuz

$$16 + \square = 20 - 1$$

$$22 - 3 = 11 + \square$$

$$7 - \square = 9 - 3$$