

TEST 8

1. Aşağıdakilerden hangisi uzunluk ölçüsü birimi değildir?

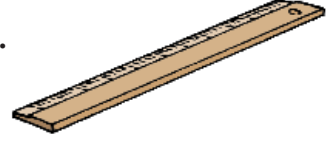
A.



B.



C.



2. Bir elin baş parmağı ile küçük parmağı arasındaki uzaklığa ne ad verilir?

A. parmak

B. kulaç

C. karış

3. Bahçenizin çevresini doğal uzunluk ölçüsü birimi ile ölçmeniz gerekti. Hangisini kullanırsınız?

A. kulaç/karış

B. adım/karış

C. adım/ayak

4. Bir futbol maçında topa 9 adım uzaklıkta baraj oluşturuluyor. Kaleci ile baraj arasındaki uzaklık ise 8 adımdır. Bu durumda top kaleciye kaç adım uzaklıktadır?

A. 15

B. 17


C. 19

5. Resimdeki kişiler hangi uzunluk ölçüsü birimini kullanmaktadır?

A. adım

B. karış

C. metre




ZAMANI ÖLÇELİM


Saat: Bir günlük sürenin yirmi dört eşit parçasından bir parçası. Zamanı ölçen araç.



Akrep: Saatin iki ibresinden küçük olanı. Saatleri gösterir.



Yelkovan: Saatin iki ibresinden büyük olanı. Saatin dakikalarını gösterir.



Bir işin veya bir oluşun içinde geçtiği, geçeceği, geçmekte olduğu süreye **zaman** diyoruz Bu zamanı da saatle ölçeriz.