

## TEST


1 -



Yukarıdaki görselde çanta ,masanın neresindedir ?

A) Altında B) Üstünde C) Önünde

2 -



Yukarıdaki görsele göre hangisi daha yüksektedir ?

A)



B)

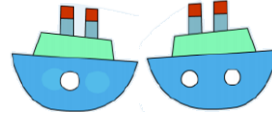


C)



3 - Hangi seçenekte verilen nesneler eş değildir ?

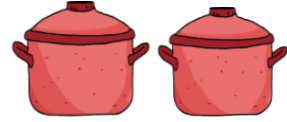
A)



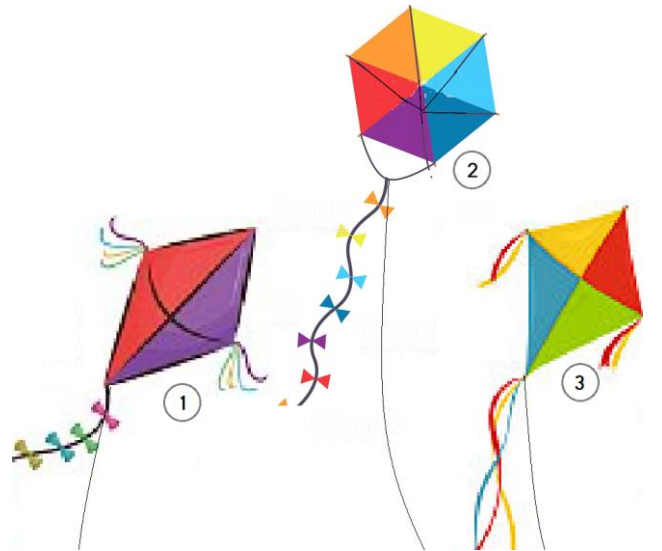
B)



C)



4 -



Yukarıdaki uçurtmaları en yüksekten başlayarak sıraya koyarsak sıralama nasıl olur ?

A) 1 - 2 - 3

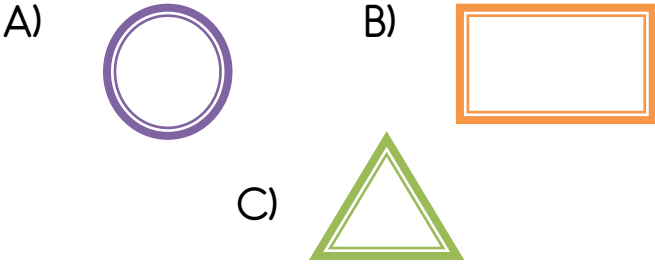
B) 2 - 3 - 1

C) 3 - 1 - 2

## TEST



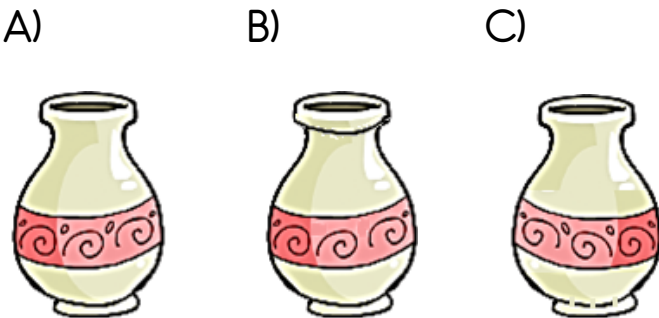
Yukarıdaki geometrik şekillerinden karenin sağında hangi şekil vardır ?



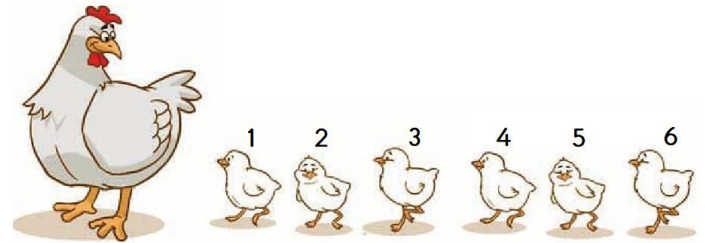
7 - “ Bir koşu yarışında 2. sırada yer alan Rüzgar , 3. 'nün . . . . . ”

Yukarıdaki cümlelerin doğru tamamlanabilmesi için noktalı yere aşağıdaki kelimelerden hangisi yazılmalıdır ?

- A) yanındadır B) önündedir  
C) arkasındadır



8 -



“ Asya , görseldeki civcivlerin baştan ve sondan 3. olanları sarıya boyadı. ”

Asya , kaç numaralı civcivleri boyamıştır ?

- A) 2 - 3  
B) 3 - 4  
C) 4 - 5


## TEST

9 - Aşağıdaki görsel ile ilgili verilen bilgilerden hangisi doğru değildir ?



- A) Uras 'ın karşısında , İnci var .
- B) Kivanç , Uras 'ın solundadır .
- C) Duru , İnci 'nin sağındadır.

10 - Ecrin ;



" 1 kare sola ; 2 kare yukarı ; 3 kare sağa ve 3 kare aşağıya gidiyor ."

Ecrin yukarıdaki yönergeleri uyguladığında hangi harfe ulaşır ?

- A) **B**
- B) **D**
- C) **C**

11 -



Yukarıdaki görselde İhsan 'ın önünde ve arkasında kim vardır ?

- A) İhsan 'ın önünde Serra , arkasında Eslem vardır.
- B) İhsan 'ın önünde Eslem , arkasında İrfan vardır.
- C) İhsan 'ın önünde İrfan , arkasında Eslem vardır.

12 -



Aşağıdaki görsel ile ilgili verilen bilgilerden hangisi doğrudur ?

- A) Kelebek tümsektedir.
- B) Yılan çukurdadır .
- C) Karınca , yılanı göre tümsektedir.

## TEST

13 - Aşağıdaki görselde hangi seçenekte kedi ağacın sağındadır ?

A)



B)



C)



15 - Aşağıdaki meyvelerden hangisi tabağın içinde değildir ?



A)



B)



C)



13 -



Sınıfımızda bulunan " Şeref Köşesi 'nde " bayrak , Atatürk resminin neresindedir ?

- A) Sağında
- B) Üstünde
- C) Altında

16 -



Yukarıda üst üste dizilmiş kitapların ortadaki , öğretmenimin bana hediye ettiği kitaptır.

Buna göre , öğretmenimin hediye ettiği kitap kaç numaralı kitaptır ?

A)



B)



C)

