

Adı:  
Soyadı:  
Numara:

## DEĞERLENDİRME ETKİNLİĞİ ( )



1)- ?



Yukarıdaki varlıklar bir kurala göre sıralanmıştır. Soru işareti yerine hangileri gelmelidir?

- A) B) C)

2)- " otuz dokuz " olarak okunuşu verilen doğal sayının rakam ile yazılışı hangi seçenekte verilmiştir ?

- A) B) C)

3)- 17 doğal sayısı, birer birer sayarken hangi sayılar arasında söylenir ?



- A) 15 - 17  
B) 14 - 15  
C) 16 - 18

4)- Hangi arkadaşım diğerlerinden büyük bir sayı söylemiştir ?

- A) 41  
B) 28  
C) 19

5)- Aşağıdaki yıldız kümelerinden hangisi bir düzine yıldızı doğru olarak ifade eder?

- A) B) C)

6)- Arkadaşım Karagöz, 20'den başlayıp 80'e kadar saydı. Sayma sırasında hangi sayıyı söylemeyi unuttu ?



- A) 20-30-40-50-60-70-80  
B) 20-30-50-60-70-80  
C) 20-30-40-50-60-70-80-90

7)- Yandaki sayı, kaç onluk ve kaç birlikten oluşmuştur ?

- A) 7 birlik, 2 onluk  
B) 2 onluk, 7 birlik  
C) 7 onluk, 2 birlik

8)- Ben rakamın birlik kısmıyım. Ben rakamın onluk kısmıyım. Yukarıdaki onluk ve birlikleri belirtilen sayı hangisidir ?

- A) 56 B) 65 C) 60-

Diğer sayfaya geçiniz.

9)- İkişer ikişer ileri doğru 20'ye kadar sayarken aşağıdaki sayılardan hangisini söyleyemeyiz ?



10)-



Bir tavuğun önceden yumurtadan çıkmış civcivlerinin yanına yumurtadan yeni çıkan civcivler katıldı. Tavuğun kaç civcivi oldu ?

A) 7 B) 8 C) 9




11)-

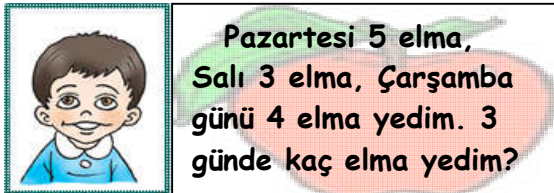


Aslı ile Umut'un kaç kalemi vardır ?

A) 6 B) 4 C) 10



12)-




Pazartesi 5 elma, Salı 3 elma, Çarşamba günü 4 elma yedim. 3 günde kaç elma yedim?

A) 12 B) 15 C) 8



13)- + 8 = 18 İşleminde yerine aşağıdaki sayılardan hangisi yazılmalıdır ?

A) 11 B) 10 C) 9



14)-  $4 + 14 = 18$  İşleminin okunuşu, hangi seçenekte doğru olarak ifade edilmiştir ?

- A) Dört artı bir dört, eşittir bir sekiz eder.  
B) Dört eşittir on dört, artı on sekiz eder.  
C) Dörde on dört eklersek on sekiz eder.

15)- Benim 15 fındığım vardı. 6 tanesini arkadaşşıma verdim. Bu durumda kaç fındığım kaldı ?

A) 10 B) 9 C) 8



16)-  $12 - 5 = ?$   $14 - 7 = ?$

$11 - 1 = ?$

Yukarıdaki hangi bulutlardaki işlemlerin sonuçları aynıdır ?

