


MATEMATİK

Adı:..... Soyadı:.....
Numarası: Sınıfı:..... Tarih:/...../.....


DOĞAL SAYILARLA TOPLAMA İŞLEMİ

1. Aşağıdaki modele göre toplam kaçtır?



- A) 12
B) 9
C) 8

2. Aşağıdaki çanta ile resim defterini almak için kaç Türk lirası ödemeliyim?



- A) 12
B) 14
C) 15

3. Aşağıdaki kutuların hangisinde daha az tebeşir vardır?



4. Aşağıdaki modele göre "?", olan bölümde kaç kedi olmalıdır?

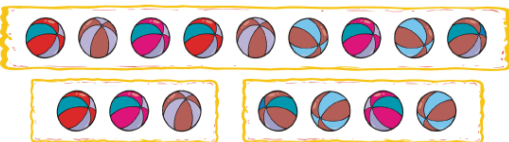


- A) 4
B) 5
C) 10

5. Aşağıdaki kutuların hangisinde daha çok kalem vardır?



6. Aşağıda toplam kaç tane top vardır?



- A) 16
B) 14
C) 12

7. Aşağıdaki toplam işlemlerinden hangisi yanlış yapılmıştır?

- A) $10 + 7 = 17$
B) $17 + 1 = 18$
C) $18 + 0 = 19$

8. Aşağıdaki görseli ifade eden işlem hangisidir?




- A) $5 - 2$
B) $5 - 3$
C) $5 + 3$

9. Aşağıdaki görseli nasıl ifade ederiz?



- A) 4'ten 2 çıkarırız.
B) 4'e 2 ekleriz.
C) 4'ten 2 eksiltiriz.

10. 12 çileğe, 5 çilek daha eklersek kaç çilek eder?



- A) 11
B) 15
C) 17

11.

12 havucum var, 6 havuç daha toplarsam kaç havucum olur?



- A) 18
B) 17
C) 16

12.



Yandaki pastanın üzerine 3 mum daha koyarsak kaç mum eder?

- A) 7
B) 8
C) 9