



ADİYAMAN İL MİLLÎ EĞİTİM MÜDÜRLÜĞÜ

KAZANIM PEKİŞTİRME ÇALIŞMASI

LIFE FITS INTO HOME

HAYAT EVE SIĞAR



1. SINIF
11-16 MAYIS

4.
SAYI

BU KİTAPÇIKTA

TÜRKÇE	10 SORU
MATEMATİK	10 SORU
HAYAT BİLGİSİ	10 SORU

Yer almaktadır.

Not: Cevap anahtarı soruların yayımlandığı günden sonraki pazartesi günü <http://adiyaman.meb.gov.tr/> duyurular sekmesinde açıklanacaktır.

Bu çalışmada yer alan Borsa İstanbul ilkokulu, Cumhuriyet ilkokulu, Mehmetçik ilkokulu, Menderes ilkokulu idareci ve öğretmenlerine teşekkürler...

ADİYAMAN MEM

2020

1. SINIF KAZANIM PEKİŞTİRME TESTİ

TÜRKÇE DERSİ

ATATÜRK

Atatürk ülkemizin ve devletimizin kurtarıcısıdır.Selanik'te doğmuştur.Annesi Zübeyde Hanım,babası Ali Rıza Bey'dir.

Atatürk ülkemiz için birçok yenilik yapmıştır.okullar,hastaneler ve üniversiteler açmıştır.

Atatürk,dahi ve kahraman bir liderdir.Ona sevgi,saygı ve minnet duyuyoruz.

1. 2. ve 3. Soruları verilen metine göre cevaplayınız

1. Atatürk nerede doğmuştur?

- A) Selanik B) Ankara C) İstanbul

2. Atatürk'ün annesinin adı nedir?

- A) Latife Hanım B) Zübeyde Hanım C) Makbule Hanım

3. Atatürk nasıl bir liderdir?

- A) Akıllı ve zeki B) Güçlü ve kuvvetli C) Dahi ve kahraman

4. “Siyah tokası yere düştü” Cümlesinde altı çizili sözcüğün zıt anlamlısı hangisidir?

- A) Kara B) Beyaz C) Al

5. Aşağıdaki kelimelerin hangisinin yazımı yanlıştır ?

- A) ankara B) Kemal C) sinek

6. 1-tutmalıyız 2- sözü 3-verdiğimiz 4- zaman 5-her

Yukarıdaki kelimelerden düzgün bir cümle kurarsak sıralama nasıl olur?

- A) 5-4-3-2-1 B) 1-3-2-4-5 C) 5-4-1-2-3

7. Görsellerdeki hangi aracın hece sayısı diğerlerinden fazladır ?

A)



B)



C)



8. Aşağıdaki görsellerden hangisi zıt anlamlı kelimeleri ifade etmez?

A)



B)



C)



9. “Okulumuz” kelimesi satır sonuna sığmadığında nasıl böleriz?

A) o-kulumuz

B) okulu-muz

C) okul-umuz

10. Aşağıdaki kelimelerden hangisi yanlış yazılmıştır?

A) tırafik


B) traktör

C) spor

1. SINIF KAZANIM PEKİŞTİRME TESTİ

MATEMATİK

1.



Yukarıdaki masanın üzerinde 8 yarım ekmek vardır. Ekmekler kesilmeseydi, masada kaç tane bütün ekmek olurdu?

A) 3

B) 4

C) 5

2.

	MAYIS 2020					
Pazartesi		4	11	18	25	
Salı		5	12	19	26	
Çarşamba		6	13	20	27	
Perşembe		7	14	21	28	
Cuma	1	8	15	22	29	
Cumartesi	2	9	16	23	30	
Pazar	3	10	17	24	31	

Emir Muaz 29 Mayıs'da doğum gününü kutladı.
Emir Muaz kutlamayı hangi gün yapmıştır?

A) Pazartesi

B) Salı

C) Cuma

3.



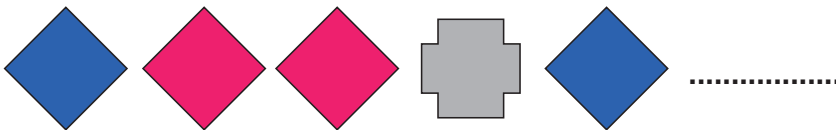
Yukarıdaki yarım elmalar birleştirildiğinde kaç bütün elma yapar?

A) 3


B) 4

C) 8


4. Aşağıdaki örüntüyü devam ettirirsek hangi şekille devam etmeliyiz?



A)



B)



C)



5.

Yandaki saat kaç göstermektedir?



A) 13

B) 12

C) 11

6.



Yukarıdaki örüntüde boş bırakılan yere hangi şekil gelmelidir ?

A)



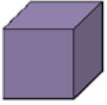
B)



C)



7.



Bu geometrik cismin adı nedir?

A) Küp

B) koni

C) Silindir

8.



Yukarıdaki geometrik şekillerin toplam kaç tane köşesi vardır?

A) 8

B) 7

C) 1

9.

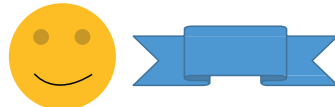


Yukarıdaki örüntüde boş bırakılan yerlere sırasıyla hangi geometrik şekiller getirilmelidir?

A)



B)



C)



10.



Yukarıdaki örüntüde “ ? ” olan yere aşağıdakilerden hangisi gelmelidir?

A) Ay

B) Yıldız

C) Güneş

1. SINIF KAZANIM PEKİŞTİRME TESTİ

HAYAT BİLGİSİ

1. Atatürk ilk önce hangi okula başlamıştır?

- A) Mahalle mektebi
- B) Şemsi Efendi İlkokulu
- C) Selanik Askeri Rüştiyesi)

2. Mustafa Kemal nerede ve ne zaman doğmuştur?

- A) Ankara'da bin dokuz yüz otuz sekizde.
- B) Selanik'te bin sekiz yüz seksen birde.
- C) Samsun'da bin sekiz yüz seksen birde.

3. Mustafa Kemal'in anne ve babasının adı sırasıyla hangi seçenekte doğru verilmiştir?

- A) Zübeyde Hanım – Ali Rıza Bey
- B) Makbule Hanım – Ali Rıza Bey
- C) Zübeyde Hanım – Mustafa Bey

4. Mustafa Kemal'in en sevdiği ders hangisidir?

- A) Matematik
- B) Beden Eğitimi
- C) Müzik

5. Atatürk 10 Kasım bin dokuz yüz otuz sekiz yılındaöldü. cümlesinde noktalı yere hangisi gelmelidir?

- A) Dolmabahçe Sarayı'nda
- B) Anıtkabir'de
- C) Selanik'te

6. Resimlerdeki hayvanlardan hangisinin barınağı diğerlerinden farklıdır ?


A)



B)



C)



7.



Görseldeki hayvan aşağıdakilerden hangisi ile beslenir ?

A)



B)



C)



8. Doğru eşleştirme hangisidir ?

A)



B)



C)



9. Aşağıdakilerden hangisini yapmak çevremizi temiz tutmamıza yardımcı olur ?

A) Pilleri istediğimiz yere atmalıyız.

B) Bol bol ağaç dikmeliyiz.

C) Toplu taşıma aracı kullanmamalıyız.

10. Aşağıdaki cümlelerden doğru olanlara “D” , yanlış olanlara “Y” yazalım ve doğru şıkkı işaretleyelim.

Su bitkilerin büyümesi ve gelişmesi için gereklidir. ()

Hava olmadan da bitkiler büyüüp gelişebilir ()

Bitkiler karanlık bir ortamda büyüüp gelişmez. ()

A) DDY

B) DYD

C) YDD

1.SINIF 4. HAFTA KAZANIM PEKİŞTİRME ÇALIŞMASI

CEVAP ANAHTARI 11-15 MAYIS

HAYAT BİLGİSİ	TÜRKÇE	MATEMATİK
1-A	1-A	1-B
2-B	2-B	2-C
3-A	3-C	3-B
4-A	4-B	4-A
5-A	5-A	5-C
6-B	6-A	6-B
7-B	7-C	7-A
8-B	8-A	8-B
9-B	9-B	9-C
10-B	10-A	10-A

İnsanın kalbi engelli
olmasın zira bizi insan yapan
kolumuz bacağımız değil

kalbimizdir...

