

# 1 . SINIFLAR İÇİN

Matematik  
TOPLAMA ÖNCESİ

ÖĞRENCİNİN

ADI:.....

SOYADI:.....


SINIFI:.....

OKUL NO:.....

2019-2020

serdaraydın@eğitimhane




Benzer nesneleri aynı renge boyala!



0 sıfır

1 bir



2 iki



3 üç

4 dört

5 beş



6 altı

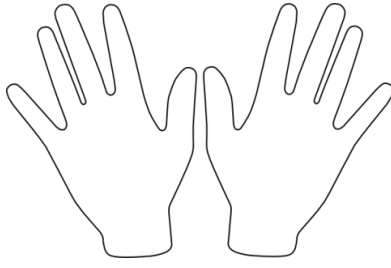
7 yedi

8 sekiz

Say ve boyala!




9 dokuz



10 on



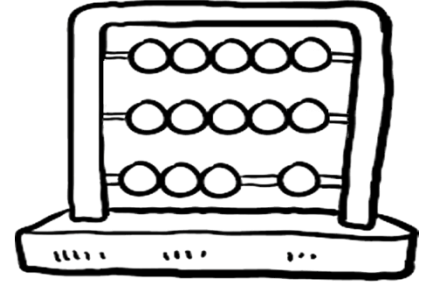
11 on bir



12 on iki




13 on üç




14 on dört



15 on beş



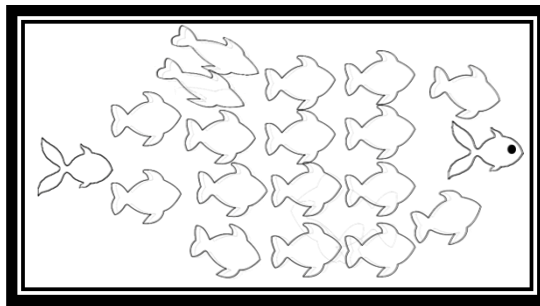
16 on altı




17 on yedi



18 on sekiz



19 on dokuz



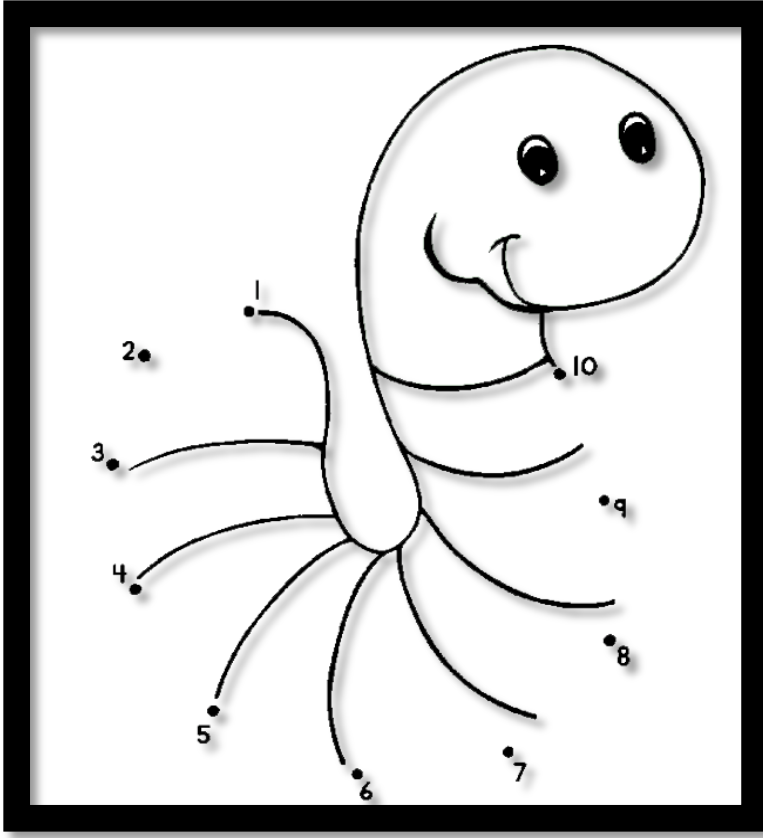
20 yirmi

0'dan 21 'e kadar sayıları rakamlarla yazalım.

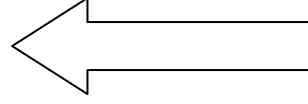
0	0 – 0 –
1	
2	
3	
4	
5	
6	
7	
8	
9	
10	
11	
12	
13	
14	
15	
16	
17	
18	
19	
20	
21	

O'dan 21 'e kadar rakamları yazı ile yazalım.

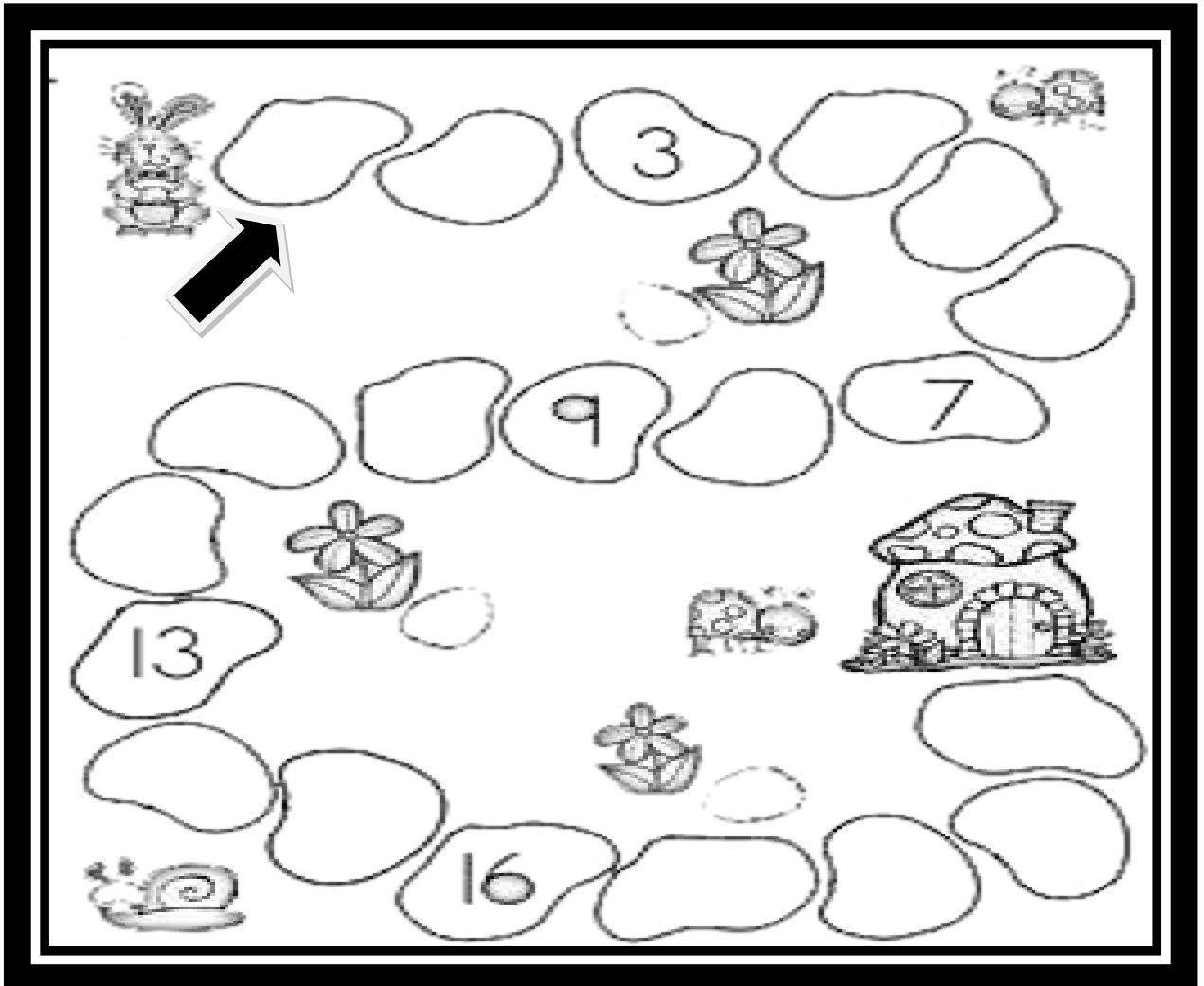
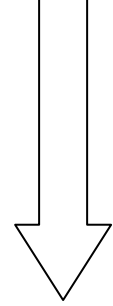
0	sıfır – sıfır – sıfır –
1	bir – bir –
2	iki
3	üç
4	dört
5	beş
6	altı
7	yedi
8	sekiz
9	dokuz
10	on
11	on bir
12	on iki
13	on üç
14	on dört
15	on beş
16	on altı
17	on yedi,
18	on sekiz,
19	on dokuz,
20	yirmi,
21	yirmi bir,



1 'den 1 0'a kadar noktaları  
rakam sırası ile birleřtirelim.




1 'den 20'ye kadar eksik rakamları yazalım.



1 'den 20'ye kadar rakamları sırayla boş kutulara yazalım.

1				5
	7		9	
11			14	
16		18		

1		3	4
5		7	
9	10		12
	14		16
17			20



		3		
	7			
11				15
		18		

1		3	4	
	7			10
11			14	
		18		

1		3		5		7		9	10
	12	13			16	17			20

	2	3		5		7	8	9	
11	12		14	15		17		19	



1 'den 20'ye kadar rakamları sırayla boş kutulara yazalım.

1			4		6		8	9	
11		13		15		17			20


	2	3		5					10
	12				16			19	

1		3				7		9	
	12		14						20


		3		5			8		10
11					16	17			



2 resim arasında 3 fark var. Bulabilir misin ?



2 resim arasında 4 fark var. Bunu bulabilir misin ?




Resim içine gizlenmiş 7 uçağı bul ve boy !



Aşağıdaki resmi, verilen sayılara karşılık renge boyayalım.

- 1 = Beyaz
- 2 = Kırmızı
- 3 = Turuncu
- 4 = Gri
- 5 = Yeşil
- 6 = Mavi
- 7 = Kahverengi
- 8 = Sarı
- 9 = Mor
- 10 = Siyah



21 'den 0'a kadar rakamları geriye doğru yazalım.

21	21 - 21 - 21 -
20	
19	
18	
17	
16	
15	
14	
13	
12	
11	
10	
9	
8	
7	
6	
5	
4	
3	
2	
1	
0	

21 'den 0'a kadar rakamları geriye doğru rakamlar ile yazalım.

21	yirmi bir – yirmi bir –
20	yirmi –
19	on dokuz –
18	on sekiz –
17	on yedi –
16	on altı –
15	on beş –
14	on dört –
13	on üç –
12	on iki –
11	on bir –
10	on –
9	dokuz –
8	sekiz –
7	yedi –
6	altı –
5	beş –
4	dört –
3	üç –
2	iki –
1	bir –
0	sıfır –

# 20'den geriye sayma



Minik kurbağamız bir ilki deneyecek. Geri geri zıplayarak arkadaşının yanına ulaşmaya çalışacak. Boş satırları 20'den geriye doğru 1'e kadar dolduralım, minik kurbağaya yardım edelim.

20	19			17	16	15			13	12		10					4	3	2	1
----	----	--	--	----	----	----	--	--	----	----	--	----	--	--	--	--	---	---	---	---

20						15					10					5				
----	--	--	--	--	--	----	--	--	--	--	----	--	--	--	--	---	--	--	--	--

20				17		15					10					5				1
----	--	--	--	----	--	----	--	--	--	--	----	--	--	--	--	---	--	--	--	---

20					16						10					5				
----	--	--	--	--	----	--	--	--	--	--	----	--	--	--	--	---	--	--	--	--

20	19	18	17	16	15	14	13	12	11	10	9	8	7	6	5	4	3	2	1
----	----	----	----	----	----	----	----	----	----	----	---	---	---	---	---	---	---	---	---

20								13	12							5				
----	--	--	--	--	--	--	--	----	----	--	--	--	--	--	--	---	--	--	--	--

20							14					10								1
----	--	--	--	--	--	--	----	--	--	--	--	----	--	--	--	--	--	--	--	---

20			18						12											1
----	--	--	----	--	--	--	--	--	----	--	--	--	--	--	--	--	--	--	--	---

20						15									7					
----	--	--	--	--	--	----	--	--	--	--	--	--	--	--	---	--	--	--	--	--

	19																			1
--	----	--	--	--	--	--	--	--	--	--	--	--	--	--	--	--	--	--	--	---


			18							11										
--	--	--	----	--	--	--	--	--	--	----	--	--	--	--	--	--	--	--	--	--

								13												
--	--	--	--	--	--	--	--	----	--	--	--	--	--	--	--	--	--	--	--	--

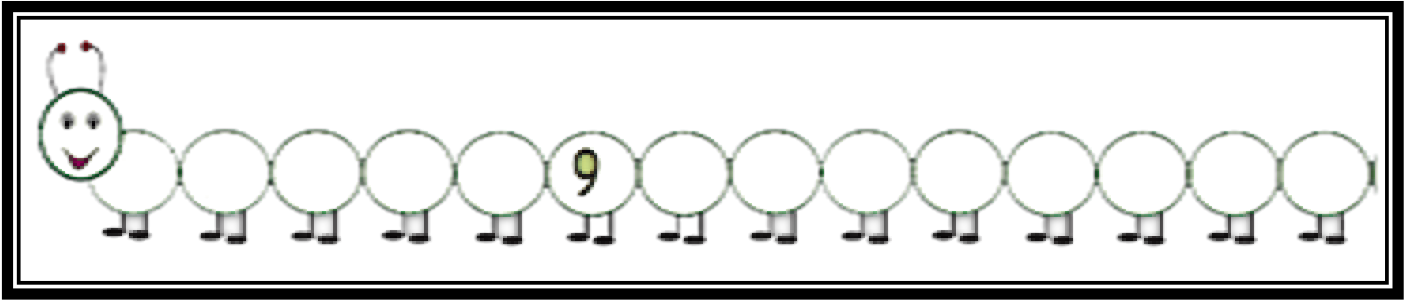
--	--	--	--	--	--	--	--	--	--	--	--	--	--	--	--	--	--	--	--	--



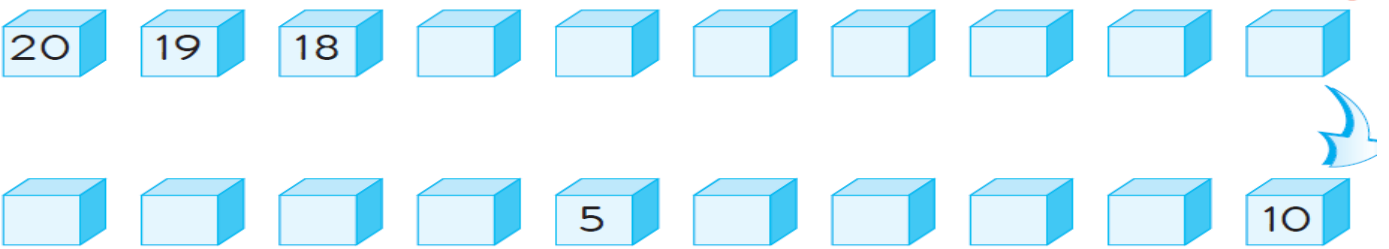
Ağacın üzerindeki 20 elmayı boyayalım ve toplayalım.



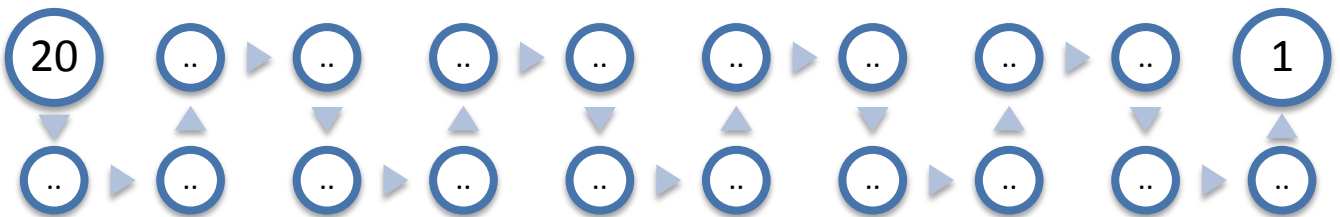
Aşağıdaki tırtılın içinde 1 4'ten geriye doğru sayıları yaz.



20'den geriye eksik sayıları 1'erli yaz.

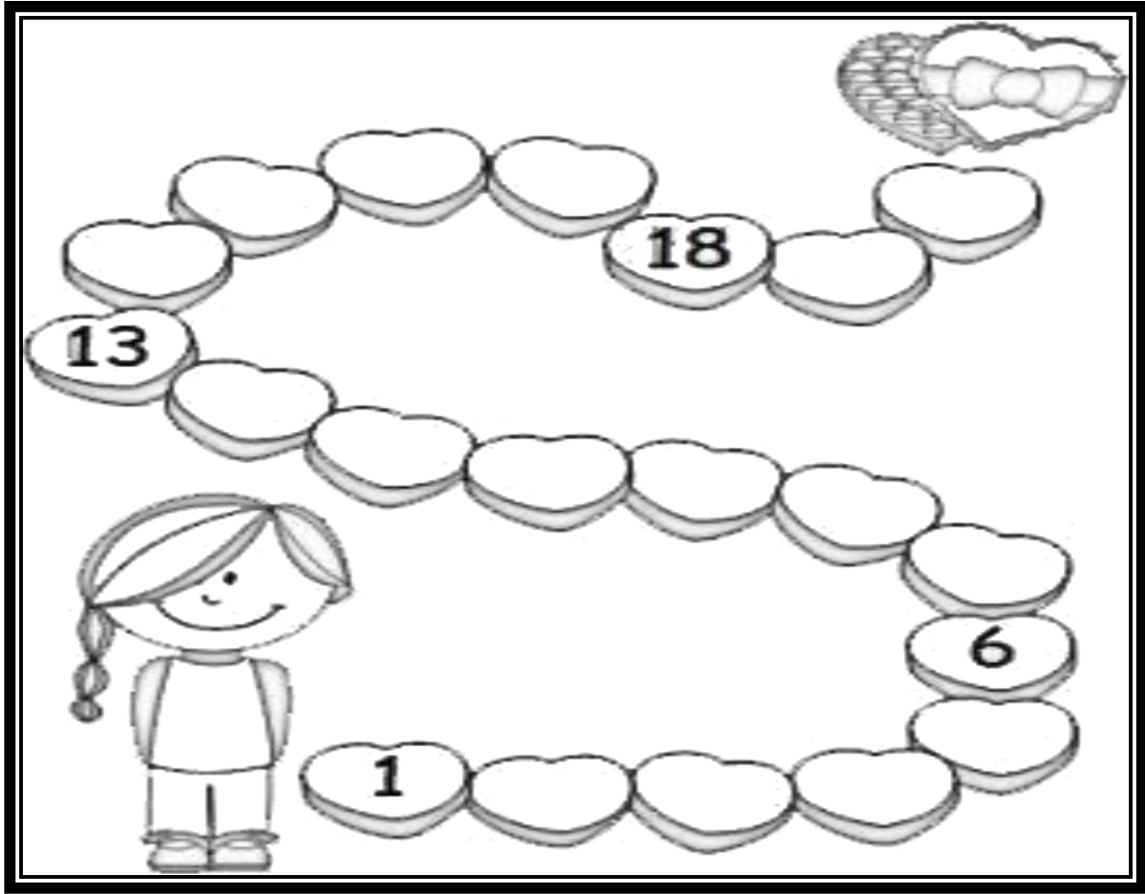


Çok Dikkat !!! Okları izle 20'den geriye yaz. !!!





20'den geriye sayalım.



1 'den 20'ye noktaları kalemle izle, ve boya.





5'ten sonrasını yazalım.

1	2	3	4	5					

7'den sonrasını yazalım.

1	2	3	4	5	6	7			

9'dan sonrasını yazalım.

1	2	3	4	5	6	7	8	9	

3'ten sonrasını yazalım.

1	2	3							

1 0'dan sonrasını yazalım.

1	2	3	4	5	6	7	8	9	10

1 'den sonrasını yazalım.

1									

5'ten öncesini yazalım.

20	19	18	17	16	15	14	13	12	11
10	9	8	7	6	5				

9'dan öncesini yazalım.

20	19	18	17	16	15	14	13	12	11
10	9								

1 0'dan öncesini yazalım.

20	19	18	17	16	15	14	13	12	11
10									

1 1'den öncesini yazalım.

20	19	18	17	16	15	14	13	12	11

1 5'ten öncesini yazalım.

20	19	18	17	16	15				

1 9'dan öncesini yazalım.

20	19								

20	19	18	17	16	15	14	13	12	11	10	9	8	7	6	5	4	3	2	1
----	----	----	----	----	----	----	----	----	----	----	---	---	---	---	---	---	---	---	---

20	19	18	17																
----	----	----	----	--	--	--	--	--	--	--	--	--	--	--	--	--	--	--	--

20	19	18	17																
----	----	----	----	--	--	--	--	--	--	--	--	--	--	--	--	--	--	--	--

20	19	18	17																
----	----	----	----	--	--	--	--	--	--	--	--	--	--	--	--	--	--	--	--

20	19																		
----	----	--	--	--	--	--	--	--	--	--	--	--	--	--	--	--	--	--	--

20	19																		
----	----	--	--	--	--	--	--	--	--	--	--	--	--	--	--	--	--	--	--

20	19																		
----	----	--	--	--	--	--	--	--	--	--	--	--	--	--	--	--	--	--	--

20																			
----	--	--	--	--	--	--	--	--	--	--	--	--	--	--	--	--	--	--	--

20																			
----	--	--	--	--	--	--	--	--	--	--	--	--	--	--	--	--	--	--	--

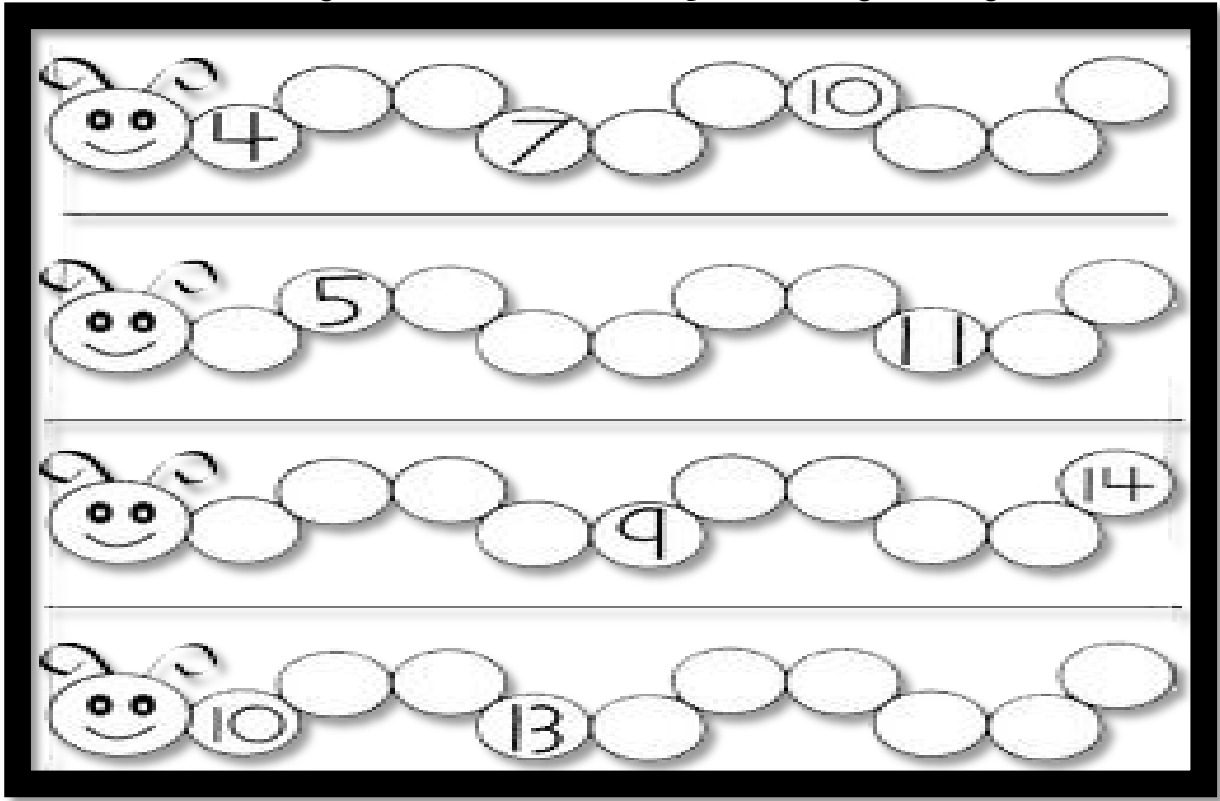
20																			
----	--	--	--	--	--	--	--	--	--	--	--	--	--	--	--	--	--	--	--

						14													
--	--	--	--	--	--	----	--	--	--	--	--	--	--	--	--	--	--	--	--

										10									
--	--	--	--	--	--	--	--	--	--	----	--	--	--	--	--	--	--	--	--

																			1
--	--	--	--	--	--	--	--	--	--	--	--	--	--	--	--	--	--	--	---

Boş kalan yerlere sırasına göre sayıları yazalım.



Hangisi artıyor ? Hangisi azalıyor ?



Sonraki rakamı yazalım.

0	<i>1</i>
1	<i>2</i>
2	
3	
4	
5	
6	
7	
8	
9	
10	
11	
12	
13	
14	
15	
16	
17	
18	
19	

5	<i>6</i>
2	<i>3</i>
4	
10	
1	
9	
6	
3	
8	
7	
0	
15	
17	
16	
11	
12	
18	
5	
19	
13	

6	<i>7</i>
10	<i>11</i>
5	
1	
8	
3	
2	
9	
4	
18	
7	
13	
11	
16	
19	
12	
17	
15	
6	
0	

13	<i>14</i>
11	<i>12</i>
6	
2	
10	
0	
9	
12	
17	
4	
8	
18	
19	
16	
1	
5	
3	
15	
7	
13	

Önceki rakamı yazalım.

	4
	6
	2
	8
	1
9	10
3	4
	5
	12
	11
	9
	7
	16
	19
	18
	13
	17
	4
	15
	20

	3
	11
	20
	6
	3
	5
	1
	8
	14
	10
6	7
8	9
	12
	18
	13
	16
	4
	19
	17
	15

	2
	12
	5
	15
	8
	16
10	11
3	4
	10
	5
	19
	1
	13
	7
	4
	9
	17
	18
	6
	3


0	1
	10
	11
	2
	12
	3
	13
	4
	14
	5
	15
	6
	16
	7
16	17
	8
	18
	9
	19
	20

Önceki ve sonraki rakamı yazalım.

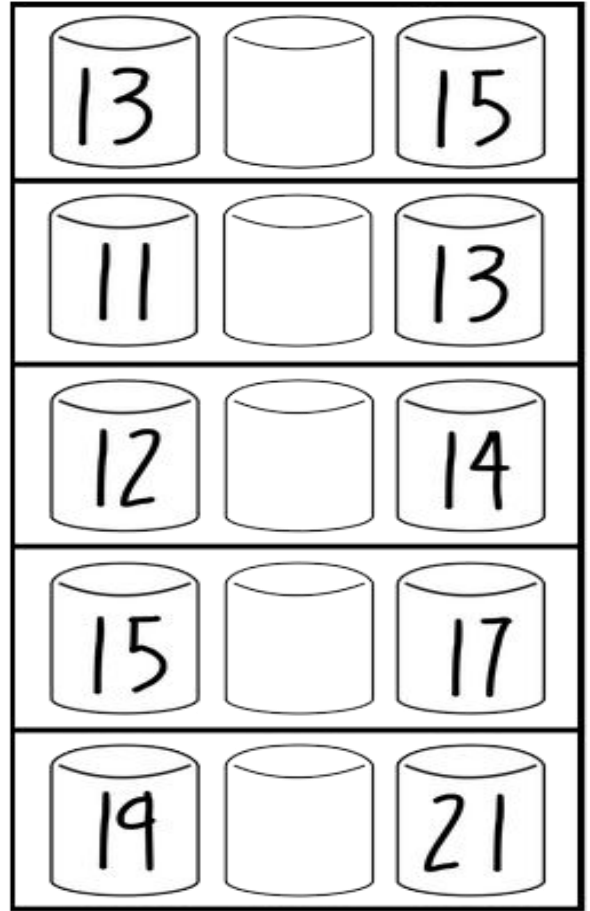
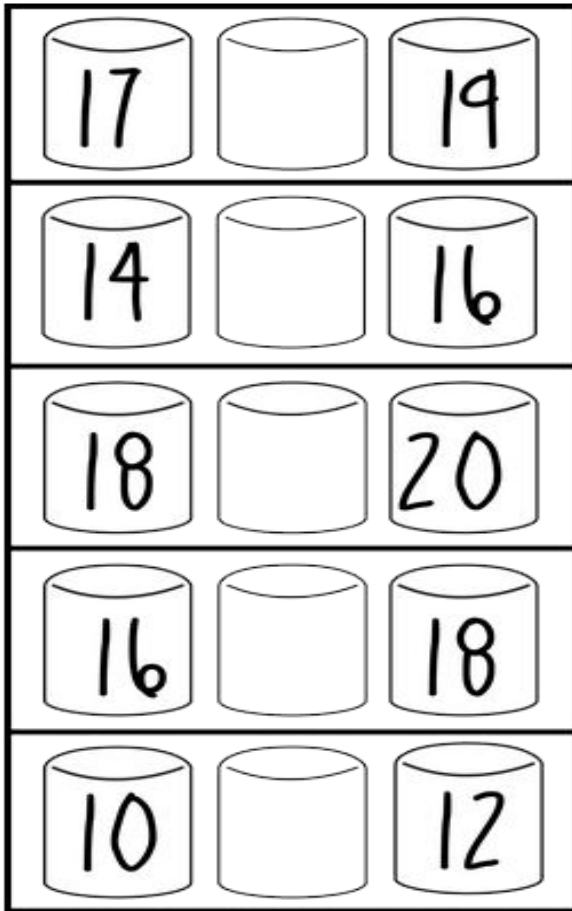
<i>0</i>	1	<i>2</i>
	2	
	3	
	4	
	5	
	6	
	7	
	8	
	9	
<i>9</i>	10	<i>11</i>
	11	
	12	
	13	
	14	
	15	
	16	
	17	
	18	
	19	
	20	

<i>4</i>	5	<i>6</i>
	2	
	4	
	10	
	1	
	9	
	6	
	3	
	8	
<i>6</i>	7	<i>8</i>
	20	
	15	
	17	
	16	
	11	
	12	
	18	
	5	
	19	
	13	

Sonraki sayıyı bul.



Aradaki rakamı bul.





Boşlukları doldur.

0		2
2		4
4		6
6		8
8		10
10		12
12		14

1		3
3		5
5		7
7		9
9		11
11		13
13		15






11		13
12	13	
13	14	
	17	18
	18	19
18		20
12		14
16	17	





Devam !



















17	18	19
	13	
	15	
	19	
	11	
	17	
	16	
	12	






4	9
3	5
17	12
6	3
19	14
10	7

Resimlerdeki nesnelerden kaç tane olduğunu rakamla yazalım.

	1	●
	2	
	3	
	4	
	5	









	
1 2 3	1 2 3
	
3 4 5	1 2 3





5					
4					
3					
2					
1					
					

Kaçar tane ?









BOO! _	 _	 _	 _	 _
 _	 _	 _	 _	

Kaç tane ?



<div style="border: 1px solid black; border-radius: 50%; width: 40px; height: 40px; display: flex; align-items: center; justify-content: center; margin: 5px;">9</div> <div style="border: 1px solid black; border-radius: 50%; width: 40px; height: 40px; display: flex; align-items: center; justify-content: center; margin: 5px;">11</div> <div style="border: 1px solid black; border-radius: 50%; width: 40px; height: 40px; display: flex; align-items: center; justify-content: center; margin: 5px;">7</div>	<div style="border: 1px solid black; border-radius: 50%; width: 40px; height: 40px; display: flex; align-items: center; justify-content: center; margin: 5px;">13</div> <div style="border: 1px solid black; border-radius: 50%; width: 40px; height: 40px; display: flex; align-items: center; justify-content: center; margin: 5px;">10</div> <div style="border: 1px solid black; border-radius: 50%; width: 40px; height: 40px; display: flex; align-items: center; justify-content: center; margin: 5px;">12</div>
<div style="border: 1px solid black; border-radius: 50%; width: 40px; height: 40px; display: flex; align-items: center; justify-content: center; margin: 5px;">15</div> <div style="border: 1px solid black; border-radius: 50%; width: 40px; height: 40px; display: flex; align-items: center; justify-content: center; margin: 5px;">14</div> <div style="border: 1px solid black; border-radius: 50%; width: 40px; height: 40px; display: flex; align-items: center; justify-content: center; margin: 5px;">13</div>	<div style="border: 1px solid black; border-radius: 50%; width: 40px; height: 40px; display: flex; align-items: center; justify-content: center; margin: 5px;">11</div> <div style="border: 1px solid black; border-radius: 50%; width: 40px; height: 40px; display: flex; align-items: center; justify-content: center; margin: 5px;">10</div> <div style="border: 1px solid black; border-radius: 50%; width: 40px; height: 40px; display: flex; align-items: center; justify-content: center; margin: 5px;">12</div>
<div style="border: 1px solid black; border-radius: 50%; width: 40px; height: 40px; display: flex; align-items: center; justify-content: center; margin: 5px;">11</div> <div style="border: 1px solid black; border-radius: 50%; width: 40px; height: 40px; display: flex; align-items: center; justify-content: center; margin: 5px;">13</div> <div style="border: 1px solid black; border-radius: 50%; width: 40px; height: 40px; display: flex; align-items: center; justify-content: center; margin: 5px;">10</div>	<div style="border: 1px solid black; border-radius: 50%; width: 40px; height: 40px; display: flex; align-items: center; justify-content: center; margin: 5px;">13</div> <div style="border: 1px solid black; border-radius: 50%; width: 40px; height: 40px; display: flex; align-items: center; justify-content: center; margin: 5px;">15</div> <div style="border: 1px solid black; border-radius: 50%; width: 40px; height: 40px; display: flex; align-items: center; justify-content: center; margin: 5px;">12</div>

Kaç tane ?

	11 12 13 14
	11 12 13 14
	12 13 14 15
	11 12 13 14
	12 13 14 15
	12 13 14 15

30 a kadar say, ařağıdaki elma senin olsun 😊

