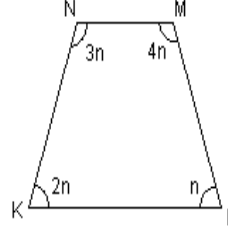
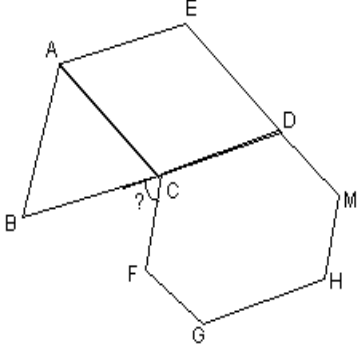


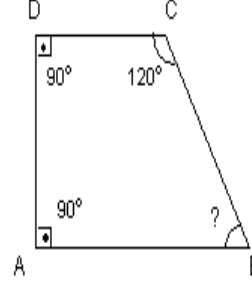
Yandaki şekilde soru işareti ile gösterilen açının ölçüsü kaç derecedir?



Yanda verilen yamukta M açısının ölçüsü kaç derecedir?

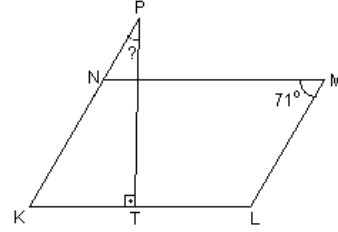
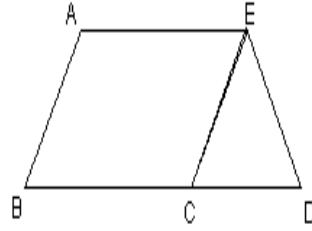


Şekilde ABC eşkenar üçgen, ACDE kare, CFGHMD ise düzgün altıgen olduğuna göre "?" ile gösterilen açının ölçüsü kaç derecedir?



Yanda verilen yamukta $\hat{s}(B)$ kaçtır?

Yandaki şekilde ABCD paralelkenar, ECD eşkenar üçgendir. Tüm şeklin çevresi 52 cm, ECD üçgeninin çevresi 18 cm ise paralelkenarın uzun kenar uzunluğu kaç cm'dir?



Yanda verilen paralelkenarda M açısının ölçüsü 71° , T açısı dik açı olduğuna göre P açısının ölçüsü kaç derecedir?

Çevrelerinin uzunluğu 60'ar cm olan 5 kare yan yana etirilerek bir dikdörtgen oluşturuluyor. Yeni şeklin çevresi kaç cm'dir?

Kısa kenar uzunluğu 68 m olan dikdörtgen şeklindeki tarlanın uzun kenarlarına 5 sıra tel çekilmiştir. Bu iş için 830 m tel kullanıldığına göre tarlanın çevresi kaç metredir?