


4. SINIF

Deneme Sınavı 2



Türkçe

Matematik

Fen ve
Teknoloji

Sosyal Bilgiler

Adı :
Soyadı :
Sınıfı :
Numarası :

TÜRKÇE TESTİ

Bu bölümde toplam 15 soru bulunmaktadır.

ÖĞRETMENİM

Bahçıvan sebze ve meyve ile uğraşır. Çoban hayvanları otlatır. Mimar binaları kurar. Heykeltıraş çamura, mermere şekil verir. Ressam fırçasıyla harikalar yaratır. Ozan dillere döker duygularını. Bunların tümü insanlık için değil mi? Öğretmen ise insanları en iyi, en güzel ve en doğru biçimde yetiştirir. En iyiyi, en güzeli ve en doğruyu öğretir. Sevgi dağıtır, iyilik diker, bilgi saçar öğretmen.

(1, 2, 3 ve 4. soruları paragrafa göre yanıtlayınız.)

1. Paragrafta hangi meslek grubuna yer verilmemiştir?
A) çoban-bahçıvan B) mimar-ressam
C) yazar-şair D) ozan-öğretmen
2. Hangisi öğretmenin bize öğrettiklerinden değildir?
A) bencillik B) iyi
C) güzel D) doğru
3. Paragrafa göre öğretmen aşağıdakilerin hangisini yapmaz?
A) Sevgiyi dağıtır.
B) Sahbet eder.
C) İyilik diker.
D) Bilgi saçar.
4. Bu paragrafa ait olmayan düşünce hangi seçenektir?
A) Öğretmen sevgisini, bilgisini öğrencilere saçar.
B) Her meslek kutsaldır ve özeldir.
C) En güzel meslek öğretmenliktir.
D) Meslek sahipleri insanlık adına uğraş verir.

5. I. Oyunu, büyük küçük herkes oynayabilir.
II. Satıcı, "Domates, biber!" diye bağıırıyordu.
III. Buralar, yaz kış yağmurlu.
Yukarıdaki cümlelerden hangisi ya da hangilerinde zıt anlamlı kelimeler bir arada kullanılmıştır?
A) Yalnız I B) I ve III
C) II ve III D) I, II ve III

6.  Ahmet, okulda Öğretmenler Günü ile ilgili konuşma yapacaktır.
Ahmet, aşağıdakilerden hangisini yaptığında dinleyenleri rahatsız eder?
A) Konuşmasını kısa tutarsa.
B) Kelimeleri yerli yerinde kullanırsa.
C) Kısık ve aynı ses tonuyla hitap ederse.
D) Konuşmasında beden dilini kullanırsa.

7. Bu yıl bayramlık almayacağız,

Yukarıdaki cümleyi en uygun hangi cümle ile tamamlayabiliriz?

- A) çünkü babamın eli çok açık.
- B) çünkü babamın eli darda.
- C) çünkü babamın eli ağır.
- D) çünkü babamın eli bol.

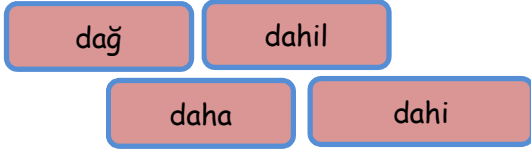
8. Bu iş taş çatlasın iki günde biter.

Yukarıdaki cümlede altı çizili sözcükler hangi anlamda kullanılmıştır?

- A) Olsa olsa B) Herhalde
C) En mükemmeli D) Ancak

9. Aşağıdaki cümlelerin hangisinde "ödül" kelimesinin eş anlamlısı vardır?
- A) Duyduklarım karşısında kulaklarıma inanamadım.
B) Ödevlerini bitirdiğin için mükafatı hak ettin.
C) Firmamız, bu alanda öncü bir kuruluştur.
D) Bin iki yüz liraya çamaşır makinesi almış.

10.



Yukarıdaki kelimelerin anlamlarını sözlük sıralamasına göre bulacak olursak, hangi kelimenin anlamını ilk önce buluruz?

- A) dahil B) daha
C) dahil D) dağ

11.

Ellerimizi gün içerisinde ne kadar çok kullanırız, bir düşünelim. Bu durum, ellerimizin çok kısa sürede yıpranmasına sebep olur. El bakımımıza önem vermeli ve onu korumaya özen göstermeliyiz.

Parçada hangi konu üzerinde duruluyor?

- A) Güzel görünmek B) Temizlik
C) El bakımı D) Cilt kuruluşu

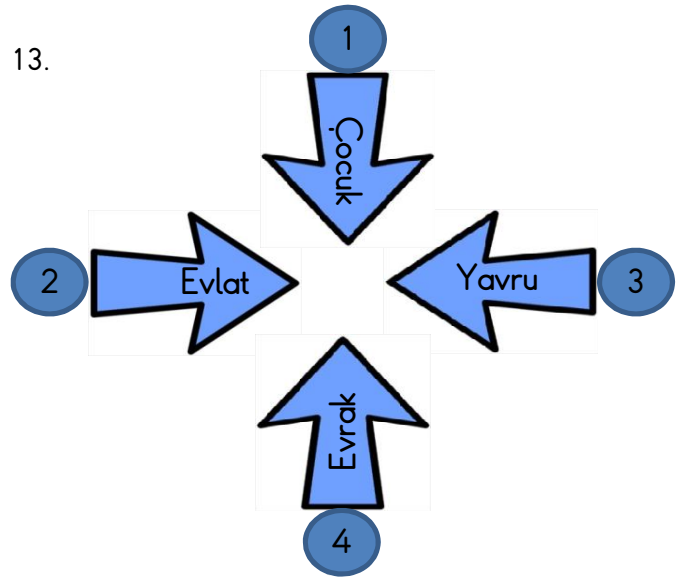
12.



Yukarıdaki cümlede kullanılan "nihayet" kelimesinin yerine aşağıdaki kelimelerden hangisi getirilmelidir?

- A) sonunda B) akşama
C) söyleyişinde D) dışarıda

13.



Yukarıdaki kelimelerin üçüyle anlam yönünden grup oluşturulursa kaç numaralı kelime dışta kalır?

- A) 1 B) 2
C) 3 D) 4

14.

Boş zaman yoktur,
..... zaman vardır.

Boş bırakılan yere getirilmesi gereken kelime ya da kelime grubu aşağıdakilerden hangisidir?

- A) güzel B) pişman olma
C) boşa geçen D) kurtuluş

15.

Öğretmenler sevgi güneşidirler. İçimizi aydınlatırlar. Bizi doğruya yöneltirler. Bilgili kişiler olmamız için çaba gösterirler. Bizlere çevremizi, dünyayı tanıtır, gerçeklere ulaşmamızı sağlarlar. Beceri ve yeteneklerimizin gelişmesine yardımcı olurlar. Kısacası toplumları öğretmenler yönlendirirler ve yetiştirirler.

Bu parçanın ana düşüncesi aşağıdakilerden hangisidir?

- A) Öğretmenlik, kutsal bir meslektir.
B) Öğretmenlerin içi sevgi ve hoşgörü doludur.
C) Toplumlari yöneten kişiler öğretmenlerdir.
D) Bir toplumu yetiştiren ve yönlendiren kişiler, öğretmenlerdir.

TÜRKÇE TESTİ BİTTİ.

YANITLARINIZI KONTROL EDİNİZ.

MATEMATİK TESTİ

Bu bölümde toplam 15 soru bulunmaktadır.



100010

Doğal sayısının okunuşu hangi seçenekte doğru olarak verilmiştir?

- A) yüz bin on B) bin on
C) on bin on D) yüz on bin

2.

568 243

Doğal sayısındaki 8 in basamak değeri ile sayı değerinin toplamı kaçtır?

- A) 80 008 B) 8 800
C) 8 080 D) 8 008

3. 4835 doğal sayısı en yakın yüzlüğe yuvarlandığında aşağıdakilerden hangisi doğru olur?

- A) Sayı 4840 olur.
B) Sayı 4900 olur.
C) Değeri 35 azalır.
D) Değeri 35 artar.



4.

5 binlik + 3 yüzlük + 2 birlik

Yukarıda çözümlenmiş hali verilen doğal sayı hangisidir?

- A) 5322 B) 5302
C) 5242 D) 5002

5. Bir çiftlikte 609 tavuk, 299 hindi, 301 kaz bulunmaktadır.

Bu çiftlikte toplam kaç hayvan vardır?

- A) 1336 B) 1209
C) 1642 D) 1146

6.

M	51	48
57	45	N
42	39	54

Yandaki tabloda her satırdaki sayıların toplamı eşit olduğuna göre, M + N kaç olur?

- A) 69 B) 79
C) 89 D) 99

7.

$37 + \dots + \dots + \dots + \dots = \star$

işlemi ardışık tek doğal sayıların toplamı olduğuna göre \star yerine kaç gelmelidir?

- A) 160 B) 205
C) 220 D) 245

8.

Aylin'in 1489 TL'si vardır. Aylin parasından 542 TL harcıyınca geriye kalan parası Derya'nın parasından 375 TL fazla oluyor.

Buna göre, Derya'nın kaç TL'si vardır?

- A) 586 B) 578
C) 572 D) 568

9.

$$\begin{array}{r} 4897 \\ - \text{hk mn} \\ \hline 2898 \end{array}$$

Yandaki çıkarma işlemine göre,
h + k toplamı kaçtır?

- A) 10 B) 14
C) 21 D) 28

10. Salim Dede 2010 yılında 84 yaşındaydı.

Buna göre, Salim Dede hangi yılda doğmuştur?

- A) 1930 B) 1928
C) 1926 D) 1924

11. Bir çay fabrikasında üretilen 4786 ton çayın ilk ay 1210 tonu, ikinci ay ise 986 tonu satılmıştır.

Buna göre, geriye kaç ton çay kalmıştır?

- A) 2596 B) 2590
C) 2480 D) 2475

12. Bir kuruyemişiçi kg'ı 8 TL'den 185 kg Antep fıstığı ve kg'ı 7 TL'den 210 kg ceviz almıştır.

Buna göre, kuruyemişiçi bu iş için toplam kaç TL ödemiştir?

- A) 2800 B) 2950
C) 3000 D) 3150

13. Ali amca, bahçesinden 126 kg elma ve 84 kg portakal toplamıştır.

Ali amca, elmanın kg'ını 4 TL'den ve portakalın kg'ını 3 TL'den satarsa toplam kaç TL kazanır?

- A) 746 B) 750
C) 456 D) 760

14. 9 katlı bir binanın her katında 6 daire ve her dairenin 5 penceresi vardır.

Buna göre, bu apartmandaki dairelerin toplam pencere sayılarını bulmak için aşağıdaki işlemlerden hangisini yapmalıyız?

- A) $(9 \times 6) \times 5$
B) $(9 + 6) \times 5$
C) $(9 \times 6) + 5$
D) $(6 + 5) \times 9$

15. Bir sinema salonunda 2 bölüm vardır. Her bölümde 12 sıra ve her sırada da 15 koltuk vardır.

Buna göre, bu sinema salonundaki toplam koltuk sayısı kaçtır?

- A) 180 B) 240
C) 320 D) 360

FEN VE TEKNOLOJİ TESTİ

Bu bölümde toplam 15 soru bulunmaktadır.

1.



Aşağıdakilerden hangisi kasların çalışması sayesinde yapılan faaliyetlerden biri değildir?

- A) Koşma B) Yüzme
C) Düşünme D) Soluk alma

2.

- I. Kafatası
II. Kollar
III. Bacaklar
IV. Göğüs kafesi

Yukarıda verilen, iskeletin temel kısımlarından hangilerinde uzun kemik bulunmaz?

- A) I ve II
B) I ve IV
C) II ve III
D) III ve IV



www.ornanad.cjp.net

3. Seçeneklerde verilen sistemler ve bu sistemle ilgili eşleştirmelerden hangisi yanlıştır?

- A) iskelet → destek
B) kas → hareket
C) solunum → oksijen
D) dolaşım → yarı oynar

4.

- I. Vücuda şekil verir.
II. Kasılıp gevşeyerek hareketi sağlar.
III. Bazı iç organları dış etkilere korur.

Yukarıda verilenlerden hangileri iskeletin görevlerinden değildir?

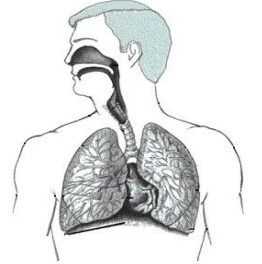
- A) Yalnız I B) Yalnız II
C) II ve III D) I, II ve III

5. Seçeneklerdeki eylemleri gerçekleştiren çocuklardan hangisinin nabızı daha az atar?

- A) Merdiven çıkan çocuğun.
B) Meyve toplayan çocuğun.
C) Kitap okuyan çocuğun.
D) Top oynayan çocuğun.

6. Solunum organlarının sıralaması hangi seçenekte doğru olarak verilmiştir?

- A) gırtlak - burun - soluk borusu - akciğer
B) burun - gırtlak - soluk borusu - akciğer
C) burun - soluk borusu - gırtlak - akciğer
D) burun - akciğer - gırtlak - soluk borusu



7. I. Stetoskopta yapılan dinlemede kalbin düzenli atıp atmadığı kontrol edilir.

II. Stetoskopta akciğerlerin dinlenmesinde soluk alıp vermaye ilgili sorun olup olmadığı araştırılır.

Stetoskopta ilgili olarak yukarıda verilen bilgiler için aşağıdakilerden hangisi söylenbilir?

- A) Yalnız I doğru
B) Yalnız II doğru
C) Her ikisi de doğru
D) Her ikisi de yanlış

8. Dolaşımla ilgili olarak aşağıda verilen bilgilerden hangileri doğrudur?
- A) Kanın damarlarda dolaşması için gerekli güç, kalp tarafından üretilir.
- B) Damarların tamamında karbondioksit oranı fazla olan kan dolaşır.
- C) Küçük yaşlarda nabız sayısı azdır Yaş ilerledikçe nabız sayısı artar.
- D) Nabzımızı bir alet olmadan sayamayız.

9.

Birey	1 dakikadaki nabız sayısı
Öğrenci 1	88
Öğrenci 2	79
Öğrenci 3	85

Üç öğrencinin normal şartlardaki nabız sayıları yukarıda verilmiştir.

Buna göre; aşağıdakilerden hangisi öğrencilerin nabız sayısının farklı olmasına sebep olan etkenlerden biri değildir?

- A) Vücut yapısı B) Göz rengi
C) Cinsiyet D) Yaş

10. Aşağıda bazı yapılar ve bu yapıların görevleriyle ilgili benzetmeler yapılmıştır. Bu eşleştirmelerden hangisi yanlıştır?

- A) İskelet - Bina demirleri
B) Kalp - Elektrik kablosu
C) Eklem - Kapı menteşesi
D) Damar - Su boruları

11. Maddenin nitelikleri ve kullanım alanlarıyla ilgili olarak, aşağıda verilenlerden hangisi doğrudur?

- A) Otomobil camları saydam maddelerden üretilir.
- B) Şemsiyeler su geçiren maddelerden üretilir.
- C) Can simitleri suda batan maddelerden üretilir.
- D) Basketbol topu berk (esnek olmayan) maddelerden üretilir.

12. Aşağıda verilenlerden hangisi bir madde değildir?

- A) Hali B) Ses
C) Hava D) Kalem

13. Un, vazo, çekiç gibi maddeleri; alet, eşya ve malzeme olarak gruplandırılırsa aşağıdakilerden hangisi doğru olur?



	Alet	Eşya	Malzeme
A)	Çekiç	Un	Vazo
B)	Vazo	Un	Çekiç
C)	Un	Çekiç	Vazo
D)	Çekiç	Vazo	Un

14. Seçeneklerdeki açıklamalardan hangisi yanlıştır?

- A) Mıknatıs demiri çeker.
- B) Işığı geçiren maddelere opak maddeler denir.
- C) Plastik şişe suda yüzer.
- D) Bardak kırılğan bir madde olan camdan yapılmıştır.

Otomobil camları saydam maddelerden üretilir.

15. Aşağıdaki bilgilerden hangisi yanlıştır?

- A) Katı maddelerin belli bir şekli yoktur.
- B) Sıvı maddeler bulundukları kabın şeklini alır.
- C) Küçük taneli maddeler bir kaptan bir kaba akarlar.
- D) Gazlar gözle görülemeyecek kadar küçük taneli bir yapıdadır.

FEN VE TEKNOLOJİ TESTİ BİTTİ.
YANITLARINIZI KONTROL EDİNİZ.

SOSYAL BİLGİLER TESTİ

Bu bölümde toplam 15 soru bulunmaktadır.

1. Sınıfa yeni gelen Ali, uzun boyu sayesinde okulun basketbol takımına seçilmiştir. Oynadığı maçlarda attığı sayılarla basketbol takımının sene sonunda şampiyon olmasına büyük katkı sağlamıştır.



Anlatılan olayda Ali'nin takıma alınma sebebi aşağıdakilerden hangisiyle ilgilidir?

- A) Fiziksel farklılığıyla
- B) Hoşgörülü biri olmasıyla
- C) Duygusal farklılığıyla
- D) Sınıfa yeni gelmesiyle

2. Aşağıdaki davranışlardan hangisi farklı bir duygunun sonucunda oluşmuştur?
- A) Gol atan futbolcunun seyircilere doğru koşması.
 - B) Sınavı iyi geçen bir öğrencinin eve güler yüzle gelmesi.
 - C) Yeni alınan bayramlık kıyafetler için çocuğun babasına sarılması.
 - D) İşe geç kalan birinin kırmızı ışıkta karşıdan karşıya geçmesi.

3. Aşağıdaki güzel sözlerden hangisi hoşgörülü olmayla ilgili değildir?
- A) Başkalarını affet ki sana da öyle davranılsın.
 - B) Sen bir söylersen ben bin söylerim.
 - C) Başkalarının kusurunu örtmede gece gibi ol.
 - D) Kendinize nasıl davranılmasını istiyorsanız başkalarına da öyle davranın.

4. Aşağıdaki davranışlardan hangisini yapan bir öğrencinin duyarlı olduğunu söyleyemeyiz?
- A) Hastalanan arkadaşına geçmiş olsun derim.
 - B) Arkadaşıma doğum gününde hediye alırım.
 - C) Sınavı kötü geçen arkadaşına moral veririm.
 - D) Etrafa çöp atan arkadaşına "Eline sağlık." derim.

5. Aynı aileden olan bireylerin yakınlık derecelerini gösteren şemaya ne ad verilir?
- A) Soy kütüğü
 - B) Soy ağacı
 - C) Aile kütüğü
 - D) Aile tutanağı

6. Berna arkadaşlarını olduğu gibi kabul etmeyip, onları sürekli eleştiriyor. Berna bu davranışı sonucu nasıl bir durumla karşılaşır?



- A) Arkadaşları onun istediği gibi davranır.
- B) Arkadaşları anlayışla karşılar.
- C) Yalnız kalır.
- D) Daha çok sevilir.

7. Öğretmenine yaptığı çalışmalarla ilgili düşüncelerini açıklamak isteyen Mete hangi davranışta bulunmalıdır?

- A) Söz alarak konuşur.
- B) Arkadaşının sözünü keser.
- C) Öğretmeninin sözünü keser.
- D) Söz almadan konuşur.

8. Sözlü tarih ile ilgili açıklamalardan hangisi doğrudur?
- A) Geçmiş dönemi yaşayan kişilerle yapılan söyleşilerdir.
B) Tarih çağları hakkında bilgi edinilir.
C) Yazılı belgelerdir.
D) Sadece bireysel bilgiler edinilebilir.

9. Aşağıdakilerden hangisi geçmişten günümüze ulaşan oyunlardan biridir?
- A) voleybol
B) basketbol
C) futbol
D) güreş

10. → Cenaze evine yemek göndermek.
→ Gelin ve damada para takmak.
→ Bayramlarda el öpmek.

Yukarıda verilen faaliyetler için aşağıdakilerden hangisi doğrudur?

A) Devlete karşı görevlerimiz arasındadır.
B) Yapmayanları devlet cezalandırır.
C) Gelenek ve göreneklerimizdendir.
D) Turistlerin hoşuna gittiği için yapılır.

11. Kurtuluş Savaşı sırasında hangi cephede savaş yapılmamıştır?
- A) Doğu cephesi
B) Batı Cephesi
C) Güney Cephesi
D) Kuzey Cephesi

12. Atatürk, Samsun'a çıktıktan sonra Amasya Genelgesi'ni yayınlamış, Erzurum ve Sivas'ta kongreler düzenlemiştir.

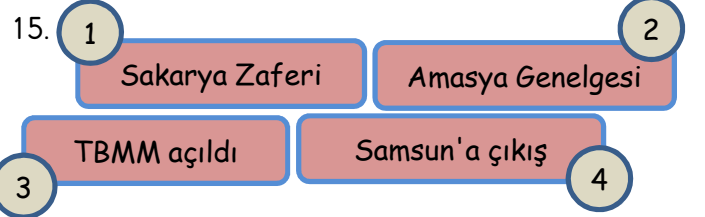
Atatürk bu çalışmalarında aşağıdakilerden hangisini amaçlamış olamaz?

A) Türk milletini düşman işgaline karşı uyarmayı.
B) Ülkemizin doğal güzelliklerini yerinde görmeyi.
C) Vatani düşmanlardan kurtarmayı.
D) Milli birliği sağlamaya çalışmayı.

13. Aşağıda Kurtuluş Savaşını yapmış olduğumuz cepheler ve savaşılan ülkeler yazılmıştır. Eşleştirmelerden hangisi yanlıştır?

- A) Doğu Cephesi-Ermeniler
B) Güney Cephesi-Fransızlar
C) Batı Cephesi-Yunanlılar
D) Doğu Cephesi-İngilizler

14. Atatürk'ün Milli Mücadele'ye başlama tarihi olarak aşağıdakilerden hangisi kabul edilir?
- A) 29 Ekim 1923
B) 30 Ağustos 1924
C) 19 Mayıs 1919
D) 23 Nisan 1920



Yukarıdaki olayların oluş tarihine göre doğru sıralandığı seçenek aşağıdakilerden hangisidir?

- A) 4 - 3 - 2 - 1
B) 3 - 4 - 1 - 2
C) 1 - 2 - 3 - 4
D) 4 - 2 - 3 - 1

SOSYAL BİLGİLER TESTİ BİTTİ.
YANITLARINIZI KONTROL EDİNİZ.

